

Тестовый раунд

Количество баллов — 20

Задание 1.


Каждый вопрос оцениваем в 1 балл.

№ вопроса	Ответ	№ вопроса	Ответ
1.1.	Г 15	1.11.	Б 15
1.2.	Б 15	1.12.	Г 15
1.3.	Б 15	1.13.	А 05
1.4.	В 15	1.14.	Г 05
1.5.	Г 05	1.15.	В 05
1.6.	А 15	1.16.	В 15
1.7.	А 15	1.17.	Б 05
1.8.	Г 15	1.18.	Б 15
1.9.	В 15	1.19.	В 05
1.10.	Б 15	1.20.	А 15

Аналитический раунд 30 баллов

258

Задание 2 (12 баллов).

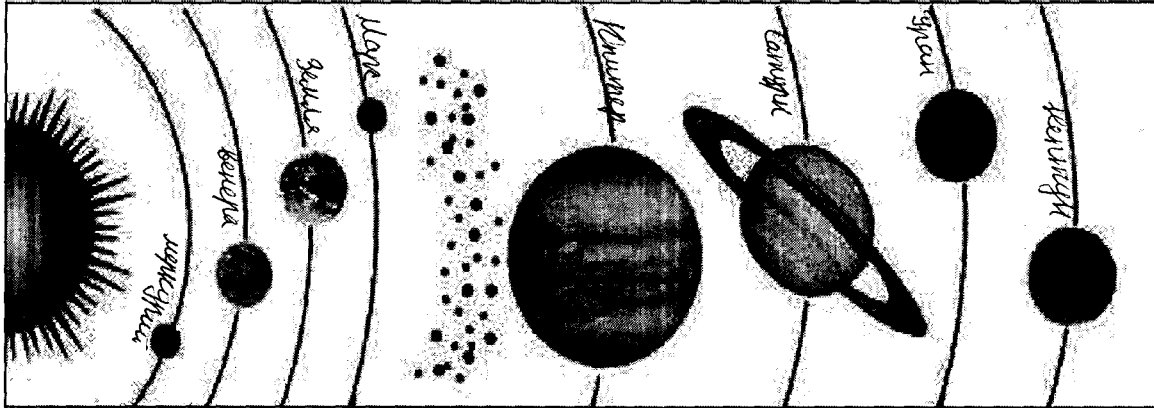


№ вопроса	Вопрос	Ответ (номер с картосхемы)
1.	Какой океан самый глубокий?	3 15
2.	Какой материк был открыт позже других материков?	6 15
3.	На каком материке расположена Индия?	4 05
4.	Какие океаны омывают берега России?	7, 10, 9 25
5.	Большая часть какого океана расположена в Южном полушарии?	9 05
6.	На каком материке расположена Бразилия?	5 05
7.	Какой океан самый холодный?	7 15
8.	Возле берегов какого материка находится остров Мадагаскар?	4 15
9.	Какой материк самый жаркий?	4 15
10.	На каком материке расположено государство США?	2 05

Задание 3 (8 баллов)

Подпишите на схематическом рисунке названия планет Солнечной системы.

8б



Задание 4 (5 баллов)

Ответ: В 5б

Задание 5. (5 баллов)

Ответ: А 0б

Задание 6 (5 баллов)

Ответ: Антарктика 0б

Задание 7. (5 баллов)

Ответ: слева, потому что они идут на юг. 5б

МАКСИМАЛЬНО ВОЗМОЖНОЕ КОЛИЧЕСТВО БАЛЛОВ за работу: 60

Председатель жюри: Д.А.И. = Троянская М.В. =

Члены жюри:

Волк Ю.И. =

Зайцева И.А. =

Школьный этап всероссийской олимпиады школьников в 2023 -2024 уч. г. по географии 5 класс

Общее время выполнения работы – 75 минут.

На задание 1 (тестовый раунд) отводится 30 минут, затем листы с ответами собираются.

На задания 2 –6 (аналитический раунд) отводится 45 минут. *Желаем успеха!*

Тестовый раунд

Количество баллов — 20

Задание 1. Задание включает 20 вопросов, к каждому из которых предложено несколько вариантов ответов. На каждый вопрос выберите один ответ, который вы считаете наиболее полным и правильным. Обведите в кружок букву выбранного ответа

1.1. Как называется наука о небесных телах?

- а) история б) география в) экология г) астрономия

1.2. Что такое глобус?

- а) модель Солнца б) модель Земли в) модель шара

1.3. Кто открыл Америку?

- а) Фернан Магеллан б) Христофор Колумб в) Михаил Лазарев.

1.4. Что на плане местности обозначают зелёным цветом?

- а) низкие участки суши б) населённые пункты
в) растительность г) высокие участки суши.

1.5. Какое море омывает берега России?

- а) Белое б) Жёлтое в) Северное г) Красное

1.6. Что в переводе с греческого языка означает слово «география»?

- а) «землеописание» б) «изучение Земли»
в) «изучение природы» г) «описание природы»

1.7. В какую из стран ты сможешь попасть, если поедешь на юг Европы?

- а) в Грецию б) в Финляндию в) в Швейцарию г) в Великобританию

1.8. Какие горы находятся не в России?

- а) Кавказ б) Урал в) Алтай г) Альпы

1.9. В какой стране находится город Одессе, в котором открыт дом-музей Г.Х. Андерсена?

- а) Швеция б) Норвегия в) Дания г) Германия

1.10. С какой страной Россия граничит?

- а) Германия б) Монголия в) Узбекистан г) Армения

1.11. Что изучают сейсмологи?

- а) ураганы б) землетрясения в) ледники г) озёра

1.12. Какой объект Всемирного наследия находится не на территории России?

- а) вулканы Камчатки б) погост Кижы
в) озеро Байкал г) мавзолей Тадж-Махал

1.13. Какой газ занимает наибольший объём в составе воздуха?

- а) кислород б) углекислый газ в) азот г) водород

1.14. В какой стране находится резиденция Санта-Клауса?

- а) Исландия б) Финляндия в) Швеция г) Норвегия

1.15. Выбери промежуточную сторону горизонта:

Школьный этап всероссийской олимпиады школьников в 2023-2024 уч. г. по географии 5 класс

- а) север б) северо-восток в) восток г) юг

1.16. Кто впервые измерил и наиболее точно вычислил размеры Земли:

- а) Пифагор б) Птолемей в) Эратосфен г) Бехайм

1.17. Какой материк пересекают все меридианы Земли?

- а) Африка б) Евразия в) Антарктида г) Австралия.

1.18. Прибор, изобретённый китайцами, способствующий развитию мореплаванию:

- А) гномон б) компас в) солнечные часы г) штурвал.

1.19. Морской путь в Индию был открыт экспедицией:

- а) Марко Поло б) Х. Колумба в) Ф. Магеллана г) Васко да Гама

1.20. Калининградская область граничит с:

- а) Литвой б) Латвией в) Германией г) Белоруссией.

Аналитический раунд 30 баллов

Задание 2 (12 баллов).

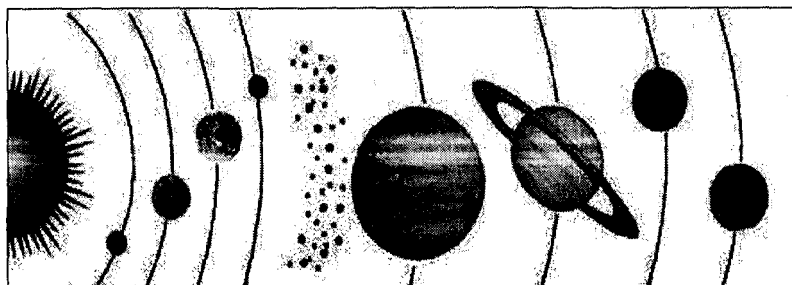
Ответьте на вопросы. В качестве ответов укажите номера материков и океанов, указанные на картосхеме.



- 1) Какой океан самый глубокий? 3
- 2) Какой материк был открыт позже других материков? 6
- 3) На каком материке расположена Индия? 4
- 4) Какие океаны омывают берега России? 4, 5
- 5) Большая часть какого океана расположена в Южном полушарии? 3
- 6) На каком материке расположена Бразилия? 6
- 7) Какой океан самый холодный? 7
- 8) Возле берегов какого материка находится остров Мадагаскар? 4
- 9) Какой материк самый жаркий? 7
- 10) На каком материке расположено государство США? 2

Задание 3 (8 баллов)

Подпишите на схематическом рисунке названия планет Солнечной системы.



Школьный этап всероссийской олимпиады школьников в 2023 -2024 уч. г. по географии 5 класс

Задание 4 (5 баллов)

Пользуясь знаниями по географии, определите в каком из пяти вариантов ответа верно определён общий признак для четырёх объектов в логическом ряду и найдено правильное обоснование для лишнего элемента.

Холм – впадина – каньон – ледник – вулкан
Варианты ответов

- А) Холм – этот объект, он имеет подошву и вершину, а все остальные – нет.
- Б) Впадина – это отрицательная форма рельефа, а все остальные – положительные. •
- Каньон – неровность земной поверхности, которая связана с рекой, а все остальные формы рельефа с ней не связаны.
- В) Ледник – это объект гидросферы, а все остальные – формы рельефа.
- Г) Вулкан – это гора, а все остальные – плоские поверхности.

Задание 5. (5 баллов)

Пользуясь знаниями по географии, определите в каком из пяти вариантов ответа верно определён общий признак для четырёх объектов в логическом ряду и найдено правильное обоснование для лишнего элемента.

Енисей – Дунай – Хуанхэ – Миссури – Ганг
Варианты ответов

- А) Енисей – единственная из рек, которая находится в России. Все остальные – в других странах.
- Б) Дунай впадает в Атлантический океан, а все остальные – в Тихий океан.
- В) Хуанхэ течёт с запада на восток, а все остальные с севера на юг.
- Г) Миссури находится в Северной Америке, а все остальные – в Евразии.
- Д) Ганг – это озеро, а остальные географические объекты – реки.

Задание 6. (5 баллов).

В толковом словаре В. Даля дано определение этого слова: «Равноденник или равноденственный, под которым дни и ночи всегда равны, а широта места – нуль». Что это?

Задание 7. (5 баллов)

Группа туристов ушла из лагеря, когда Полярная звезда виднелась впереди. Путешественники заночевали и, проснувшись поутру, отправились обратно в лагерь. С какой стороны они должны видеть восходящее солнце и почему?

МАКСИМАЛЬНО ВОЗМОЖНОЕ КОЛИЧЕСТВО БАЛЛОВ за работу: 60.

255

ШИФР Гео. 05.03.03

Школьный этап всероссийской олимпиады школьников в 2023 -2024 уч. г. по географии 5 класс
Общее время выполнения работы – 75 минут.

На задание 1 (тестовый раунд) отводится 30 минут, затем листы с ответами собираются.

На задания 2 –6 (аналитический раунд) отводится 45 минут. *Желаем успеха!*

Тестовый раунд

Количество баллов — 20

Задание 1. Задание включает 20 вопросов, к каждому из которых предложено несколько вариантов ответов. На каждый вопрос выберите один ответ, который вы считаете наиболее полным и правильным. Обведите в кружок букву выбранного ответа

1.1. Как называется наука о небесных телах?

- 16 а) история б) география в) экология г) астрономия

1.2. Что такое глобус?

- 16 а) модель Солнца б) модель Земли в) модель шара

1.3. Кто открыл Америку?

- 16 а) Фернан Магеллан б) Христофор Колумб в) Михаил Лазарев.

1.4. Что на плане местности обозначают зелёным цветом?

- 16 а) низкие участки суши б) населённые пункты
в) растительность г) высокие участки суши.

1.5. Какое море омывает берега России?

- 06 а) Белое б) Жёлтое в) Северное г) Красное

1.6. Что в переводе с греческого языка означает слово «география»?

- 16 а) «землеописание» б) «изучение Земли»
в) «изучение природы» г) «описание природы»

1.7. В какую из стран ты сможешь попасть, если поедешь на юг Европы?

- 16 а) в Грецию б) в Финляндию в) в Швейцарию г) в Великобританию

1.8. Какие горы находятся не в России?

- 06 а) Кавказ б) Урал в) Алтай г) Альпы

1.9. В какой стране находится город Оденсе, в котором открыт дом-музей Г.Х. Андерсена?

- 06 а) Швеция б) Норвегия в) Дания г) Германия

1.10. С какой страной Россия граничит?

- 06 а) Германия б) Монголия в) Узбекистан г) Армения

1.11. Что изучают сейсмологи?

- 16 а) ураганы б) землетрясения в) ледники г) озёра

1.12. Какой объект Всемирного наследия находится не на территории России?

- 06 а) вулканы Камчатки б) погост Кижы
в) озеро Байкал г) мавзолей Тадж-Махал

1.13. Какой газ занимает наибольший объём в составе воздуха?

- 16 а) кислород б) углекислый газ в) азот г) водород

1.14. В какой стране находится резиденция Санта-Клауса?

- 06 а) Исландия б) Финляндия в) Швеция г) Норвегия

1.15. Выбери промежуточную сторону горизонта:

16

Школьный этап всероссийской олимпиады школьников в 2023 - 2024 уч. г. по географии 5 класс

- a) север
- б) северо-восток**
- в) восток
- г) юг

1.16. Кто впервые измерил и наиболее точно вычислил размеры Земли:

- 16** a) Пифагор
- б) Птолемей
- в) Эратосфен**
- г) Бехайм

1.17. Какой материк пересекают все меридианы Земли?

- 05** a) Африка
- б) Евразия**
- в) Антарктида
- г) Австралия.

1.18. Прибор, изобретённый китайцами, способствующий развитию мореплаванию:

- 16** A) гномон
- б) компас**
- в) солнечные часы
- г) штурвал.

1.19. Морской путь в Индию был открыт экспедицией:

- 06** a) Марко Поло
- б) Х. Колумба
- в) Ф. Магеллана
- г) Васко да Гама

1.20. Калининградская область граничит с:

- 16** a) Литвой
- б) Латвией
- в) Германией
- г) Белоруссией.

Аналитический раунд 30 баллов **135**

Задание 2 (12 баллов).


Ответьте на вопросы. В качестве ответов укажите номера материков и океанов, указанные на картосхеме.



- 1) Какой океан самый глубокий? Тихий
- 2) Какой материк был открыт позже других материков? Америка
- 3) На каком материке расположена Индия? Евразия
- 4) Какие океаны омывают берега России?
- 05** 5) Большая часть какого океана расположена в Южном полушарии? Тихий
- 6) На каком материке расположена Бразилия? Южная Америка
- 7) Какой океан самый холодный? Северный ледовитый
- 8) Возле берегов какого материка находится остров Мадагаскар? Африка
- 9) Какой материк самый жаркий? Африка
- 10) На каком материке расположено государство США? Америка

Задание 3 (8 баллов)

Подпишите на схематическом рисунке названия планет Солнечной системы.



Школьный этап всероссийской олимпиады школьников в 2023-2024 уч. г. по географии 5 класс

Задание 4 (5 баллов)

Пользуясь знаниями по географии, определите в каком из пяти вариантов ответа верно определён общий признак для четырёх объектов в логическом ряду и найдено правильное обоснование для лишнего элемента.

Холм – впадина – каньон – ледник – вулкан
Варианты ответов

- А) Холм – этот объект, он имеет подошву и вершину, а все остальные – нет.
 Б) Впадина – это отрицательная форма рельефа, а все остальные – положительные. •
 Каньон – неровность земной поверхности, которая связана с рекой, а все остальные формы рельефа с ней не связаны.
 56 В) Ледник – это объект гидросферы, а все остальные – формы рельефа.
 Г) Вулкан – это гора, а все остальные – плоские поверхности.

Задание 5. (5 баллов)

Пользуясь знаниями по географии, определите в каком из пяти вариантов ответа верно определён общий признак для четырёх объектов в логическом ряду и найдено правильное обоснование для лишнего элемента.

Енисей – Дунай – Хуанхэ – Миссури – Ганг
Варианты ответов

- А) Енисей – единственная из рек, которая находится в России. Все остальные – в других странах.
 Б) Дунай впадает в Атлантический океан, а все остальные – в Тихий океан.
 В) Хуанхэ течёт с запада на восток, а все остальные с севера на юг.
 06 Г) Миссури находится в Северной Америке, а все остальные – в Евразии.
 Д) Ганг – это озеро, а остальные географические объекты – реки.

Задание 6. (5 баллов).

06 В толковом словаре В. Даля дано определение этого слова: «Равноденник или равноденственник, под которым дни и ночи всегда равны, а широта места – нуль». Что это?

Задание 7. (5 баллов)

06 Группа туристов ушла из лагеря, когда Полярная звезда виднелась впереди. Путешественники заночевали и, проснувшись поутру, отправились обратно в лагерь. С какой стороны они должны видеть восходящее солнце и почему?

МАКСИМАЛЬНО ВОЗМОЖНОЕ КОЛИЧЕСТВО БАЛЛОВ за работу: 60.

Председатель жюри: *В.М. Градкова*
 Члены жюри: *И.И. Волк*
И.И. Зайцева

Тестовый раунд

245

Количество баллов — 20

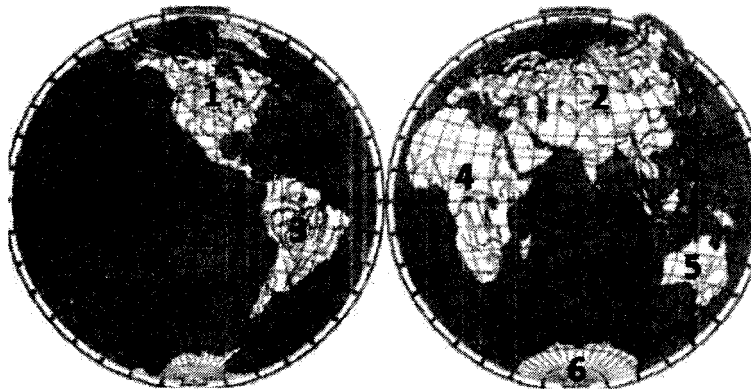
Задание 1. 125

Каждый вопрос оцениваем в 1 балл.

№ вопроса	Ответ	№ вопроса	Ответ
1.1.	2 15	1.11.	8 05
1.2.	5 15	1.12.	8 05
1.3.	а 05	1.13.	а 05
1.4.	в 15	1.14.	5 15
1.5.	а 15	1.15.	5 15
1.6.	5 05	1.16.	8 15
1.7.	а 15	1.17.	5 05
1.8.	2 15	1.18.	5 15
1.9.	а 05	1.19.	2 15
1.10.	а 05	1.20.	а 15

Аналитический раунд 30 баллов 125


Задание 2 (12 баллов).



№ вопроса	Вопрос	Ответ (номер с картосхемы)
1.	Какой океан самый глубокий?	10 05
2.	Какой материк был открыт позже других материков?	1 05
3.	На каком материке расположена Индия?	2 15
4.	Какие океаны омывают берега России?	9 15
5.	Большая часть какого океана расположена в Южном полушарии?	10 15
6.	На каком материке расположена Бразилия?	5 05
7.	Какой океан самый холодный?	7 15
8.	Возле берегов какого материка находится остров Мадагаскар?	3 05
9.	Какой материк самый жаркий?	4 15
10.	На каком материке расположено государство США?	2 05

Задание 3 (8 баллов)

Подпишите на схематическом рисунке названия планет Солнечной системы.



78

Задание 4 (5 баллов)

Ответ: Вулкан 08

Задание 5. (5 баллов)

Ответ: Таня 08

Задание 6 (5 баллов)

Ответ: 08

Задание 7. (5 баллов)

Ответ: 08

МАКСИМАЛЬНО ВОЗМОЖНОЕ КОЛИЧЕСТВО БАЛЛОВ за работу: 60

Председатель жюри: *Т.А. Трапезникова М.В.*
Члены комиссии: *Ю. Волк Ю.И.*
Ю. Зайцева И.А.

Школьный этап всероссийской олимпиады школьников в 2023 -2024 уч. г. по географии 5 класс

Общее время выполнения работы – 75 минут.

На задание 1 (тестовый раунд) отводится 30 минут, затем листы с ответами собираются.

На задания 2 –6 (аналитический раунд) отводится 45 минут. *Желаем успеха!*

Тестовый раунд

Количество баллов — 20

Задание 1. Задание включает 20 вопросов, к каждому из которых предложено несколько вариантов ответов. На каждый вопрос выберите один ответ, который вы считаете наиболее полным и правильным. Обведите в кружок букву выбранного ответа

1.1. Как называется наука о небесных телах?

- а) история б) география в) экология г) астрономия

1.2. Что такое глобус?

- а) модель Солнца б) модель Земли в) модель шара

1.3. Кто открыл Америку?

- а) Фернан Магеллан б) Христофор Колумб в) Михаил Лазарев.

1.4. Что на плане местности обозначают зелёным цветом?

- а) низкие участки суши б) населённые пункты
в) растительность г) высокие участки суши.

1.5. Какое море омывает берега России?

- а) Белое б) Жёлтое в) Северное г) Красное

1.6. Что в переводе с греческого языка означает слово «география»?

- а) «землеписание» б) «изучение Земли»
в) «изучение природы» г) «описание природы»

1.7. В какую из стран ты сможешь попасть, если поедешь на юг Европы?

- а) в Грецию б) в Финляндию в) в Швейцарию г) в Великобританию

1.8. Какие горы находятся не в России?

- а) Кавказ б) Урал в) Алтай г) Альпы

1.9. В какой стране находится город Одессе, в котором открыт дом-музей Г.Х.

Андерсена?

- а) Швеция б) Норвегия в) Дания г) Германия

1.10. С какой страной Россия граничит?

- а) Германия б) Монголия в) Узбекистан г) Армения

1.11. Что изучают сейсмологи?

- а) ураганы б) землетрясения в) ледники г) озёра

1.12. Какой объект Всемирного наследия находится не на территории России?

- а) вулканы Камчатки б) погост Кижы
в) озеро Байкал г) мавзолей Таж-Махал

1.13. Какой газ занимает наибольший объём в составе воздуха?

- а) кислород б) углекислый газ в) азот г) водород

1.14. В какой стране находится резиденция Санта-Клауса?

- а) Исландия б) Финляндия в) Швеция г) Норвегия

1.15. Выбери промежуточную сторону горизонта:

Школьный этап всероссийской олимпиады школьников в 2023-2024 уч. г. по географии 5 класс

- а) север б) северо-восток в) восток г) юг

1.16. Кто впервые измерил и наиболее точно вычислил размеры Земли:

- а) Пифагор б) Птолемей в) Эратосфен г) Бехайм

1.17. Какой материк пересекают все меридианы Земли?

- а) Африка б) Евразия в) Антарктида г) Австралия.

1.18. Прибор, изобретённый китайцами, способствующий развитию мореплаванию:

- А) гномон б) компас в) солнечные часы г) штурвал.

1.19. Морской путь в Индию был открыт экспедицией:

- а) Марко Поло б) Х. Колумба в) Ф. Магеллана г) Васко да Гама

1.20. Калининградская область граничит с:

- а) Литвой б) Латвией в) Германией г) Белоруссией.

Аналитический раунд 30 баллов

Задание 2 (12 баллов).


Ответьте на вопросы. В качестве ответов укажите номера материков и океанов, указанные на картосхеме.



- 1) Какой океан самый глубокий? 2 10
- 2) Какой материк был открыт позже других материков? 1
- 3) На каком материке расположена Индия? 2
- 4) Какие океаны омывают берега России? 9
- 5) Большая часть какого океана расположена в Южном полушарии? 10
- 6) На каком материке расположена Бразилия? 5
- 7) Какой океан самый холодный? 4
- 8) Возле берегов какого материка находится остров Мадагаскар? 4 3
- 9) Какой материк самый жаркий? 4
- 10) На каком материке расположено государство США? 2

Задание 3 (8 баллов)

Подпишите на схематическом рисунке названия планет Солнечной системы.



Задание 4 (5 баллов)

Пользуясь знаниями по географии, определите в каком из пяти вариантов ответа верно определён общий признак для четырёх объектов в логическом ряду и найдено правильное обоснование для лишнего элемента.

Холм – впадина – каньон – ледник – вулкан
Варианты ответов

А) Холм – этот объект, он имеет подошву и вершину, а все остальные – нет.

Б) Впадина – это отрицательная форма рельефа, а все остальные – положительные. •
Каньон – неровность земной поверхности, которая связана с рекой, а все остальные формы рельефа с ней не связаны.

В) Ледник – это объект гидросферы, а все остальные – формы рельефа.

Д) Вулкан – это гора, а все остальные – плоские поверхности.

Задание 5. (5 баллов)

Пользуясь знаниями по географии, определите в каком из пяти вариантов ответа верно определён общий признак для четырёх объектов в логическом ряду и найдено правильное обоснование для лишнего элемента.

Енисей – Дунай – Хуанхэ – Миссури – Ганг
Варианты ответов

А) Енисей – единственная из рек, которая находится в России. Все остальные – в других странах.

Б) Дунай впадает в Атлантический океан, а все остальные – в Тихий океан.

В) Хуанхэ течёт с запада на восток, а все остальные с севера на юг.

Г) Миссури находится в Северной Америке, а все остальные – в Евразии.

Д) Ганг – это озеро, а остальные географические объекты – реки.

Задание 6. (5 баллов).

В толковом словаре В. Даля дано определение этого слова: «Равноденник или равноденственный, под которым дни и ночи всегда равны, а широта места – нуль». Что это?

Задание 7. (5 баллов)

Группа туристов ушла из лагеря, когда Полярная звезда виднелась впереди.

Путешественники заночевали и, проснувшись поутру, отправились обратно в лагерь. С какой стороны они должны видеть восходящее солнце и почему?

МАКСИМАЛЬНО ВОЗМОЖНОЕ КОЛИЧЕСТВО БАЛЛОВ за работу: 60.

200060203

Тестовый раунд

Количество баллов — 20

Задание 1. Каждый вопрос оцениваем в 1 балл.

№ вопроса	Ответ	№ вопроса	Ответ
1.	8) 1	11. 8)	1
2.	2) 1	12. 8)	1
3.	8)	13. 8)	1
4.	2) 1	14. 8)	1
5.	8)	15. 8)	1
6.	а)	16. 8)	1
7.	8) 1	17. а)	1
8.	а) 1	18. а)	
9.	8) 1	19. з)	
10.	8) 1	20. в)	1

Аналитический раунд 42 балла

Задание 2 (6 баллов).

№ вопроса	Вопрос	Ответ	
1.	Самый большой океан:	Тихий океан	
2.	Самый высокий водопад:	Ангел	
3.	Самый крупный остров:	Гренландия	
4.	Самая глубокая впадина Мирового океана:	о. Марианская	
5.	6.	Самое глубокое озеро:	Титикака
6.	Самое глубокое озеро:	Титикака	

Задание 3 (5 баллов)

Ответ: 500 м.

Задание 4 (8 баллов)

список	«лишнее»	объяснение
1. Дождь, град, бриз, иней, снег	Бриз	все остальные - виды осадков
2. Барометр, осадкомер, муссон, гигрометр	муссон	Это слово не относится к измерению погоды
3. Роса, снег, дождь, ливень.	ливень	т.к. это вид дождя.
4. Бриз, дождь, муссон, ветер.	Дождь	т.к. это слово не относится к ветру.

Задание 5. (6 баллов)

№ значка	1	2	3	4	5	6	7	8	9	10	11	12
Какой объект обозначает	Ласкенинский пункт	Лондон	Самаркандский ивс	Луга	Озеро		Фрунзе	Мост	Родник	Школа	Мельница	Роса и ее передел
	0,5	0,5	0,5	0,5	0,5		0,5	0,5	0,5	0,5	0,5	0,5/50

Задание 6 (5 баллов)

Ответ: Справочка, датчики с шипами, пропитание, аптечка.

Задание 7. (12 баллов)

Старинное название объекта	Современное название объекта
1). Вандименова Земля	Новая земля
2). Сандвичевы острова	Японские
3) мыс Бурь	
4) Южная Родезия	Южная Африка
5) Яик	Река Урал
6) Варяжское море	Оманское море
7). Целебес	
8) Борнео;	
9) Эспаньола	
10) Архипедаг Колон	
11). Цейлон	Шриланка
12) остров Фернандо-По	

МАКСИМАЛЬНО ВОЗМОЖНОЕ КОЛИЧЕСТВО БАЛЛОВ за работу: 62

Председатель комиссии: Г. Трапезникова И. В.
 Члены жюри: В. В. Волж 10 и
 М. Запорова И. А.

140060211

Тестовый раунд

335

Количество баллов — 20

Задание 1. Каждый вопрос оцениваем в 1 балл.

№ вопроса	Ответ	№ вопроса	Ответ
1.	В 1	11.	Б 1
2.	Б В	12.	Б
3.	В А Г 1	13.	В 1
4.	В	14.	Б
5.	В 1	15.	В 1
6.	А	16.	Б 1
7.	Б 1	17.	А 1
8.	А 1	18.	А
9.	Б 1	19.	В
10.	Б	20.	В 1

125

Аналитический раунд 42 балла

Задание 2 (6 баллов).

№ вопроса	Вопрос	Ответ
1.	Самый большой океан:	ТИХИЙ ОКЕАН
2.	Самый высокий водопад:	ВЕЛЕРСКИЙ АНХЕН
3.	Самый крупный остров:	ГРЕНЛАНДИЯ
4.	Самая глубокая впадина Мирового океана:	МАРЕНСКАЯ
5.	Самый большой речной бассейн:	АМАЗОНКА
6.	Самое глубокое озеро:	БАЙКАЛ

1
1
1
1
1
1
65

Задание 3 (5 баллов)

Ответ: 50000

55

Задание 4 (8 баллов)

список	«лишнее»	объяснение
1. Дождь, град, бриз, иней, снег	бриз	это ветер ^{это ветер} все остальные осадки
2. Барометр, осадкомер, муссон, гигрометр	муссон	это ветер
3. Роса, снег, дождь, ливень.	снег	это жидкое не жидкое
4. Бриз, дождь, муссон, ветер.	дождь	это вода

25
1
65

Задание 5. (6 баллов)

№ значка	1	2	3	4	5	6	7	8	9	10	11	12
Какой объект обозначает	горы	оформ	лес	парк		гора	оруденный сад	мост	порт	школа	защитный река	

0,5 0,5 0,5 0,5 0,5 0,5 0,5 0,5 0,5 0,5 0,5 0,5 / 46

Задание 6 (5 баллов)

Ответ: апельсы, помидоры, капуста, морковь, картошка, лук, чеснок

Задание 7. (12 баллов)

Старинное название объекта	Современное название объекта
1). Вандименова Земля	
2). Сандвичевы острова	
3) мыс Бурь	
4) Южная Родезия	
5) Яик	
6) Варяжское море	
7). Целебес	
8) Борнео;	
9) Эспаньола	
10) Архипедаг Колон	
11). Цейлон	Тайланд
12) остров Фернандо-По	

МАКСИМАЛЬНО ВОЗМОЖНОЕ КОЛИЧЕСТВО БАЛЛОВ за работу: 62

Председатель комиссии: Г. Трауркина Л. В.
В. Векс Н. И.
И. Зайцева И. А.

ТЭО 060206

335

Тестовый раунд

Количество баллов — 20

Задание 1. Каждый вопрос оцениваем в 1 балл.

№ вопроса	Ответ	№ вопроса	Ответ
1.	б	11.	а 1
2.	а 1	12.	а
3.	б	13.	б 1
4.	а	14.	а 1
5.	б 1	15.	б 1
6.	а	16.	а 1
7.	а 1	17.	а 1
8.	а 1	18.	а
9.	а 1	19.	а
10.	б 1	20.	б 1

135

Аналитический раунд 42 балла

Задание 2 (6 баллов).

№ вопроса	Вопрос	Ответ
1.	Самый большой океан:	Тихий океан 1
2.	Самый высокий водопад:	Ниагарский 1
3.	Самый крупный остров:	Грэнландия 1
4.	Мариянская 1	
5.	Самый большой речной бассейн:	Амазонка 1
6.	Самое глубокое озеро:	Кайстийская 1

140

Задание 3 (5 баллов)

Ответ: 500 м

55

Задание 4 (8 баллов)

список	«лишнее»	объяснение
1. Дождь, град, бриз, иней, снег	бриз	не связано с водой 1
2. Барометр, осадкомер, муссон, гигрометр	муссон	он не измерительный прибор. 1
3. Роса, снег, дождь, ливень.	снег	снег - тверд осад. а все остальное жидкое 2
4. Бриз, дождь, муссон, ветер.	дождь	дождь - осадки, а эти ветры 1

2
65

ТЭД 060207

31,5

Тестовый раунд

Количество баллов — 20

Задание 1. Каждый вопрос оцениваем в 1 балл.

№ вопроса	Ответ	№ вопроса	Ответ
1.	в 1	11.	б 1
2.	в 2 1	12.	2 1
3.	2 1	13.	в 1
4.	а 1	14.	в 1
5.	б 1	15.	в 1
6.	2 1	16.	а 1
7.	б 1	17.	а 1
8.	а 1	18.	в 1
9.	б 1	19.	2 1
10.	в 1	20.	в 1

1170

Аналитический раунд 42 балла

Задание 2 (6 баллов).

№ вопроса	Вопрос	Ответ
1.	Самый большой океан:	Тихий океан 1
2.	Самый высокий водопад:	Ниагарский 1
3.	Самый крупный остров:	Гренландия 1
4.	Самая глубокая впадина Мирового океана:	Марманская 1
5.	Самый большой речной бассейн:	
6.	Самое глубокое озеро:	Каспийское 1

36

Задание 3 (5 баллов)

Ответ: $50000 \text{ см} = 500 \text{ м} = 0,5 \text{ км}$

50

Задание 4 (8 баллов)

список	«лишнее»	объяснение
1. Дождь, град, бриз, иней, снег	бриз	не связано с водой 1
2. Барометр, осадкомер, муссон, гигрометр	муссон	не измер. прибор 2
3. Роса, снег, дождь, ливень.	роса	не осадок, облако - вращает туманом 1
4. Бриз, дождь, муссон, ветер.	дождь	здесь не осадки 1

40

Задание 5. (6 баллов)

№ значка	1	2	3	4	5	6	7	8	9	10	11	12
Какой объект обозначает	Здание	овраг, мшб, холма	какие мшбо деревц					мост	подняшка	шкала	мельница	река

0,5 0,5 0,5 0,5 0,5 / 2,5

Задание 6 (5 баллов)

Ответ: Все старинные скалы и диверсия

Задание 7. (12 баллов)

Старинное название объекта	Современное название объекта
1). Вандименова Земля	
2). Сандвичевы острова	
3) мыс Бурь	
4) Южная Родезия	
5) Яик	
6) Варяжское море	
7). Целебес	
8) Борнео;	
9) Эспаньола	
10) Архипедаг Колон	
11). Цейлон	Шриланка
12) остров Фернандо-По	

0,5

МАКСИМАЛЬНО ВОЗМОЖНОЕ КОЛИЧЕСТВО БАЛЛОВ за работу: 62

Председатель комиссии: Г. П. Тарасов И. В.
 Члены комиссии: Д. В. Васильев И. И.
 Ю. Зайцев И. И.

Гео 090703

Тестовый раунд

Количество баллов — 20

42,50

Задание 1.

Каждый вопрос оцениваем в 1 балл.

№ вопроса	Ответ	№ вопроса	Ответ
1.	С	11.	2
2.	3 1	12.	2 1
3.	2 1	13.	4 1
4.	3	14.	3 1
5.	4 1	15.	2 1
6.	4 1	16.	7
7.	4 1	17.	2 1
8.	7 1	18.	7 1
9.	2	19.	4
10.	2 1	20.	1 1

130

Аналитический раунд 42 балла

Задание 1. (6 баллов)

Ответ: 1) С северного полюса идут полупарные ветры, которые вылетают на выпуклых берегах и огибают.
 2) Сосна, берёза
 3) Из-за течений
 4) Ледяная, дельта
 5) В Калининградской области, есть канал из которого вытекает вода, в реке много рыбы

0,5
1,6

150

Задание 2 (10 баллов)

№	Вопрос	Ответ
1	О каком субъекте РФ идёт речь?	Архангельская область
2-3	Как называется субэтнос, представители которого, проживают на данной территории? Как называются парусные суда мореплавателей данного субэтноса?	
4	Укажите название города – спутника административного центра данного субъекта РФ.	Архангельск.
5	Укажите фамилию знаменитого российского учёного, выходца данной земли.	Ломоносов
6	Месторождение какого минерала названо в честь	

1

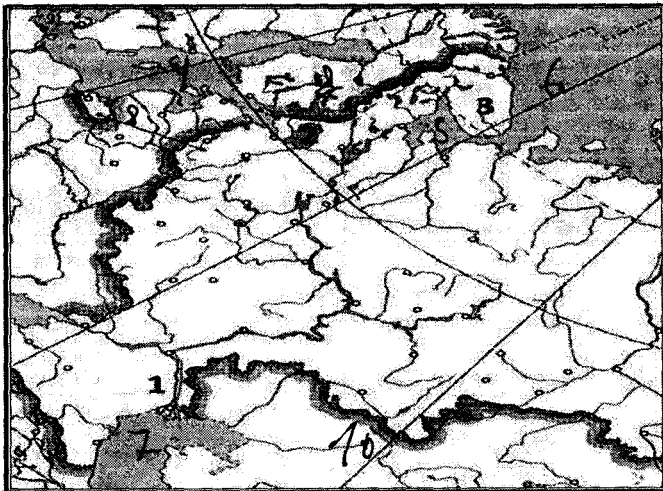
1

20

	данного ученого?	
7	Как называется месторождение бокситов, разрабатываемое в данном субъекте РФ?	
8	О каком возобновимом природном ресурсе идёт речь в тексте?	
9	Как называется космодром, расположенный в этом субъекте РФ?	ВОСТОЧНЫЙ

Задание 3 (10 баллов)

1) Укажите названия географических объектов, обозначенных на фрагменте контурной карты цифрами.



1. Река Волга 1
2. Ладожское озеро 1
3. Скандинавский полуостров 1

2) На контурной карте обозначьте цифрами географические объекты в соответствии с их порядковыми номерами в списке.

Географические объекты: 4 – Балтийское море, 5 – Белое море, 6 – Баренцево море,
7 – Каспийское море, 8 – Литва, 9 – Финляндия, 10 – Казахстан

Задание 4. (16 баллов)

Определите, на банкнотах (денежных знаках) каких государств из приведённого ниже списка в разные периоды были использованы изображения, указанные в таблице. Внесите во вторую графу таблицы порядковые номера государств из списка. Государства: 1 – Китай, 2 –

Канада, 3 – Новая Зеландия, 4 – Монголия, 5 – Австралийский Союз, 6 – Япония, 7 – Руанда,
8 – Узбекистан

Изображения	№ ответа	
Ковры с национальным колоритом, архитектурные комплексы Бухары и Самарканда, цветок хлопчатника	8	2
Профиль королевы Елизаветы II, пингвин хойхо, птица киви	3	2
Сухэ-Батор, Чингисхан, стрельба из лука, лошади Пржевальского; юрта на повозке, запряжённой быками	4	2
Картины арктической природы, хоккей, королева Елизавета II, полярные гагары	2	2
Мао Цзэдун, панорама реки Хуанхэ в скалах, пейзаж Гималаев	1	2
Женщина банту на фоне вулканов Вирунга, кофейные зёрна	7	2
Гора Фудзи, цветение сакуры, журавли	6	2
Королева Елизавета II, ветка эвкалипта, созвездие Южный Крест, ветка акации, птица лирохвост; волы, перевозящие шерсть	5	2

МАКСИМАЛЬНО ВОЗМОЖНОЕ КОЛИЧЕСТВО БАЛЛОВ за работу

425

768

Председатель комиссии: Т. Трагманов В
 Члены комиссии: К. Юмаев
 И. Садырова К. А.

Школьный этап всероссийской олимпиады школьников в 2023 -2024 уч. г. по географии 7 класс

Общее время выполнения работы – 90 минут.

На выполнение заданий I (тестового) раунда отводится 30 минут. На II (аналитический) раунд отводится 60 минут.

I раунд (тестовый)

- 115
1. Выберите «лишнее» сочетание географических объектов:
 - 1) Нил, Нигер, Конго; 2) Амазонка, Гапажос, Парана; 3) Миссури, Миссисипи, Юкон; 4) Балхаш, Байкал, Иссык-Куль.
 2. Выберите сочетание, где представлены только страны Северной Африки:
 - 1) Южно-Африканская Республика, Намибия, Мозамбик; 2) Эфиопия, Сомали, Танзания; 3) Египет, Ливия, Марокко; 4) Ангола, Камерун, Чад.
 3. В каком случае амплитуда температур будет составлять 58°C:
 - 1) -4°C и +17°C; 2) +38°C и +20°C; 3) -38°C и +20°C; 4) -24°C и +24°C?
 4. Крупнейшим островом на планете Земля является:
 - 1) Мадагаскар; 2) Великобритания; 3) Новая Гвинея; 4) Гренландия.
 5. Проливом, соединяющим самый холодный и самый влажный материка планеты является:
 - 1) Берингов; 2) Дрейка; 3) Мозамбикский; 4) Бассов.
 6. Самым высокогорным озером мира является:
 - 1) Байкал; 2) Танганьика; 3) Титикака; 4) Каспийское?
 7. Как называется низменный коралловый остров, окаймляющий мелководный залив (лагуну), иногда замкнутый, иногда разорванный:
 - 1) атолл; 2) архипелаг; 3) желоб; 4) бархан?
 8. Границей какого природного объекта является сахель:
 - 1) Атлантического океана; 2) экваториальных лесов; 3) пустыни Сахара; 4) Египта?
 9. Граница между Европой и Африкой проходит по:
 - 1) Суэцкому каналу; 2) Мозамбикскому проливу; 3) Гибралтарскому проливу.
 10. Какая из приведенных фраз имеет отношение к описанию климата территории:
 - 1) в последние пять лет наблюдается постоянный рост средней температуры января; 2) в течение дня будет солнечно и малооблачно; 3) в утренние часы возможен туман; 4) к концу недели потеплеет и прекратятся дожди?
 11. В каком из перечисленных районов Земли климат будет самый жаркий:
 - 1) Большая Песчаная пустыня; 2) Бразильское плоскогорье; 3) Восточно-Европейская равнина; 4) остров Гренландия?
 12. Площадь, с которой река собирает воду, называется:
 - 1) заливом; 2) заводью; 3) бассейном; 4) истоком.
 13. Определите вариант ответа, в который закралась неточность:
 - 1) река Нил впадает в Красное море; 2) река Нигер впадает в Гвинейский залив;
 - 3) Суэцкий канал связывает Красное и Средиземное моря;
 - 4) Средиземное море отделяет от вод Атлантического океана Гибралтарский пролив.
 14. Как называется участок дна Мирового океана с небольшой глубиной, на котором часто ведут добычу нефти:
 - 1) атолл; 2) срединно-океанический хребет; 3) шельф; 4) глубоководный желоб?

— 15. Выберите вариант ответа, в котором представлены только горные системы, относящиеся к кайнозойской складчатости:

- 1) Аппалачи, Урал, Скандинавские горы; 2) Атлас, Анды, Альпы;
- 3) Верхоянский хребет, Большой Хинган, Сихотэ-Алинь;
- 4) Бразильское плоскогорье, Среднесибирское плоскогорье, Восточно-Африканское плоскогорье.

— 16. Выберите правильное сочетание «Природная зона – тип почв»:

- 1) влажные экваториальные леса – черноземы; 2) тайга – подзолистые;
- 3) степь – красно-желтые ферралитные; 4) тундра – каштановые.

+ 17. Выберите сочетание, в котором представлены столицы только африканских государств:

- 1) Сеул, Пекин, Токио; 2) Варшава, Прага, Мадрид; 3) Бразилиа, Вашингтон, Оттава;
- 4) Каир, Алжир, Триполи.

— 18. Выберите вариант ответа, в котором представлены природные явления, характеризующие такое свойство географической оболочки как ритмичность:

- 1) круговорот веществ и энергии, фотосинтез, взаимосвязь компонентов природы;
- 2) смена дня и ночи, смена сезонов года, 11-летние циклы солнечной активности;
- 3) смена природных комплексов от экватора к полюсам, высотная поясность, образование тепловых поясов;
- 4) образование пассатов, формирование циклонов и антициклонов, образование смога.

— 19. Выберите вариант, в котором правильно отображено сочетание «территория – ветер»:

- 1) Антарктида – стоковые ветры; ~~2) западное побережье Африки – муссоны;~~ ~~3) Калининградская область – пассаты;~~ 4) Дальний Восток России – ветры западного переноса.

— 20. Выберите вариант ответа, в котором указаны, не характерные для Калининградской области формы рельефа:

- 1) карстовые воронки, бугры пучения, плоскогорья;
- 2) всхолмленные равнины, конечно-моренные гряды, речные долины;
- 3) польдеры, низменности, возвышенности; 4) дюны, авандюны, камовые холмы.

КОЛИЧЕСТВО БАЛЛОВ – 20

Аналитический раунд 80 баллов

Задание 1. «Понятия-термины».

Вам дается таблица и список географических понятий и терминов. Ваша задача правильно их распределить по географическим категориям, данным в названиях столбцов таблицы. Для простоты распределения вычеркивайте из списка термины, с распределением которых Вы уже определились.

105.

ШИФР

Школьный этап всероссийской олимпиады школьников в 2023 - 2024 уч. г. по географии 7 класс

№	Литосфера и рельеф	Климат	Гидросфера	Биосфера/природные комплексы	Человек
1.	овраг	ледник	цунами	саванна	чучка
2.	долина	кельменгута	бухта	муравья	сарма
3.	Альп		бухта	заповедник	роль
4.	ураган		УСТО	индустрия	эрозия
5.	море		порт		высота
6.	муссон		колосовор		гора
7.	ветер		неанте		плотность населения
8.	русло				земледелие
9.					государство
10.					

Пассат, овраг, саванна, стопа, вади, платформа, тайфун, цунами, срединно-океанический хребет (СОХ), архейская эра, чучка, пампа, ледник, крик(и), народ, сельва, море, муссон, торнадо, выветривание, нагорье, самум, дюны, оползень, океаническое течение, плотность населения, воздушная масса, город, гилеи, тундра, вулкан, циклон, артезианский бассейн, гололедица, устье, межень, заповедник, конденсация, ветрам, земледелие, русло, ураган, оазис, почва, раса, высотная поясность, порт, полеводство, государство, тайга.

КОЛИЧЕСТВО БАЛЛОВ – 25

35.

Задание 2. «Исследователи и первооткрыватели»

Говорят, что на Земле не осталось практически «белых пятен», где не ступала нога человека. Но так было не всегда. Люди постепенно хотели открывать все новые и новые территории, хотели познавать их природу, пытались открывать все новые и новые пути для осуществления торговли. Вам предлагается вспомнить, кто же внес весомый вклад в историю открытия и исследования новых территорий Земли. Увековечены ли их имена на карте мира? Посмотрите внимательно таблицу и заполните недостающую информацию в ней.

№	Время путешествия	Как звали путешественника	Вклад путешественника в географию	Как увековечены их имена на географической карте
1.	1271 – 1295 гг.		Первым из европейцев побывал в Китае и областях внутренней Азии (Армения, Иран, Китай, Индонезия, Казахстан, Монголия, Индия, Япония и т.д.)	
2.	1466 – 1472 гг. (по другой версии 1468 – 1474 гг.)	Афанасий Никитин	Первым из россиян побывал в Индии и Аравии. Автор книги «Хождение за три моря».	

Школьный этап всероссийской олимпиады школьников в 2023-2024 уч. г. по географии 7 класс

№	Время путешествия	Как звали путешественника	Вклад путешественника в географию	Как увековечены их имена на географической карте
3.	1492 – 1504 гг.	Христофор Колумб	Открытие Америки	
4.	1497 – 1524 г.	Марко Поло	Открыл морской путь в Индию, пересек Индийский океан, достиг берегов Индостана	
5.	1519 – 1522 гг.	Фернан Магеллан	Открытие Америки	
6.	1577 – 1580 гг.	Френсис Дрейк	Открытие пролива	
7.	1642 г.		Открытие Новой Зеландии и Тасмании	
8.	1741 г.	Делонг	Открытие Северо-Западного побережья Северной Америки. Первым прошел между Чукоткой и Аляской. Руководил Камчатскими экспедициями.	
9.	1768 – 1779 гг.		Открытие Восточного побережья Австралии, Гавайских островов; первым пересек Южный полярный круг. Три кругосветные экспедиции по исследованию Мирового океана.	
10.	1799 – 1804 гг.		Исследования природы Южной Америки	
11.	1819 – 1821 гг.	Ф.Ф. Беллинсгаузен и М.П. Лазарев	Открытие Северного полюса	

ШИФР




Школьный этап всероссийской олимпиады школьников в 2023 -2024 уч. г. по географии 7 класс








№	Время путешествия	Как звали путешественника	Вклад путешественника в географию	Как увековечены их имена на географической карте
12.	1856 – 1857 гг.		Исследование Тянь-Шаня. Экспедиции в Центральную Азию	
13.	1840 – 1873 гг.		Исследования Южной и Центральной Африки	
14.	1870 – 1888 гг.		Четыре экспедиции в Центральную Азию	
15.	1911 – 1912 гг.		Покорение Южного полюса	

КОЛИЧЕСТВО БАЛЛОВ – 30

Задание 3. «Знакомые очертания»

Вам предстоит указать название этих полуостровов и ответить на вопросы, касающихся каждого из них. Результат занесите в таблицу.

№	Изображение	Название объекта	Особенности объекта
1.			1. Название полуострова на востоке _____; 2. Название косы на северо-востоке _____.
2.			Две крупные страны, расположенные на этом полуострове: 1. _____; 2. _____.
3.			Две крупные страны, расположенные на этом полуострове: 1. _____; 2. _____.

№	Изображение	Название объекта	Особенности объекта
4.			<p>1. Название океана, в который впадает этот полуостров: <u>Индийский</u>;</p> <p>2. Название региона России, который частично расположен на этом полуострове: <u>Дальний Восток</u></p>
5.			<p>1. Название страны, в основном располагающейся в границах этого полуострова: <u>Испания</u>.</p>
6.		Аравийский п-ов	<p>1. Самая крупная страна на полуострове: _____.</p> <p>2. Залив на северо-востоке полуострова: _____.</p>
7.			<p>1. К территории какой страны относится полуостров: _____.</p>
8.		Малаккский п-ов	<p>Назовите две страны, территории которых полностью расположены на этом полуострове:</p> <p>1. <u>Филиппины</u>;</p> <p>2. <u>Индонезия</u>.</p>
9.			<p>1. К какой стране относится этот полуостров: <u>Испания</u>.</p>
10.			<p>1. Какая страна занимает практически полностью территорию этого полуострова: _____.</p>

Задание 4. «И снова о земных рекордах. Рекорды Мирового океана»

Вам предлагается вспомнить о некоторых особенных географических объектах Мирового океана, параметры которых являются рекордными на Земле. Внимательно ознакомьтесь с таблицей и заполните в ней недостающие ячейки.

№	Описание рекордного объекта	Географическое название	Особенности
1.	Самое глубоко место Мирового океана, глубина которого составляет 11022 м	Маршаловы Впадины	Этот объект впервые обнаружило и измерило глубину научно исследовательское судно «_____», которое сейчас стоит у берегов города _____
2.	Самое большое по площади море Мирового океана. Площадь его акватории составляет около 6 млн. км ²		Его еще называют «море без берегов»
3.	Самое мелкое море Земли. Его максимальная глубина составляет всего 13,5 м, а средняя – всего 7,5 м	Жалтиское море	Это море принадлежит бассейну _____ океана и через _____ пролив соединяется с _____ морем
4.	Самое маленькое по площади море мира. Его площадь составляет всего 11472 км ² – меньше территории Калининградской области (15 тыс км ²)	Средиземное море	Находится на границе между двумя континентами: _____ и _____
5.	Самый широкий пролив на Земле, имеющий собственное название. Его ширина в самой узкой части составляет 820 км.	Пролив Дрейка	Через пролив проходит мощное течение Западных ветров. Здесь наблюдаются самые сильные штормы.

КОЛИЧЕСТВО БАЛЛОВ – 12

МАКСИМАЛЬНО ВОЗМОЖНОЕ КОЛИЧЕСТВО БАЛЛОВ за работу: 100.

Кристаллы окиси ртути

(Трапичина)

Углерод окиси: Zau, (Зейтль)

Zouf (Золь)

Школьный этап всероссийской олимпиады школьников в 2023-2024 уч. г. по географии 7 класс

Общее время выполнения работы – 90 минут.

На выполнение заданий I (тестового) раунда отводится 30 минут. На II (аналитический) раунд отводится 60 минут.

I раунд (тестовый)

+ 1. Выберите «лишнее» сочетание географических объектов:

- 1) Нил, Нигер, Конго; 2) Амазонка, Тапажос, Парана; 3) Миссури, Миссисипи, Юкон;
4) Балхаш, Байкал, Иссык-Куль.

- 2. Выберите сочетание, где представлены только страны Северной Африки:

- 1) Южно-Африканская Республика, Намибия, Мозамбик; 2) Эфиопия, Сомали, Танзания;
3) Египет, Ливия, Марокко; 4) Ангола, Камерун, Чад.

- 3. В каком случае амплитуда температур будет составлять 58°C:

- 1) -4°C и +17°C; 2) +38°C и +20°C; 3) -38°C и +20°C; 4) -24°C и +24°C?

+ 4. Крупнейшим островом на планете Земля является:

- 1) Мадагаскар; 2) Великобритания; 3) Новая Гвинея; 4) Гренландия.

- 5. Проливом, соединяющим самый холодный и самый влажный материка планеты является:

- 1) Берингов; 2) Дрейка; 3) Мозамбикский; 4) Бассов.

+ 6. Самым высокогорным озером мира является:

- 1) Байкал; 2) Танганьика; 3) Титикака; 4) Каспийское?

+ 7. Как называется низменный коралловый остров, окаймляющий мелководный залив (лагуну), иногда замкнутый, иногда разорванный:

- 1) атолл; 2) архипелаг; 3) желоб; 4) бархан?

+ 8. Границей какого природного объекта является сахель:

- 1) Атлантического океана; 2) экваториальных лесов; 3) пустыни Сахара; 4) Египта?

- 9. Граница между Европой и Африкой проходит по:

- 1) Суэцкому каналу; 2) Мозамбикскому проливу; 3) Гибралтарскому проливу.

- 10. Какая из приведенных фраз имеет отношение к описанию климата территории:

- 1) в последние пять лет наблюдается постоянный рост средней температуры января; 2) в течение дня будет солнечно и малооблачно; 3) в утренние часы возможен туман; 4) к концу недели потеплеет и прекратятся дожди?

+ 11. В каком из перечисленных районов Земли климат будет самый жаркий:

- 1) Большая Песчаная пустыня; 2) Бразильское плоскогорье; 3) Восточно-Европейская равнина; 4) остров Гренландия?

+ 12. Площадь, с которой река собирает воду, называется:

- 1) заливом; 2) заводью; 3) бассейном; 4) истоком.

+ 13. Определите вариант ответа, в который закралась неточность:

- 1) река Нил впадает в Красное море; 2) река Нигер впадает в Гвинейский залив;
3) Суэцкий канал связывает Красное и Средиземное моря;
4) Средиземное море отделяет от вод Атлантического океана Гибралтарский пролив.

- 14. Как называется участок дна Мирового океана с небольшой глубиной, на котором часто ведут добычу нефти:

- 1) атолл; 2) срединно-океанический хребет; 3) шельф; 4) глубоководный желоб?

Школьный этап всероссийской олимпиады школьников в 2023 - 2024 уч. г. по географии 7 класс

15. Выберите вариант ответа, в котором представлены только горные системы, относящиеся к кайнозойской складчатости:
- 1) Аппалачи, Урал, Скандинавские горы; 2) Атлас, Анды, Альпы;
 - 3) Верхоянский хребет, Большой Хинган, Сихотэ-Алинь;
 - 4) Бразильское плоскогорье, Среднесибирское плоскогорье, Восточно-Африканское плоскогорье.
16. Выберите правильное сочетание «Природная зона – тип почв»:
- 1) влажные экваториальные леса – черноземы; 2) тайга – подзолистые;
 - 3) степь – красно-желтые ферраллитные; 4) тундра – каштановые.
17. Выберите сочетание, в котором представлены столицы только африканских государств:
- 1) Сеул, Пекин, Токио; 2) Варшава, Прага, Мадрид; 3) Бразилиа, Вашингтон, Оттава;
 - 4) Каир, Алжир, Триполи.
18. Выберите вариант ответа, в котором представлены природные явления, характеризующие такое свойство географической оболочки как ритмичность:
- 1) круговорот веществ и энергии, фотосинтез, взаимосвязь компонентов природы;
 - 2) смена дня и ночи, смена сезонов года, 11-летние циклы солнечной активности;
 - 3) смена природных комплексов от экватора к полюсам, высотная поясность, образование тепловых поясов;
 - 4) образование пассатов, формирование циклонов и антициклонов, образование смога.
19. Выберите вариант, в котором правильно отображено сочетание «территория – ветер»:
- 1) Антарктида – стоковые ветры; 2) западное побережье Африки – муссоны; 3) Калининградская область – пассаты; 4) Дальний Восток России – ветры западного переноса.
20. Выберите вариант ответа, в котором указаны, не характерные для Калининградской области формы рельефа:
- 1) карстовые воронки, бугры пучения, плоскогорья;
 - 2) всхолмленные равнины, конечно-моренные гряды, речные долины;
 - 3) польдеры, низменности, возвышенности; 4) дюны, авантюны, камовые холмы.

КОЛИЧЕСТВО БАЛЛОВ – 20

Аналитический раунд 80 баллов

Задание 1. «Понятия-термины».

Вам дается таблица и список географических понятий и терминов. Ваша задача правильно их распределить по географическим категориям, данным в названиях столбцов таблицы. Для простоты распределения вычеркивайте из списка термины, с распределением которых Вы уже определились.

15

ШИФР 20070201

Школьный этап всероссийской олимпиады школьников в 2023-2024 уч. г. по географии 7 класс

№	Литосфера и рельеф	Климат	Гидросфера	Биосфера/природные комплексы	Человек
1.	овраг	пассат	цунами	саванна	сталин
2.	платформа	морское	ледник	водоем	кочевник
3.	нагорье	баветт	морь	тундра	кочевник
4.	возвышенность	циклон	саванна	археолог	народ
5.	платформа	дождевая	саванна	археолог	чужак
6.	саванна	ураган	сирена	пещера	город
7.	платформа	баветт	пустыня	археолог	земледелие
8.	кочевник	водоем	чужак	водоем	республика
9.	сельва	муссон	наводнение	пещера	государство
10.	платформа	шторм	цунами	пещера	государство

Пассат, овраг, саванна, столица, вадн, платформа, тайфун, цунами, срединно-океанический хребет (СОХ), архейская эра, чужак, лампа, ледник, крик(и), народ, оеый, море, муссон, герладо, выветривание, нагорье, оамум, дюны, оеюность, океаническое течение, плотность населения, воздушная масса, город, гилей, тундра, вулкан, циклон, арктический бассейн, дождевая, устье, межен, заполярник, конденсация, вигвам, земледелие, русло, ураган, оазис, пещера, республика, плотность населения, порт, человек, государство, сайт.

КОЛИЧЕСТВО БАЛЛОВ – 25

40

Задание 2. «Исследователи и первооткрыватели»

Говорят, что на Земле не осталось практически «белых пятен», где не ступала нога человека. Но так было не всегда. Люди постепенно хотели открывать все новые и новые территории, хотели познавать их природу, пытались открывать все новые и новые пути для осуществления торговли. Вам предлагается вспомнить, кто же внес весомый вклад в историю открытия и исследования новых территорий Земли. Увековечены ли их имена на карте мира? Посмотрите внимательно таблицу и заполните недостающую информацию в ней.

№	Время путешествия	Как звали путешественника	Вклад путешественника в географию	Как увековечены их имена на географической карте
1.	1271 – 1295 гг.		Первым из европейцев побывал в Китае и областях внутренней Азии (Армения, Иран, Китай, Индонезия, Казахстан, Монголия, Индия, Япония и т.д.)	
2.	1466 – 1472 гг. (по другой версии 1468 – 1474 гг.)	Афанасий Никитин	Первым из россиян побывал в Индии и Аравии. Автор книги «Хождение за три моря».	

ШИФР

20040201

Школьный этап всероссийской олимпиады школьников в 2023 - 2024 уч. г. по географии 7 класс

№	Время путешествия	Как звали путешественника	Вклад путешественника в географию	Как увековечены их имена на географической карте
3.	1492 – 1504 гг.	Христофор Колумб	Открыл север. Америку.	
4.	1497 – 1524 г.		Открыл морской путь в Индию, пересек Индийский океан, достиг берегов Индостана	
5.	1519 – 1522 гг.	Фернан Магеллан	Кругосветное путешествие	Маленьков пролив.
6.	1577 – 1580 гг.	Френсис Дрейк		пролив Дрейка
7.	1642 г.		Открытие Новой Зеландии и Тасмании	
8.	1741 г.		Открытие Северо-Западного побережья Северной Америки. Первым прошел между Чукоткой и Аляской. Руководил Камчатскими экспедициями.	
9.	1768 – 1779 гг.		Открытие Восточного побережья Австралии, Гавайских островов; первым пересек Южный полярный круг. Три кругосветные экспедиции по исследованию Мирового океана.	
10.	1799 – 1804 гг.		Исследования природы Южной Америки	
11.	1819 – 1821 гг.	Ф.Ф. Беллинсгаузен и М.П. Лазарев		

ШИФР

200 04 0201




Школьный этап всероссийской олимпиады школьников в 2023 -2024 уч. г. по географии 7 класс





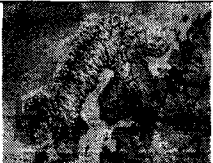


№	Время путешествия	Как звали путешественника	Вклад путешественника в географию	Как увековечены их имена на географической карте
12.	1856 – 1857 гг.		Исследование Тянь-Шаня. Экспедиции в Центральную Азию	
13.	1840 – 1873 гг.		Исследования Южной и Центральной Африки	
14.	1870 – 1888 гг.		Четыре экспедиции в Центральную Азию	
15.	1911 – 1912 гг.		Покорение Южного полюса	

КОЛИЧЕСТВО БАЛЛОВ – 30

Задание 3. «Знакомые очертания»

Вам предстоит указать название этих полуостровов и ответить на вопросы, касающихся каждого из них. Результат занесите в таблицу.

№	Изображение	Название объекта	Особенности объекта
1.			1. Название полуострова на востоке _____; 2. Название косы на северо-востоке _____.
2.			Две крупные страны, расположенные на этом полуострове: 1. _____; 2. _____.
3.			Две крупные страны, расположенные на этом полуострове: 1. _____; 2. _____.

№	Изображение	Название объекта	Особенности объекта
4.			<p>1. Название океана, в который вдается этот полуостров: <u>Индийский океан</u>;</p> <p>2. Название региона России, который частично расположен на этом полуострове: <u>Чукотка</u>.</p>
5.			<p>1. Название страны, в основном располагающейся в границах этого полуострова: _____.</p>
6.			<p>1. Самая крупная страна на полуострове: _____.</p> <p>2. Залив на северо-востоке полуострова: _____.</p>
7.			<p>1. К территории какой страны относится полуостров: _____.</p>
8.			<p>Назовите две страны, территории которых полностью расположены на этом полуострове:</p> <p>1. _____;</p> <p>2. _____.</p>
9.			<p>1. К какой стране относится этот полуостров: _____.</p>
10.			<p>1. Какая страна занимает практически полностью территорию этого полуострова: _____.</p>

Задание 4. «И снова о земных рекордах. Рекорды Мирового океана»

Вам предлагается вспомнить о некоторых особенных географических объектах Мирового океана, параметры которых являются рекордными на Земле. Внимательно ознакомьтесь с таблицей и заполните в ней недостающие ячейки.

№	Описание рекордного объекта	Географическое название	Особенности
1.	Самое глубоко место Мирового океана, глубина которого составляет 11022 м		Этот объект впервые обнаружило и измерило глубину научно исследовательское судно «_____», которое сейчас стоит у берегов города _____
2.	Самое большое по площади море Мирового океана. Площадь его акватории составляет около 6 млн. км ²		Его еще называют «море без берегов»
3.	Самое мелкое море Земли. Его максимальная глубина составляет всего 13,5 м, а средняя – всего 7, 5 м		Это море принадлежит бассейну _____ океана и через _____ пролив соединяется с _____ морем
4.	Самое маленькое по площади море мира. Его площадь составляет всего 11472 км ² – меньше территории Калининградской области (15 тыс км ²)		Находится на границе между двумя континентами: _____ и _____.
5.	Самый широкий пролив на Земле, имеющий собственное название. Его ширина в самой узкой части составляет 820 км.		Через пролив проходит мощное течение Западных ветров. Здесь наблюдаются самые сильные штормы.

КОЛИЧЕСТВО БАЛЛОВ – 12

МАКСИМАЛЬНО ВОЗМОЖНОЕ КОЛИЧЕСТВО БАЛЛОВ за работу: 100.

Президент жюри: *Али* (Трагедия)
Члены жюри: *Зит* / *Зайчико* /
Азот / *Велк* /

Школьный этап всероссийской олимпиады школьников в 2023 - 2024 уч. г. по географии 7 класс

Общее время выполнения работы – 90 минут.

На выполнение заданий I (тестового) раунда отводится 30 минут. На II (аналитический) раунд отводится 60 минут.

I раунд (тестовый)

+ 1. Выберите «лишнее» сочетание географических объектов:

- 1) Нил, Нигер, Конго; 2) Амазонка, Тапажос, Парана; 3) Миссури, Миссисипи, Юкон;
 4) Балхаш, Байкал, Иссык-Куль.

— 2. Выберите сочетание, где представлены только страны Северной Африки:

- 1) Южно-Африканская Республика, Намибия, Мозамбик; 2) Эфиопия, Сомали, Танзания;
 3) Египет, Ливия, Марокко; 4) Ангола, Камерун, Чад.

+ 3. В каком случае амплитуда температур будет составлять 58°C:

- 1) -4°C и +17°C; 2) +38°C и +20°C; 3) -38°C и +20°C; 4) -24°C и +24°C?

+ 4. Крупнейшим островом на планете Земля является:

- 1) Мадагаскар; 2) Великобритания; 3) Новая Гвинея; 4) Гренландия.

+ 5. Пролитом, соединяющим самый холодный и самый влажный материка планеты является:

- 1) Берингов; 2) Дрейка; 3) Мозамбикский; 4) Бассов.

+ 6. Самым высокогорным озером мира является:

- 1) Байкал; 2) Танганьика; 3) Титикака; 4) Каспийское?

— 7. Как называется низменный коралловый остров, окаймляющий мелководный залив (лагуну), иногда замкнутый, иногда разорванный:

- 1) атолл; 2) архипелаг; 3) желоб; 4) бархан?

+ 8. Границей какого природного объекта является сахель:

- 1) Атлантического океана; 2) экваториальных лесов; 3) пустыни Сахара; 4) Египта?

— 9. Граница между Европой и Африкой проходит по:

- 1) Суэцкому каналу; 2) Мозамбикскому проливу; 3) Гибралтарскому проливу.

+ 10. Какая из приведенных фраз имеет отношение к описанию климата территории:

- 1) в последние пять лет наблюдается постоянный рост средней температуры января; 2) в течение дня будет солнечно и малооблачно; 3) в утренние часы возможен туман; 4) к концу недели потеплеет и прекратятся дожди?

+ 11. В каком из перечисленных районов Земли климат будет самый жаркий:

- 1) Большая Песчаная пустыня; 2) Бразильское плоскогорье; 3) Восточно-Европейская равнина; 4) остров Гренландия?

— 12. Площадь, с которой река собирает воду, называется:

- 1) заливом; 2) заводью; 3) бассейном; 4) истоком.

— 13. Определите вариант ответа, в который закралась неточность:

- 1) река Нил впадает в Красное море; 2) река Нигер впадает в Гвинейский залив;
 3) Суэцкий канал связывает Красное и Средиземное моря;

- 4) Средиземное море отделяет от вод Атлантического океана Гибралтарский пролив.

— 14. Как называется участок дна Мирового океана с небольшой глубиной, на котором часто ведут добычу нефти:

- 1) атолл; 2) срединно-океанический хребет; 3) шельф; 4) глубоководный желоб?

Школьный этап всероссийской олимпиады школьников в 2023 - 2024 уч. г. по географии 7 класс

15. Выберите вариант ответа, в котором представлены только горные системы, относящиеся к кайнозойской складчатости:

- ⊖ 1) Аппалачи, Урал, Скандинавские горы; 2) Атлас, Анды, Альпы;
 3) Верхоянский хребет, Большой Хинган, Сихотэ-Алинь;
 4) Бразильское плоскогорье, Среднесибирское плоскогорье, Восточно-Африканское плоскогорье.

16. Выберите правильное сочетание «Природная зона – тип почв»:

- ⊕ 1) влажные экваториальные леса – черноземы; 2) тайга – подзолистые;
 3) степь – красно-желтые ферралитные; 4) тундра – каштановые.

17. Выберите сочетание, в котором представлены столицы только африканских государств:

- 1) Сеул, Пекин, Токио; 2) Варшава, Прага, Мадрид; 3) Бразилиа, Вашингтон, Оттава;
 ⊕ 4) Каир, Алжир, Триполи.

18. Выберите вариант ответа, в котором представлены природные явления, характеризующие такое свойство географической оболочки как ритмичность:

- 1) круговорот веществ и энергии, фотосинтез, взаимосвязь компонентов природы;
 2) смена дня и ночи, смена сезонов года, 11-летние циклы солнечной активности;
 3) смена природных комплексов от экватора к полюсам, высотная поясность, образование тепловых поясов;
 ⊕ 4) образование пассатов, формирование циклонов и антициклонов, образование смога.

19. Выберите вариант, в котором правильно отображено сочетание «территория – ветер»:

- 1) Антарктида – стоковые ветры; 2) западное побережье Африки – муссоны; 3) Калининградская область – пассаты; ⊖ 4) Дальний Восток России – ветры западного переноса.

20. Выберите вариант ответа, в котором указаны, не характерные для Калининградской области формы рельефа:

- ⊕ 1) карстовые воронки, бугры пучения, плоскогорья;
 2) всхолмленные равнины, конечно-моренные гряды, речные долины;
 3) польдеры, низменности, возвышенности; 4) дюны, авандюны, камовые холмы.

КОЛИЧЕСТВО БАЛЛОВ – 20

Аналитический раунд 80 баллов

Задание 1. «Понятия-термины».

Вам дается таблица и список географических понятий и терминов. Ваша задача правильно их распределить по географическим категориям, данным в названиях столбцов таблицы. Для простоты распределения вычеркивайте из списка термины, с распределением которых Вы уже определились.

14,5

ШИФР 200 0702 03

Школьный этап всероссийской олимпиады школьников в 2023-2024 уч. г. по географии 7 класс

№	Литосфера и рельеф	Климат	Гидросфера	Биосфера/природные	Человек
1.	ГОБРАГ	ТАЙФУН	ЦУНАМИ	ПАССАТ	ТОРНАДО
2.	САВАННА	ПАССАТ	ЛЕДНИК	АРХЕЙСКАЯ ЭРА	АРХЕЙСКАЯ ЭРА
3.	ПЛАТФОРМА	ВЫВЕТРИВАНИЕ	МОРЕ	ЧУКЧА	ЧУКЧА
4.	СОХ	ВОЗДУШНАЯ МАССА	ОКЕАНИЧЕСКОЕ ТЕЧЕНИЕ	ПЛОТНОСТЬ НАСЕЛЕНИЯ	НАРОД
5.	НАГОРЬЕ	ЦИКЛОН	АРТЕЗИАНСКИЙ БАССЕЙН	ТУНДРА	ГОРОД
6.	ДЮНЫ	ОПОЛЗЕНЬ	МЕЖЕНЬ	ЗАПОВЕДНИК	ЗЕМЛЕДЕЛИЕ
7.	ВУЛКАН	КОНДЕНСАЦИЯ	РУСЛО	РАСА	ПОРТ
8.	ПОЧВА	УРАГАН	ОАЗИС	ГОЛОЛЕДИЦА	ГОСУДАРСТВО
9.			ПОЛОВОДЬЕ	ТАЙГА	
10.					

Пассат, овраг, саванна, столица, вад, платформа, тайфун, цунами, срединно-океанический хребет (СОХ), архейская эра, чукча, пампа, ледник, крик(и), народ, сельва, море, муссон, торнадо, выветривание, нагорье, самум, дюны, оползень, океаническое течение, плотность населения, воздушная масса, город, гилей, тундра, вулкан, циклон, артезианский бассейн, гололедица, устье, межень, заповедник, конденсация, вигвам, земледелие, русло, ураган, оазис, почва, раса, высотная поясность, порт, половодье, государство, тайга.

КОЛИЧЕСТВО БАЛЛОВ – 25

Задание 2. «Исследователи и первооткрыватели»

Говорят, что на Земле не осталось практически «белых пятен», где не ступала нога человека. Но так было не всегда. Люди постепенно хотели открывать все новые и новые территории, хотели познавать их природу, пытались открывать все новые и новые пути для осуществления торговли. Вам предлагается вспомнить, кто же внес весомый вклад в историю открытия и исследования новых территорий Земли. Увековечены ли их имена на карте мира? Посмотрите внимательно таблицу и заполните недостающую информацию в ней.

№	Время путешествия	Как звали путешественника	Вклад путешественника в географию	Как увековечены их имена на географической карте
1.	1271 – 1295 гг.		Первым из европейцев побывал в Китае и областях внутренней Азии (Армения, Иран, Китай, Индонезия, Казахстан, Монголия, Индия, Япония и т.д.)	
2.	1466 – 1472 гг. (по другой версии 1468 – 1474 гг.)		Первым из россиян побывал в Индии и Аравии. Автор книги «Хождение за три моря».	

ШИФР

20040203

Школьный этап всероссийской олимпиады школьников в 2023 - 2024 уч. г. по географии 7 класс

№	Время путешествия	Как звали путешественника	Вклад путешественника в географию	Как увековечены их имена на географической карте
3.	1492 – 1504 гг.	Христофор Колумб	открыл Америка	
4.	1497 – 1524 г.		Открыл морской путь в Индию, пересек Индийский океан, достиг берегов Индостана	
5.	1519 – 1522 гг.	Фернан Магеллан	ДОКАЗАЛ ЧТО ЗЕМЛЯ имеет форму шара	ПРОЛИВ имени Магеллана
6.	1577 – 1580 гг.	Френсис Дрейк	ОТКРЫЛ ПРОЛИВ между Сев. Амер. и Южн. Америкой.	
7.	1642 г.		Открытие Новой Зеландии и Тасмании	
8.	1741 г.		Открытие Северо-Западного побережья Северной Америки. Первым прошел между Чукоткой и Аляской. Руководил Камчатскими экспедициями.	
9.	1768 – 1779 гг.		Открытие Восточного побережья Австралии, Гавайских островов; первым пересек Южный полярный круг. Три кругосветные экспедиции по исследованию Мирового океана.	
10.	1799 – 1804 гг.		Исследования природы Южной Америки	
11.	1819 – 1821 гг.	Ф.Ф. Беллинсгаузен и М.П. Лазарев		

ШИФР

20 04 02 03




Школьный этап всероссийской олимпиады школьников в 2023 -2024 уч. г. по географии 7 класс





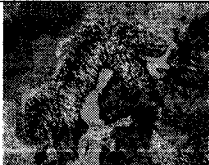


№	Время путешествия	Как звали путешественника	Вклад путешественника в географию	Как увековечены их имена на географической карте
12.	1856 – 1857 гг.		Исследование Тянь-Шаня. Экспедиции в Центральную Азию	
13.	1840 – 1873 гг.		Исследования Южной и Центральной Африки	
14.	1870 – 1888 гг.		Четыре экспедиции в Центральную Азию	
15.	1911 – 1912 гг.		Покорение Южного полюса	

КОЛИЧЕСТВО БАЛЛОВ – 30

Задание 3. «Знакомые очертания»

Вам предстоит указать название этих полуостровов и ответить на вопросы, касающихся каждого из них. Результат занесите в таблицу.

№	Изображение	Название объекта	Особенности объекта
1.		КРЫМ	1. Название полуострова на востоке _____; 2. Название косы на северо-востоке _____ _____.
2.			Две крупные страны, расположенные на этом полуострове: 1. _____; 2. _____.
3.			Две крупные страны, расположенные на этом полуострове: 1. ИСПАНИЯ; 2. _____.

№	Изображение	Название объекта	Особенности объекта
4.		КАМЧАТКА	1. Название океана, в который впадает этот полуостров: <u>Тихий</u> ; 2. Название региона России, который частично расположен на этом полуострове: _____.
5.			1. Название страны, в основном располагающейся в границах этого полуострова: <u>ИТАЛИЯ</u> .
6.			1. Самая крупная страна на полуострове: _____ 2. Залив на северо-востоке полуострова: _____.
7.			1. К территории какой страны относится полуостров: <u>РОССИЯ</u> .
8.			Назовите две страны, территории которых полностью расположены на этом полуострове: 1. _____; 2. _____.
9.			1. К какой стране относится этот полуостров: _____.
10.			1. Какая страна занимает практически полностью территорию этого полуострова: _____.

Задание 4. «И снова о земных рекордах. Рекорды Мирового океана»

Вам предлагается вспомнить о некоторых особенных географических объектах Мирового океана, параметры которых являются рекордными на Земле. Внимательно ознакомьтесь с таблицей и заполните в ней недостающие ячейки.

№	Описание рекордного объекта	Географическое название	Особенности
25 +	1. Самое глубоко место Мирового океана, глубина которого составляет 11022 м	МАРИАНСКАЯ ВПАДИНА	Этот объект впервые обнаружило и измерило глубину научно исследовательское судно «_____», которое сейчас стоит у берегов города _____
-	2. Самое большое по площади море Мирового океана. Площадь его акватории составляет около 6 млн. км ²	СОЛЕВОЕ МОРЕ	Его еще называют «море без берегов»
-	3. Самое мелкое море Земли. Его максимальная глубина составляет всего 13,5 м, а средняя – всего 7,5 м		Это море принадлежит бассейну _____ океана и через _____ пролив соединяется с _____ морем
-	4. Самое маленькое по площади море мира. Его площадь составляет всего 11472 км ² – меньше территории Калининградской области (15 тыс км ²)		Находится на границе между двумя континентами: _____ и _____
+	5. Самый широкий пролив на Земле, имеющий собственное название. Его ширина в самой узкой части составляет 820 км.	ПРОЛИВ АРЕЙКА	Через пролив проходит мощное течение Западных ветров. Здесь наблюдаются самые сильные штормы.

КОЛИЧЕСТВО БАЛЛОВ – 12

МАКСИМАЛЬНО ВОЗМОЖНОЕ КОЛИЧЕСТВО БАЛЛОВ за работу: 100.

Адресатами моря: Грейт
(Греция)

Улицы моря: Золотой (Золотой)
Белый (Белый)

Школьный этап всероссийской олимпиады школьников в 2023 -2024 уч. г. по географии 8 класс

Общее время выполнения работы – **90 минут**.

На выполнение заданий I (тестового) раунда отводится **30 минут**.

На II (аналитический) раунд отводится **60 минут**.

При ответе на задания запрещено пользоваться школьными и прочими атласами, справочными материалами, а также учебниками, мобильными телефонами, карманными компьютерами! Желаем успехов!

I РАУНД (ТЕСТОВЫЙ)

Ответьте на поставленные вопросы, выбрав **один** правильный вариант ответа. При ответе на вопросы будьте очень внимательны, так как некоторые вопросы требуют определить неверный вариант или имеют формулировку с отрицанием.

1. Выберите из предложенного списка морей самое соленое:

- 1) Охотское; 2) Аравийское; 3) Красное; 4) Балтийское.

2. Выберите правильное сочетание «горная система – высочайшая точка»:

- 1) Альпы – г. Аконкагуа (6960 м); 2) Алтай – г. Белуха (4506 м);
3) Большой Кавказ – Пик Коммунизма (7495 м); 4) Альпы – Эльбрус (5642 м).

3. Укажите правильное соотношение «Субъект Российской Федерации – объект рельефа, который там расположен»:

- 1) Приморский край – горы Сихотэ-Алинь; 2) Оренбургская обл. – Прикаспийская низм.;
3) Республика Карелия – Верхоянский хребет; 4) Мурманская обл. – Тиманский кряж.

4. Выберите правильное утверждение о проливах Земли:

- 1) Мозамбикский пролив расположен между материком Африка и островом Мадагаскар;
2) Пролив Дрейка расположен между Антарктидой и Австралией;
3) Берингов пролив расположен между островом Гренландия и Северной Америкой;
4) Баб-Эль-Мандебский пролив расположен между континентами Европа и Африка.

5. Назови наиболее продолжительную эру в истории Земли

- 1) кайнозой; 2) мезозой; 3) палеозой; 4) протерозой.

6. Выберите правильное утверждение «Океаническое течение – океан»:

- 1) Гольфстрим – Индийский; 2) Фолклендское – Северный Ледовитый;
3) Куроисио – Тихий; 4) Перуанское – Атлантический.

7. Укажите правильное сочетание «Исследователь – географический регион, в котором работал»:

- 1) Д. Кук – п-ов Аляска; 2) Пржевальский – Канадский Арктический архипелаг;
3) Д. Ливингстон – Африка; 4) М.П. Лазарев, Ф.Ф. Беллинсгаузен – Средиземное море.

8. Выберите вариант ответа, в котором указаны самые сухие места на Земле:

- 1) Сухие долины Антарктиды, пустыня Атакама, Египет;
2) гора Черапунджи, Бразильское плоскогорье, г. Сочи (Россия);
3) Восточно-Европейская равнина, г. Народная (Уральские горы), г. Оймякон (Россия);
4) о. Мадагаскар, Королевство Марокко, западное побережье Австралии.

9. Что можно найти в кимберлитовых трубках?

- 1) золото; 2) алмазы; 3) платина; 4) серебро?

10. Укажите вариант ответа, в котором правильно указано соответствие «столицы стран мира – материк»:

- 1) Луанда, Найроби, Нуакшот – Северная Америка;
- 2) Каракас, Джорджтаун, Асунсьон – Южная Америка;
- 3) Тирана, Улан-Батор, Бишкек – Африка;
- 4) Манагуа, Тегусигальпа, Панама – Евразия.

11. С каким из перечисленных европейских государств Россия имеет самую небольшую по протяженности сухопутную границу:

- 1) Финляндия;
- 2) Украина;
- 3) Белоруссия;
- 4) Норвегия.

12. Какая из перечисленных пород метаморфическая по происхождению?

- 1) гнейс;
- 2) гранит;
- 3) глины;
- 4) мел ?

13. Найдите неверное высказывание об Африке:

- 1) В Африке преобладают высокие равнины, гор мало;
- 2) континент практически симметрично расположен по отношению к экватору;
- 3) здесь отмечены самые высокие температуры воздуха на Земле;
- 4) здесь расположено самое большое по площади озеро

14. В каком штате США стрелка компаса показывает не на север, а на восток?

- 1) Гавай
- 2) Калифорния
- 3) Аляска
- 4) Вайоминг

15. Какая территория России может подвергаться разрушительному воздействию тропических ураганов?

- 1) Прикаспийская низменность;
- 2) Приморский край;
- 3) Черноморское побережье;
- 4) Калининградская область?

16. Укажите верное соотношение «Пустыня – материк»:

- 1) пустыня Виктория – Северная Америка;
- 2) пустыня Гоби – Евразия;
- 3) пустыня Атакама – Африка;
- 4) пустыня Калахари – Южная Америка.

17. Говорят: «Ока – Волги правая рука». Какую реку можно назвать левой рукой Волги?

- 1) Каму;
- 2) Вятку;
- 3) Ахтубу;
- 4) Кострому.

18. В районе мыса Челюскин полярная ночь длится 100 дней в году. А сколько длится полярная ночь на Северном полярном круге?

- 1) один день;
- 2) два дня;
- 3) неделю;
- 4) месяц.

19. Самая длинная река европейской части России – это:

- 1) Обь;
- 2) Днепр;
- 3) Волга;
- 4) Северная Двина.

20. В каком из морей, омывающих берега России, с востока на запад плыл корабль, если капитана два дня подряд поздравляли с днем рождения?

- 1) в Черном море;
- 2) в Белом море;
- 3) в море Лаптевых;
- 4) в Беринговом море.

КОЛИЧЕСТВО БАЛЛОВ ЗА ТЕСТОВЫЙ РАУНД – 20

Аналитический раунд 30 балловНа II (аналитический) раунд отводится **60 минут**. Количество баллов - **40****Задание 1. «Картография».**

Вашему вниманию представляется фрагмент топографической карты участка местности. Необходимо его изучить и ответить на ряд вопросов. Результаты своего картографического исследования необходимо оформить в предложенной таблице.

№	Вопрос	Ответ
1.	Какие объекты антропогенного рельефа обозначены цифрой 1?	
2.	Какой вид минерального сырья добывается на объекте под номером 2? Как называется этот объект?	Сырье: _____. Объект: _____.
3.	Какой гидрографический объект расположен под номером 3? На какой абсолютной высоте находится этот объект?	Объект: _____. Высота: _____ м.
4.	Какая часть участка местности наиболее заболочена (указать сторону горизонта)?	
5.	Какая максимальная высота фиксируется на предложенном участке местности?	_____ м
6.	В каком направлении и по какому азимуту необходимо двигаться, чтобы попасть из совхоза Беличи в город Снов (для точности измерения примите за точки отсчета примерные геометрические центры объектов)?	Направление: _____. Азимут: _____.
7.	Какие объекты обозначены стрелками на карте под цифрой 4? Какова глубина этих объектов?	Объект: _____. Глубина: _____ м.
8.	Разъедутся ли два грузовых автомобиля, каждый из которых имеет ширину 3,5 м, следующие из совхоза Беличи по проезжей части шоссе, идущему в восточном направлении? Свой ответ обоснуйте.	_____. Обоснование:
9.	Какие хозяйственные объекты можно увидеть на карте в городе Снов?	
10.	Какой из склонов – под цифрой 5 или под цифрой 6 – будет круче?	Под цифрой ____.
11.	В каком из лесов древесина будет более зрелая	Под цифрой ____.

Школьный этап всероссийской олимпиады школьников в 2023 -2024 уч. г. по географии 8 класс

	(толщина стволов больше) – под цифрой 7 или 8?	
12.	В каком из лесов можно добывать хвойную древесину (лес под цифрой 7 или 8)?	Под цифрой ____.
13.	По какой антропогенной форме рельефа (созданной человеком) проходят железные дороги на представленном плане местности?	
14.	К какой природной зоне относится данный участок местности?	

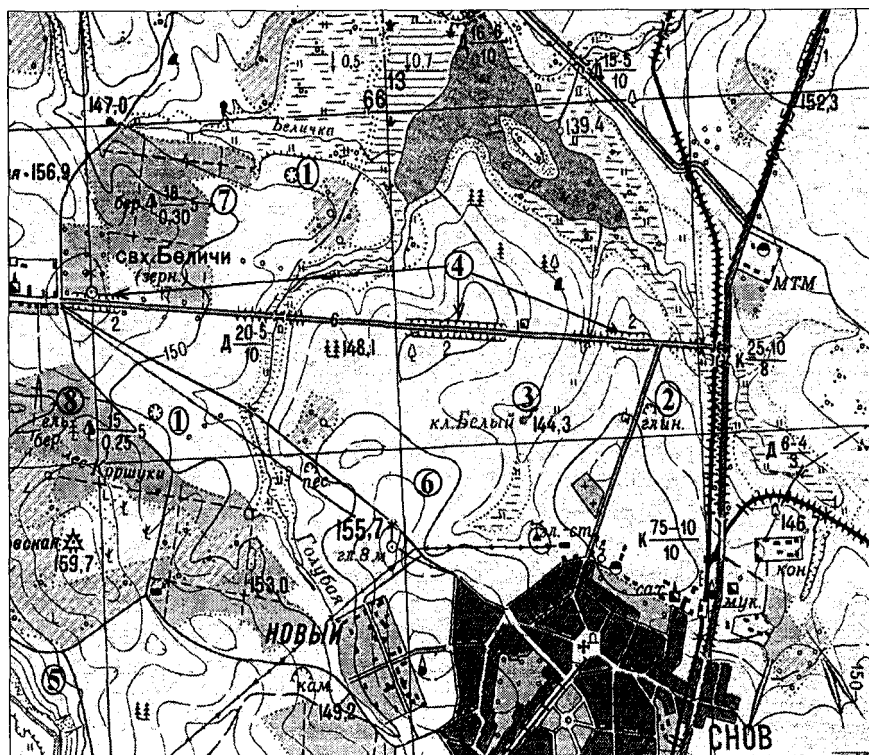


Рис. 1. Участок местности для задания 1

КОЛИЧЕСТВО БАЛЛОВ – 15

Задание 2. Как вы можете объяснить такой научный факт, что на полуострове Камчатка сопка Безымянная имела высоту 3085 м, а на картах 1960 года- 2585 м? Может вы решите, что картографы просто допустили ошибку, но высота этой сопки действительно изменилась.

КОЛИЧЕСТВО БАЛЛОВ – 5

Тестовый раунд

Количество баллов — 20

31,55

Задание 1.

Каждый вопрос оцениваем в 1 балл.

№ вопроса	Ответ	№ вопроса	Ответ
1.	3 10	11.	3 10
2.	2 10	12.	4 10
3. 3	3 05	13.	2 05
4.	1 10	14.	3 10
5.	3 10	15.	1 05
6.	3 10	16.	1 05
7.	3 10	17.	3 05
8.	4 05	18.	4 10
9.	3 05	19.	2 05
10.	2 10	20.	2 05

Аналитический раунд 40 баллов

Задание 1. «Картография» (15 баллов)

20,55

Вашему вниманию представляется фрагмент топографической карты участка местности. Необходимо его изучить и ответить на ряд вопросов. Результаты своего картографического исследования необходимо оформить в предложенной таблице.

№	Вопрос	Ответ
1.	Какие объекты антропогенного рельефа обозначены цифрой 1?	05
2.	Какой вид минерального сырья добывается на объекте под номером 2? Как называется этот объект?	Сырье: <u>глина</u> . Объект: <u>карьер</u> . 15
3.	Какой гидрографический объект расположен под номером 3? На какой абсолютной высоте находится этот объект?	Объект: _____. Высота: <u>144,3</u> м. 0,55
4.	Какая часть участка местности наиболее заболочена (указать сторону горизонта)?	<u>север</u> 0,55
5.	Какая максимальная высота фиксируется на предложенном участке местности?	<u>159,7</u> м 0,55
6.	В каком направлении и по какому азимуту необходимо двигаться, чтобы попасть из совхоза Беличи в город Снов (для точности измерения примите за точки отсчета примерные геометрические центры объектов)?	Направление: <u>юго-восток</u> 0,55 Азимут: <u>135°</u> . 15

7.	Какие объекты обозначены стрелками на карте под цифрой 4? Какова глубина этих объектов?	Объект: _____ Глубина: <u>2</u> м. <u>0,55</u>
8.	Разъедутся ли два грузовых автомобиля, каждый из которых имеет ширину 3,5 м, следующие из совхоза Беличи по проезжей части шоссе, идущему в восточном направлении? Свой ответ обоснуйте.	<u>нет</u> Обоснование: ширина проезжей части 6м, а два грузовых автомобиля вместе - 7м. <u>2б</u>
9.	Какие хозяйственные объекты можно увидеть на карте в городе Снов?	<u>церковь.</u> <u>0б</u>
10.	Какой из склонов – под цифрой 5 или под цифрой 6 – будет круче?	Под цифрой <u>5.</u> <u>1б</u>
11.	В каком из лесов древесина будет более зрелая (толщина стволов больше) – под цифрой 7 или 8?	Под цифрой <u>7.</u> <u>1б</u>
12.	В каком из лесов можно добывать хвойную древесину (лес под цифрой 7 или 8)?	Под цифрой <u>8.</u> <u>1б</u>
13.	По какой антропогенной форме рельефа (созданной человеком) проходят железные дороги на представленном плане местности?	<u>изменность</u> <u>0б</u>
14.	К какой природной зоне относится данный участок местности?	<u>равнина</u> <u>1б</u> <u>леса</u> <u>леса</u>

Задание 2 (5 баллов)

Ответ: Взвешать сорку шерсти вместе со сметаной
манкой. 0б

Задание 3 (10 баллов)

Ответ: Береговое море. 0б

Задание 4. (10 баллов)

Ответ: -1б 10б

МАКСИМАЛЬНО ВОЗМОЖНОЕ КОЛИЧЕСТВО БАЛЛОВ за работу: 60

Председатель жюри: [подпись] Трапезниченко Н.В.
Члены жюри: [подпись] Волк И.И.
[подпись] Зайцева Н.А.

Школьный этап всероссийской олимпиады школьников в 2023 -2024 уч. г. по географии 8 класс

Задание 3 Это окраинное море отделено от океана геосинклинальной дугой альпийской складчатости. Большую часть года море покрыто льдом, а летом активно развит промысел рыбы и крабов. Приливы достигают максимальной высоты в этой части света.

Назовите **море**. Что вы знаете о **человеке**, имя которого носит **залив** (назовите залив) в северной части моря?

КОЛИЧЕСТВО БАЛЛОВ – 10

Задание 4

Если на уровне Берингова моря температура равна $+12^{\circ}\text{C}$, то какова температура воздуха (содержащего водяные пары) на вершине вулкана Ключевская сопка (4688м)?

КОЛИЧЕСТВО БАЛЛОВ – 10

МАКСИМАЛЬНО ВОЗМОЖНОЕ КОЛИЧЕСТВО БАЛЛОВ за работу: 60.

Аналитический раунд 30 балловНа II (аналитический) раунд отводится **60 минут. Количество баллов-40****Задание 1. «Картография».**

Вашему вниманию представляется фрагмент топографической карты участка местности. Необходимо его изучить и ответить на ряд вопросов. Результаты своего картографического исследования необходимо оформить в предложенной таблице.

№	Вопрос	Ответ
1.	Какие объекты антропогенного рельефа обозначены цифрой 1?	
2.	Какой вид минерального сырья добывается на объекте под номером 2? Как называется этот объект?	Сырье: _____. Объект: _____.
3.	Какой гидрографический объект расположен под номером 3? На какой абсолютной высоте находится этот объект?	Объект: _____. Высота: _____ м.
4.	Какая часть участка местности наиболее заболочена (указать сторону горизонта)?	
5.	Какая максимальная высота фиксируется на предложенном участке местности?	_____ м
6.	В каком направлении и по какому азимуту необходимо двигаться, чтобы попасть из совхоза Беличи в город Снов (для точности измерения примите за точки отсчета примерные геометрические центры объектов)?	Направление: _____. Азимут: _____.
7.	Какие объекты обозначены стрелками на карте под цифрой 4? Какова глубина этих объектов?	Объект: _____. Глубина: _____ м.
8.	Разъедутся ли два грузовых автомобиля, каждый из которых имеет ширину 3,5 м, следующие из совхоза Беличи по проезжей части шоссе, идущему в восточном направлении? Свой ответ обоснуйте.	_____. Обоснование:
9.	Какие хозяйственные объекты можно увидеть на карте в городе Снов?	
10.	Какой из склонов – под цифрой 5 или под цифрой 6 –будет круче?	Под цифрой ____.
11.	В каком из лесов древесина будет более зрелая	Под цифрой ____.

Школьный этап всероссийской олимпиады школьников в 2023 -2024 уч. г. по географии 8 класс

Общее время выполнения работы – **90 минут**.

На выполнение заданий I (тестового) раунда отводится **30 минут**.

На II (аналитический) раунд отводится **60 минут**.

При ответе на задания запрещено пользоваться школьными и прочими атласами, справочными материалами, а также учебниками, мобильными телефонами, карманными компьютерами! Желаем успехов!

I РАУНД (ТЕСТОВЫЙ)

Ответьте на поставленные вопросы, выбрав **один** правильный вариант ответа. При ответе на вопросы будьте очень внимательны, так как некоторые вопросы требуют определить неверный вариант или имеют формулировку с отрицанием.

1. Выберите из предложенного списка морей самое соленое:

- 1) Охотское; 2) Аравийское; 3) Красное; 4) Балтийское.

2. Выберите правильное сочетание «горная система – высочайшая точка»:

- 1) Альпы – г. Аконкагуа (6960 м); 2) Алтай – г. Белуха (4506 м);
3) Большой Кавказ – Пик Коммунизма (7495 м); 4) Альпы – Эльбрус (5642 м).

3. Укажите правильное соотношение «Субъект Российской Федерации – объект рельефа, который там расположен»:

- 1) Приморский край – горы Сихотэ-Алинь; 2) Оренбургская обл. – Прикаспийская низм.;
3) Республика Карелия – Верхоянский хребет; 4) Мурманская обл. – Тиманский кряж.

4. Выберите правильное утверждение о проливах Земли:

- 1) Мозамбикский пролив расположен между материком Африка и островом Мадагаскар;
2) Пролив Дрейка расположен между Антарктидой и Австралией;
3) Берингов пролив расположен между островом Гренландия и Северной Америкой;
4) Баб-Эль-Мандебский пролив расположен между континентами Европа и Африка.

5. Назови наиболее продолжительную эру в истории Земли

- 1) кайнозой; 2) мезозой; 3) палеозой; 4) протерозой.

6. Выберите правильное утверждение «Океаническое течение – океан»:

- 1) Гольфстрим – Индийский; 2) Фолклендское – Северный Ледовитый;
3) Курисио – Тихий; 4) Перуанское – Атлантический.

7. Укажите правильное сочетание «Исследователь – географический регион, в котором работал»:

- 1) Д. Кук – п-ов Аляска; 2) Пржевальский – Канадский Арктический архипелаг;
3) Д. Ливингстон – Африка; 4) М.П. Лазарев, Ф.Ф. Беллинсгаузен – Средиземное море.

8. Выберите вариант ответа, в котором указаны самые сухие места на Земле:

- 1) Сухие долины Антарктиды, пустыня Атакама, Египет;
2) гора Черапунджи, Бразильское плоскогорье, г. Сочи (Россия);
3) Восточно-Европейская равнина, г. Народная (Уральские горы), г. Оймякон (Россия);
4) о. Мадагаскар, Королевство Марокко, западное побережье Австралии.

9. Что можно найти в кимберлитовых трубках?

- 1) золото; 2) алмазы; 3) платина; 4) серебро?

10. Укажите вариант ответа, в котором правильно указано соответствие «столицы стран мира – материк»:

- 1) Луанда, Найроби, Нуакшот – Северная Америка;
- 2) Каракас, Джорджтаун, Асунсьон – Южная Америка;
- 3) Тирана, Улан-Батор, Бишкек – Африка;
- 4) Манагуа, Тегусигальпа, Панама – Евразия.

11. С каким из перечисленных европейских государств Россия имеет самую небольшую по протяженности сухопутную границу:

- 1) Финляндия;
- 2) Украина;
- 3) Белоруссия;
- 4) Норвегия.

12. Какая из перечисленных пород метаморфическая по происхождению?

- 1) гнейс;
- 2) гранит;
- 3) глины;
- 4) мел ?

13. Найдите неверное высказывание об Африке:

- 1) В Африке преобладают высокие равнины, гор мало;
- 2) континент практически симметрично расположен по отношению к экватору;
- 3) здесь отмечены самые высокие температуры воздуха на Земле;
- 4) здесь расположено самое большое по площади озеро

14. В каком штате США стрелка компаса показывает не на север, а на восток?

- 1) Гавай
- 2) Калифорния
- 3) Аляска
- 4) Вайоминг

15. Какая территория России может подвергаться разрушительному воздействию тропических ураганов?

- 1) Прикаспийская низменность;
- 2) Приморский край;
- 3) Черноморское побережье;
- 4) Калининградская область?

16. Укажите верное соотношение «Пустыня – материк»:

- 1) пустыня Виктория – Северная Америка;
- 2) пустыня Гоби – Евразия;
- 3) пустыня Атакама – Африка;
- 4) пустыня Калахари – Южная Америка.

17. Говорят: «Ока – Волги правая рука». Какую реку можно назвать левой рукой Волги?

- 1) Каму;
- 2) Вятку;
- 3) Ахтубу;
- 4) Кострому.

18. В районе мыса Челюскин полярная ночь длится 100 дней в году. А сколько длится полярная ночь на Северном полярном круге?

- 1) один день;
- 2) два дня;
- 3) неделю;
- 4) месяц.

19. Самая длинная река европейской части России – это:

- 1) Обь;
- 2) Днепр;
- 3) Волга;
- 4) Северная Двина.

20. В каком из морей, омывающих берега России, с востока на запад плыл корабль, если капитана два дня подряд поздравляли с днем рождения?

- 1) в Черном море;
- 2) в Белом море;
- 3) в море Лаптевых;
- 4) в Беринговом море.

КОЛИЧЕСТВО БАЛЛОВ ЗА ТЕСТОВЫЙ РАУНД – 20

Тестовый раунд

Количество баллов — 20

Задание 1.

Каждый вопрос оцениваем в 1 балл.

№ вопроса	Ответ	№ вопроса	Ответ
1.	3 15	11.	4 15
2.	2 15	12.	2 05
3.	3 05	13.	24 15
4.	1 15	14.	3 15
5.	4 15	15.	2 15
6.	3 15	16.	1 05
7.	4 05	17.	X 3 05
8.	1 15	18.	4 05
9.	3 05	19.	2 05
10.	2 15	20.	4 15

Аналитический раунд 40 баллов

Задание 1. «Картография» (15 баллов)

Вашему вниманию представляется фрагмент топографической карты участка местности. Необходимо его изучить и ответить на ряд вопросов. Результаты своего картографического исследования необходимо оформить в предложенной таблице.

№	Вопрос	Ответ
1.	Какие объекты антропогенного рельефа обозначены цифрой 1?	
2.	Какой вид минерального сырья добывается на объекте под номером 2? Как называется этот объект?	Сырье: <u>шиш</u> . 0,55 Объект: <u>144,3</u> .
3.	Какой гидрографический объект расположен под номером 3? На какой абсолютной высоте находится этот объект?	Объект: <u>XIII</u> . Высота: <u>144,3</u> м. 0,55
4.	Какая часть участка местности наиболее заболочена (указать сторону горизонта)?	<u>север</u> 0,55
5.	Какая максимальная высота фиксируется на предложенном участке местности?	<u>159,7</u> м 0,55
6.	В каком направлении и по какому азимуту необходимо двигаться, чтобы попасть из совхоза Беличи в город Снов (для точности измерения примите за точки отсчета примерные геометрические центры объектов)?	Направление: <u>10-8</u> . 0,55 Азимут: <u>135</u> . 15.

7.	Какие объекты обозначены стрелками на карте под цифрой 4? Какова глубина этих объектов?	Объект: <u>канавы</u> Глубина: <u>2</u> м. <u>0,5б</u>
8.	Разъедутся ли два грузовых автомобиля, каждый из которых имеет ширину 3,5 м, следующие из совхоза Беличи по проезжей части шоссе, идущему в восточном направлении? Свой ответ обоснуйте.	<u>Нет</u> Обоснование: <u>т.к. ширина проезжей части велика, а расстояние для грузовика тем.</u> <u>2б</u>
9.	Какие хозяйственные объекты можно увидеть на карте в городе Снов?	<u>Мельница, улица имени Мельника</u> <u>0б</u>
10.	Какой из склонов – под цифрой 5 или под цифрой 6 – будет круче?	Под цифрой <u>5</u> . <u>1б</u>
11.	В каком из лесов древесина будет более зрелая (толщина стволов больше) – под цифрой 7 или 8?	Под цифрой <u>7</u> . <u>1б</u>
12.	В каком из лесов можно добывать хвойную древесину (лес под цифрой 7 или 8)?	Под цифрой <u>8</u> . <u>1б</u>
13.	По какой антропогенной форме рельефа (созданной человеком) проходят железные дороги на представленном плане местности?	<u>Искусственность</u> <u>0б</u>
14.	К какой природной зоне относится данный участок местности?	<u>0б</u>

Задание 2 (5 баллов)

Ответ: Берингово море. В 1850 году измерение
сделали кругосветно вместе с английской шхуной 0б

Задание 3 (10 баллов)

Ответ: Берингово море. 0б

Задание 4. (10 баллов)

Ответ: -15° 10б

МАКСИМАЛЬНО ВОЗМОЖНОЕ КОЛИЧЕСТВО БАЛЛОВ за работу: 60

Председатель жюри: М.В. Трафимов
Член жюри: М. Волк, В. И. Зайцева

Школьный этап всероссийской олимпиады школьников в 2023 -2024 уч. г. по географии 8 класс

Задание 3 Это окраинное море отделено от океана геосинклинальной дугой альпийской складчатости. Большую часть года море покрыто льдом, а летом активно развит промысел рыбы и крабов. Приливы достигают максимальной высоты в этой части света.

Назовите **море**. Что вы знаете о **человеке**, имя которого носит **залив** (назовите залив) в северной части моря?

КОЛИЧЕСТВО БАЛЛОВ – 10

Задание 4

Если на уровне Берингова моря температура равна $+12^{\circ}\text{C}$, то какова температура воздуха (содержащего водяные пары) на вершине вулкана Ключевская сопка (4688м)?

КОЛИЧЕСТВО БАЛЛОВ – 10

МАКСИМАЛЬНО ВОЗМОЖНОЕ КОЛИЧЕСТВО БАЛЛОВ за работу: 60.

Школьный этап всероссийской олимпиады школьников в 2023 -2024 уч. г. по географии 8 класс

Общее время выполнения работы – **90 минут**.

На выполнение заданий I (тестового) раунда отводится **30 минут**.

На II (аналитический) раунд отводится **60 минут**.

При ответе на задания запрещено пользоваться школьными и прочими атласами, справочными материалами, а также учебниками, мобильными телефонами, карманными компьютерами! Желаем успехов!

I РАУНД (ТЕСТОВЫЙ)

Ответьте на поставленные вопросы, выбрав **один** правильный вариант ответа. При ответе на вопросы будьте очень внимательны, так как некоторые вопросы требуют определить неверный вариант или имеют формулировку с отрицанием.

1. Выберите из предложенного списка морей самое солёное:

- 1) Охотское; 2) Аравийское; 3) Красное; 4) Балтийское.

2. Выберите правильное сочетание «горная система – высочайшая точка»:

- 1) Альпы – г. Аконкагуа (6960 м); 2) Алтай – г. Белуха (4506 м);
3) Большой Кавказ – Пик Коммунизма (7495 м); 4) Альпы – Эльбрус (5642 м).

3. Укажите правильное соотношение «Субъект Российской Федерации – объект рельефа, который там расположен»:

- 1) Приморский край – горы Сихотэ-Алинь; 2) Оренбургская обл. – Прикаспийская низм.;

- 3) Республика Карелия – Верхоянский хребет; 4) Мурманская обл. – Тиманский кряж.

4. Выберите правильное утверждение о проливах Земли:

- 1) Мозамбикский пролив расположен между материком Африка и островом Мадагаскар;
2) Пролив Дрейка расположен между Антарктидой и Австралией;
3) Берингов пролив расположен между островом Гренландия и Северной Америкой;
 4) Баб-Эль-Мандебский пролив расположен между континентами Европа и Африка.

5. Назови наиболее продолжительную эру в истории Земли

- 1) кайнозой; 2) мезозой; 3) палеозой; 4) протерозой.

6. Выберите правильное утверждение «Океаническое течение – океан»:

- 1) Гольфстрим – Индийский; 2) Фолклендское – Северный Ледовитый;
 3) Курисио – Тихий; 4) Перуанское – Атлантический.

7. Укажите правильное сочетание «Исследователь – географический регион, в котором работал»:

- 1) Д. Кук – п-ов Аляска; 2) Пржевальский – Канадский Арктический архипелаг;
 3) Д. Ливингстон – Африка; 4) М.П. Лазарев, Ф.Ф. Беллингаузен – Средиземное море.

8. Выберите вариант ответа, в котором указаны самые сухие места на Земле:

- 1) Сухие долины Антарктиды, пустыня Атакама, Египет;
2) гора Черапунджи, Бразильское плоскогорье, г. Сочи (Россия);
3) Восточно-Европейская равнина, г. Народная (Уральские горы), г. Оймякон (Россия);
4) о. Мадагаскар, Королевство Марокко, западное побережье Австралии.

9. Что можно найти в кимберлитовых трубках?

- 1) золото; 2) алмазы; 3) платина; 4) серебро?

Школьный этап всероссийской олимпиады школьников в 2023 -2024 уч. г. по географии 8 класс

10. Укажите вариант ответа, в котором правильно указано соответствие «столицы стран мира – материк»:

- 1) Луанда, Найроби, Нуакшот – Северная Америка;
 2) Каракас, Джорджтаун, Асунсьон – Южная Америка;
 3) Тирана, Улан-Батор, Бишкек – Африка;
 4) Манагуа, Тегусигальпа, Панама – Евразия.

11. С каким из перечисленных европейских государств Россия имеет самую небольшую по протяженности сухопутную границу:

- 1) Финляндия; 2) Украина; 3) Белоруссия; 4) Норвегия.

12. Какая из перечисленных пород метаморфическая по происхождению?

- 1) гнейс; 2) гранит; 3) глины; 4) мел?

13. Найдите неверное высказывание об Африке:

- 1) В Африке преобладают высокие равнины, гор мало;
 2) континент практически симметрично расположен по отношению к экватору;
 3) здесь отмечены самые высокие температуры воздуха на Земле;
 4) здесь расположено самое большое по площади озеро

14. В каком штате США стрелка компаса показывает не на север, а на восток?

- 1) Гавайи 2) Калифорния 3) Аляска 4) Вайоминг

15. Какая территория России может подвергаться разрушительному воздействию тропических ураганов?

- 1) Прикаспийская низменность; 2) Приморский край;
 3) Черноморское побережье; 4) Калининградская область?

16. Укажите верное соотношение «Пустыня – материк»:

- 1) пустыня Виктория – Северная Америка; 2) пустыня Гоби – Евразия;
 3) пустыня Атакама – Африка; 4) пустыня Калахари – Южная Америка.

17. Говорят: «Ока – Волги правая рука». Какую реку можно назвать левой рукой Волги?

- 1) Каму; 2) Вятку; 3) Ахтубу; 4) Кострому.

18. В районе мыса Челюскин полярная ночь длится 100 дней в году. А сколько длится полярная ночь на Северном полярном круге?

- 1) один день; 2) два дня; 3) неделю; 4) месяц.

19. Самая длинная река европейской части России – это:

- 1) Обь; 2) Днепр; 3) Волга; 4) Северная Двина.

20. В каком из морей, омывающих берега России, с востока на запад плыл корабль, если капитана два дня подряд поздравляли с днем рождения?

- 1) в Черном море; 2) в Белом море; 3) в море Лаптевых; 4) в Беринговом море.

КОЛИЧЕСТВО БАЛЛОВ ЗА ТЕСТОВЫЙ РАУНД – 20

ШИФР 100 080114

Школьный этап всероссийской олимпиады школьников в 2023 - 2024 уч. г. по географии 8 класс

Аналитический раунд 30 баллов

На II (аналитический) раунд отводится 60 минут. Количество баллов-40

Задание 1. «Картография».

Вашему вниманию представляется фрагмент топографической карты участка местности. Необходимо его изучить и ответить на ряд вопросов. Результаты своего картографического исследования необходимо оформить в предложенной таблице.

№	Вопрос	Ответ
1.	Какие объекты антропогенного рельефа обозначены цифрой 1?	
2.	Какой вид минерального сырья добывается на объекте под номером 2? Как называется этот объект?	Сырье: <u>железо</u> . Объект: <u>рудник</u> .
3.	Какой гидрографический объект расположен под номером 3? На какой абсолютной высоте находится этот объект?	Объект: <u>ручей</u> . Высота: <u>144,3</u> м.
4.	Какая часть участка местности наиболее заболочена (указать сторону горизонта)?	<u>СЗ</u>
5.	Какая максимальная высота фиксируется на предложенном участке местности?	<u>155,9</u> м
6.	В каком направлении и по какому азимуту необходимо двигаться, чтобы попасть из совхоза Беличи в город Снов (для точности измерения примите за точки отсчета примерные геометрические центры объектов)?	Направление: <u>Ю-В</u> . Азимут: <u>135°</u> .
7.	Какие объекты обозначены стрелками на карте под цифрой 4? Какова глубина этих объектов?	Объект: <u>болото</u> . Глубина: <u>2</u> м.
8.	Разъедутся ли два грузовых автомобиля, каждый из которых имеет ширину 3,5 м, следующие из совхоза Беличи по проезжей части шоссе, идущему в восточном направлении? Свой ответ обоснуйте.	Обоснование:
9.	Какие хозяйственные объекты можно увидеть на карте в городе Снов?	
10.	Какой из склонов – под цифрой 5 или под цифрой 6 – будет круче?	Под цифрой <u>6</u> .
11.	В каком из лесов древесина будет более зрелая	Под цифрой <u>7</u> .

	(толщина стволов больше) – под цифрой 7 или 8?	8
12.	В каком из лесов можно добывать хвойную древесину (лес под цифрой 7 или 8)?	Под цифрой 8.
13.	По какой антропогенной форме рельефа (созданной человеком) проходят железные дороги на представленном плане местности?	горы
14.	К какой природной зоне относится данный участок местности?	Б

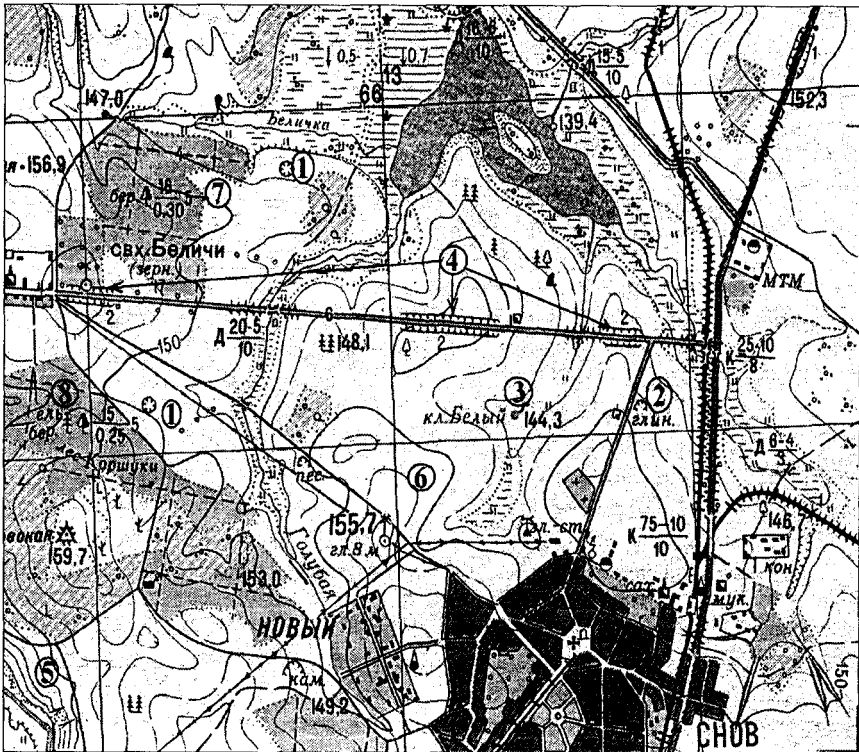


Рис. 1. Участок местности для задания 1

КОЛИЧЕСТВО БАЛЛОВ – 15

Задание 2. Как вы можете объяснить такой научный факт, что на картах 1950 года на полуострове Камчатка сопка Безымянная имела высоту 3085 м, а на картах 1960 года – 2585 м? Можете ли вы решить, что картографы просто допустили ошибку, но высота этой сопки действительно изменилась.

КОЛИЧЕСТВО БАЛЛОВ – 5

Тестовый раунд

325

Количество баллов — 20

Задание 1.

146 Каждый вопрос оцениваем в 1 балл.

№ вопроса	Ответ	№ вопроса	Ответ
1.	3 15	11.	4 15
2.	2 15	12.	4 05
3.	3 05	13.	4 15
4.	1 15	14.	3 15
5.	4 15	15.	3 05
6.	2 05	16.	2 15
7.	3 15	17.	1 15
8.	1 15	18.	4 05
9.	4 05	19.	3 15
10.	2 15	20.	4 15

Аналитический раунд 40 баллов

Задание 1. «Картография» (15 баллов)

186 Вашему вниманию представляется фрагмент топографической карты участка местности. Необходимо его изучить и ответить на ряд вопросов. Результаты своего картографического исследования необходимо оформить в предложенной таблице.

№	Вопрос	Ответ
1.	Какие объекты антропогенного рельефа обозначены цифрой 1?	-
2.	Какой вид минерального сырья добывается на объекте под номером 2? Как называется этот объект?	Сырье: <u>глина</u> . Объект: <u>карьер</u> . 15
3.	Какой гидрографический объект расположен под номером 3? На какой абсолютной высоте находится этот объект?	Объект: <u>р. К. Дачи</u> . Высота: <u>1443</u> м. 15
4.	Какая часть участка местности наиболее заболочена (указать сторону горизонта)?	<u>северная</u> 0,55
5.	Какая максимальная высота фиксируется на предложенном участке местности?	<u>159,7</u> м 0,55
6.	В каком направлении и по какому азимуту необходимо двигаться, чтобы попасть из совхоза Беличи в город Снов (для точности измерения примите за точки отсчета примерные геометрические центры объектов)?	Направление: <u>Ю-В</u> . Азимут: <u>р. Золотая</u> . 0,55

7.	Какие объекты обозначены стрелками на карте под цифрой 4? Какова глубина этих объектов?	Объект: <u>Кизменский</u> Глубина: <u>2</u> м. <u>0,56</u>
8.	Разъедутся ли два грузовых автомобиля, каждый из которых имеет ширину 3,5 м, следующие из совхоза Беличи по проезжей части шоссе, идущему в восточном направлении? Свой ответ обоснуйте.	Обоснование:
9.	Какие хозяйственные объекты можно увидеть на карте в городе Снов?	Кухня , производство: мукомольный, сахарный, электростанция, червяк <u>25</u>
10.	Какой из склонов – под цифрой 5 или под цифрой 6 – будет круче?	Под цифрой <u>6</u> . <u>05</u>
11.	В каком из лесов древесина будет более зрелая (толщина стволов больше) – под цифрой 7 или 8?	Под цифрой <u>7</u> . <u>15</u>
12.	В каком из лесов можно добывать хвойную древесину (лес под цифрой 7 или 8)?	Под цифрой <u>8</u> . <u>15</u>
13.	По какой антропогенной форме рельефа (созданной человеком) проходят железные дороги на представленном плане местности?	по дороге <u>05</u>
14.	К какой природной зоне относится данный участок местности?	- <u>05</u>

Задание 2 (5 баллов)

Ответ: Берингово море в 1950 на карте "Беринговский"
исходящая ледник, а к 1960 году ледник растаял

05

Задание 3 (10 баллов)

Ответ: Берингово море Ойотское море * Залив Шелихова
и Шелихов - иледованная, Зулский Колумб его называли

105

Задание 4. (10 баллов)

Ответ: + 20°C

05

МАКСИМАЛЬНО ВОЗМОЖНОЕ КОЛИЧЕСТВО БАЛЛОВ за работу 60

Председатель жюри: Графкина
Члены жюри: Волк Ю.И.
Зайцева И.А.

ШИФР 20080217

Школьный этап всероссийской олимпиады школьников в 2023-2024 уч. г. по географии 8 класс

Задание 3 Это окраинное море отделено от океана геосинклинальной дугой альпийской складчатости. Большую часть года море покрыто льдом, а летом активно развит промысел рыбы и крабов. Приливы достигают максимальной высоты в этой части света.

Назовите **море**. Что вы знаете о **человеке**, имя которого носит **залив** (назовите залив) в северной части моря?

КОЛИЧЕСТВО БАЛЛОВ – 10

Задание 4

Если на уровне Берингова моря температура равна $+12^{\circ}\text{C}$, то какова температура воздуха (содержащего водяные пары) на вершине вулкана Ключевская сопка (4688м)?

КОЛИЧЕСТВО БАЛЛОВ – 10

МАКСИМАЛЬНО ВОЗМОЖНОЕ КОЛИЧЕСТВО БАЛЛОВ за работу: 60.

365

Тестовый раунд

Количество баллов — 20

Задание 1.

Каждый вопрос оцениваем в 1 балл.

№ вопроса	Ответ	№ вопроса	Ответ
1.	2 1	11.	2
2.	3 1	12.	2 1
3.	3	13.	4 1
4.	1 1	14.	3 1
5.	4 1	15.	2 1
6.	4	16.	1
7.	1	17.	3
8.	2 1	18.	2
9.	г	19.	1
10.	4	20.	2 1

/105

Аналитический раунд 42 балла

Задание 1. (6 баллов)

Ответ: 1) Москвой кишинев темне для выразивания
 2) Сокода, ЮД
 3) Из-за ветра с моря
 4) динва, Беларусь

15

15

25

Задание 2 (10 баллов)

№	Вопрос	Ответ
1	О каком субъекте РФ идёт речь?	Архангельская область
2-3	Как называется субэтнос, представители которого, проживают на данной территории? Как называются парусные суда мореплавателей данного субэтноса?	
4	Укажите название города — спутника административного центра данного субъекта РФ.	
5	Укажите фамилию знаменитого российского учёного, выходца данной земли.	Ломоносов
6	Месторождение какого минерала названо в честь	

1

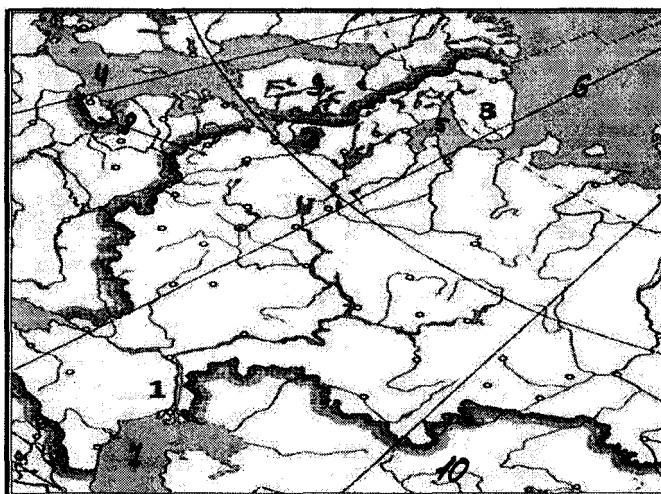
1

	данного ученого?	
7	Как называется месторождение бокситов, разрабатываемое в данном субъекте РФ?	
8	О каком возобновимом природном ресурсе идёт речь в тексте?	
9	Как называется космодром, расположенный в этом субъекте РФ?	Восточный

26

Задание 3 (10 баллов)

1) Укажите названия географических объектов, обозначенных на фрагменте контурной карты цифрами.



1. Река Волга
2. Ладожское озеро
3. Кольский полуостров

2) На контурной карте обозначьте цифрами географические объекты в соответствии с их порядковыми номерами в списке.

Географические объекты: 4 – Балтийское море, 5 – Белое море, 6 – Баренцево море, 7 – Каспийское море, 8 – Литва, 9 – Финляндия, 10 – Казахстан

Задание 4. (16 баллов)

Определите, на банкнотах (денежных знаках) каких государств из приведённого ниже списка в разные периоды были использованы изображения, указанные в таблице. Внесите во вторую графу таблицы порядковые номера государств из списка. Государства: 1 – Китай, 2 –

Канада, 3 – Новая Зеландия, 4 – Монголия, 5 – Австралийский Союз, 6 – Япония, 7 – Руанда,
8 – Узбекистан

Изображения	№ ответа
Ковры с национальным колоритом, архитектурные комплексы Бухары и Самарканда, цветок хлопчатника	8
Профиль королевы Елизаветы II, пингвин хойхо, птица киви	5
Сухэ-Батор, Чингисхан, стрельба из лука, лошади Пржевальского; юрта на повозке, запряжённой быками	4
Картины арктической природы, хоккей, королева Елизавета II, полярные гагары	2
Мао Цзэдун, панорама реки Хуанхэ в скалах, пейзаж Гималаев	1
Женщина банту на фоне вулканов Вирунга, кофейные зёрна	4
Гора Фудзи, цветение сакуры, журавли	6
Королева Елизавета II, ветка эвкалипта, созвездие Южный Крест, ветка акации, птица лирохвост; волы, перевозящие шерсть	3

МАКСИМАЛЬНО ВОЗМОЖНОЕ КОЛИЧЕСТВО БАЛЛОВ за работу

360

Председатель комиссии

Член комиссии

Handwritten signatures and initials

Президенту И. В.
Берку И. В.
Самойлову И. И.

Тестовый раунд

365

Количество баллов — 20

Задание 1.

Каждый вопрос оцениваем в 1 балл.

№ вопроса	Ответ	№ вопроса	Ответ
1.	2 1	11.	1 1
2.	3 1	12.	2 1
3.	2 1	13.	2 1
4.	2 1	14.	3 1
5.	4 1	15.	3 1
6.	3 1	16.	3 1
7.	2 1	17.	2 1
8.	1 1	18.	1 1
9.	2 1	19.	2 1
10.	3 1	20.	2 1

100

Аналитический раунд 42 балла

Задание 1. (6 баллов)

Ответ: ~~История России начиналась с древних племен~~
 и ~~Самостоятельная жизнь~~
 1) ~~Известные древние поселения в долине~~
 2) ~~Секундарные поселения в долине~~
 3) ~~Секундарные поселения в долине~~
 4) ~~Секундарные поселения в долине~~
 5) ~~Секундарные поселения в долине~~
 6) ~~Секундарные поселения в долине~~
 7) ~~Секундарные поселения в долине~~
 8) ~~Секундарные поселения в долине~~
 9) ~~Секундарные поселения в долине~~
 10) ~~Секундарные поселения в долине~~
 11) ~~Секундарные поселения в долине~~
 12) ~~Секундарные поселения в долине~~
 13) ~~Секундарные поселения в долине~~
 14) ~~Секундарные поселения в долине~~
 15) ~~Секундарные поселения в долине~~
 16) ~~Секундарные поселения в долине~~
 17) ~~Секундарные поселения в долине~~
 18) ~~Секундарные поселения в долине~~
 19) ~~Секундарные поселения в долине~~
 20) ~~Секундарные поселения в долине~~

9,5

0,5

10


Задание 2 (10 баллов)

№	Вопрос	Ответ
1	О каком субъекте РФ идёт речь?	
2-3	Как называется субъект, представители которого, проживают на данной территории? Как называются парусные суда мореплавателей данного субъекта?	
4	Укажите название города — спутника административного центра данного субъекта РФ.	
5	Укажите фамилию знаменитого русского учёного, выходца данной земли.	
6	Месторождение какого минерала названо в честь	

	данного ученого?	
7	Как называется месторождение бокситов, разрабатываемое в данном субъекте РФ?	
8	О каком возобновимом природном ресурсе идёт речь в тексте?	
9	Как называется космодром, расположенный в этом субъекте РФ?	

Задание 3 (10 баллов)

1) Укажите названия географических объектов, обозначенных на фрагменте контурной карты цифрами.



1. Река Волга 1
 2. Иудейское озеро 1
 3. Саломон полуостров

95

2) На контурной карте обозначьте цифрами географические объекты в соответствии с их порядковыми номерами в списке.

Географические объекты: 4 – Балтийское море, 5 – Белое море, 6 – Баренцево море,
 7-Каспийское море, 8 – Литва, 9 – Финляндия, 10 – Казахстан

Задание 4. (16 баллов)

Определите, на банкнотах (денежных знаках) каких государств из приведённого ниже списка в разные периоды были использованы изображения, указанные в таблице. Внесите во вторую графу таблицы порядковые номера государств из списка. Государства: 1– Китай, 2 –

Канада, 3 – Новая Зеландия, 4 – Монголия, 5 – Австралийский Союз, 6 – Япония, 7 – Руанда,
8 – Узбекистан

Изображения	№ ответа
Ковры с национальным колоритом, архитектурные комплексы Бухары и Самарканда, цветок хлопчатника	8.
Профиль королевы Елизаветы II, пингвин хойхо, птица киви	3.
Сухэ-Батор, Чингисхан, стрельба из лука, лошади Пржевальского; юрта на повозке, запряжённой быками	4
Картины арктической природы, хоккей, королева Елизавета II, полярные гагары	2.
Мао Цзэдун, панорама реки Хуанхэ в скалах, пейзаж Гималаев	1.
Женщина банту на фоне вулканов Вирунга, кофейные зёрна	7.
Гора Фудзи, цветение сакуры, журавли	6.
Королева Елизавета II, ветка эвкалипта, созвездие Южный Крест, ветка акации, птица лирохвост; волы, перевозящие шерсть	5.

МАКСИМАЛЬНО ВОЗМОЖНОЕ КОЛИЧЕСТВО БАЛЛОВ за работу

Продолжить

12
2
4

apud... M. B.
... 1844
... 1844

Тео 090301

355

Тестовый раунд

Количество баллов — 20

Задание 1.

Каждый вопрос оцениваем в 1 балл.

№ вопроса	Ответ	№ вопроса	Ответ
1.	2 1	11.	1
2.	3 1	12.	2 1
3.	3	13.	4 1
4.	1 1	14.	2
5.	4 1	15.	2 1
6.	4	16.	4
7.	1	17.	2 1
8.	4	18.	1 1
9.	4 1	19.	1
10.	3	20.	4

Аналитический раунд 42 балла

Задание 1. (6 баллов)

Ответ: Во первых они расположены в
 рознь и различаются цветом парнейкими
 если это связано с расположением
 2) дельта ель
 3) сильный западный ветер
 4) шель лавий
 5) Калининградский осадочный массив.

100
 1
 0,5
 2,50

Задание 2 (10 баллов)

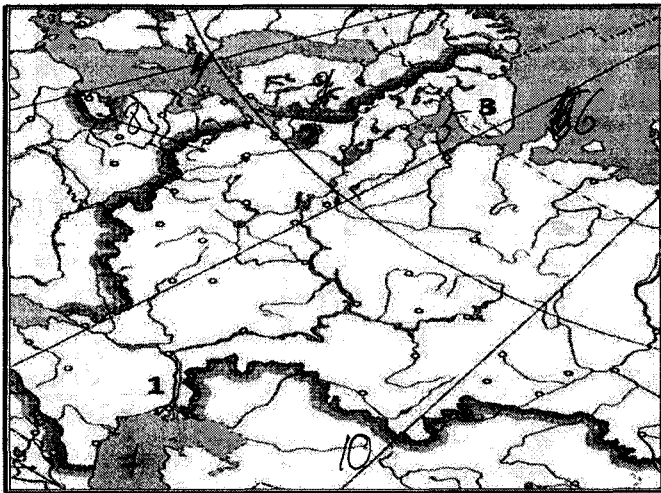
№	Вопрос	Ответ
1	О каком субъекте РФ идёт речь?	Урал
2-3	Как называется субэтнос, представители которого, проживают на данной территории? Как называются парусные суда мореплавателей данного субэтноса?	
4	Укажите название города — спутника административного центра данного субъекта РФ.	
5	Укажите фамилию знаменитого российского учёного, выходца данной земли.	Амозав
6	Месторождение какого минерала названо в честь	Амозав

10

	данного ученого?	<i>Ломо</i>
7	Как называется месторождение бокситов, разрабатываемое в данном субъекте РФ?	
8	О каком возобновимом природном ресурсе идёт речь в тексте?	<i>Лесоз</i>
9	Как называется космодром, расположенный в этом субъекте РФ?	

Задание 3 (10 баллов)

1) Укажите названия географических объектов, обозначенных на фрагменте контурной карты цифрами.



1. Река Волга 1
2. Ладожское озеро 1
3. Кавказский полуостров 1

2) На контурной карте обозначьте цифрами географические объекты в соответствии с их порядковыми номерами в списке.

Географические объекты: 4 – Балтийское море, 5 – Белое море, 6 – Баренцево море,
7 – Каспийское море, 8 – Литва, 9 – Финляндия, 10 – Казахстан

Задание 4. (16 баллов)

Определите, на банкнотах (денежных знаках) каких государств из приведённого ниже списка в разные периоды были использованы изображения, указанные в таблице. Внесите во вторую графу таблицы порядковые номера государств из списка. Государства: 1 – Китай, 2 –

3 – Канада, 4 – Новая Зеландия, 5 – Монголия, 6 – Австралийский Союз, 7 – Япония, 8 – Руанда,
9 – Узбекистан

Изображения	№ ответа
Ковры с национальным колоритом, архитектурные комплексы Бухары и Самарканда, цветок хлопчатника	1
Профиль королевы Елизаветы II, пингвин хойхо, птица киви	400 3
Сухэ-Батор, Чингисхан, стрельба из лука, лошади Пржевальского; юрта на повозке, запряжённой быками	4
Картины арктической природы, хоккей, королева Елизавета II, полярные гагары	2
Мао Цзэдун, панорама реки Хуанхэ в скалах, пейзаж Гималаев	8
Женщина банту на фоне вулканов Вирунга, кофейные зёрна	7
Гора Фудзи, цветение сакуры, журавли	6
Королева Елизавета II, ветка эвкалипта, созвездие Южный Крест, ветка акации, птица лирохвост; волы, перевозящие шерсть	5

МАКСИМАЛЬНО ВОЗМОЖНОЕ КОЛИЧЕСТВО БАЛЛОВ за работу

35,5

Председатель комиссии Т. В.
 Член комиссии И. В.

Коллекция М. Б.
Великий
Зачепа М. А.

350

Тестовый раунд
Количество баллов — 20

Задание 1.

Каждый вопрос оцениваем в 1 балл.

№ вопроса	Ответ	№ вопроса	Ответ
1.	4	11.	4
2.	3 1	12.	4
3.	3	13.	4 1
4.	4	14.	2
5.	4 1	15.	2 1
6.	4	16.	4
7.	1	17.	2 1
8.	2 1	18.	2 1
9.	2	19.	2
10.	2 1	20.	2 1

90

Аналитический раунд 42 балла

Задание 1. (6 баллов)

Ответ: 1) отсчёт времени моря и морского климата; 2) берега, мест ветвления; 3) воздействие ветра; 4) м-ва, волны; 5)

20

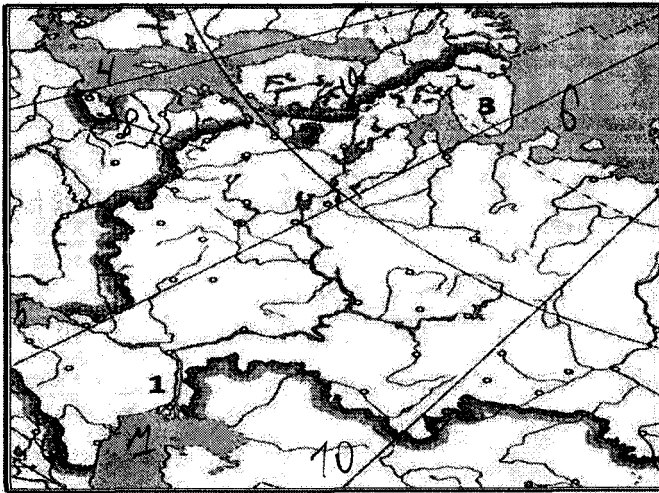
Задание 2 (10 баллов)

№	Вопрос	Ответ
1	О каком субъекте РФ идёт речь?	
2-3	Как называется субэтнос, представители которого, проживают на данной территории? Как называются парусные суда мореплавателей данного субэтноса?	
4	Укажите название города — спутника административного центра данного субъекта РФ.	
5	Укажите фамилию знаменитого российского учёного, выходца данной земли.	
6	Месторождение какого минерала названо в честь	

	данного ученого?	
7	Как называется месторождение бокситов, разрабатываемое в данном субъекте РФ?	
8	О каком возобновимом природном ресурсе идёт речь в тексте?	
9	Как называется космодром, расположенный в этом субъекте РФ?	

Задание 3 (10 баллов)

1) Укажите названия географических объектов, обозначенных на фрагменте контурной карты цифрами.



1. Река Дунай
2. _____ озеро
3. Крымский полуостров

2) На контурной карте обозначьте цифрами географические объекты в соответствии с их порядковыми номерами в списке.

Географические объекты: 4 – Балтийское море, 5 – Белое море, 6 – Баренцево море, 7 – Каспийское море, 8 – Литва, 9 – Финляндия, 10 – Казахстан

Задание 4. (16 баллов)

Определите, на банкнотах (денежных знаках) каких государств из приведённого ниже списка в разные периоды были использованы изображения, указанные в таблице. Внесите во вторую графу таблицы порядковые номера государств из списка. Государства: 1 – Китай, 2 –

Канада, 3 – Новая Зеландия, 4 – Монголия, 5 – Австралийский Союз, 6 – Япония, 7 – Руанда,
8 – Узбекистан

Изображения	№ ответа
Ковры с национальным колоритом, архитектурные комплексы Бухары и Самарканда, цветок хлопчатника	8
Профиль королевы Елизаветы II, пингвин хойхо, птица киви	3
Сухэ-Батор, Чингисхан, стрельба из лука, лошади Пржевальского; юрта на повозке, запряжённой быками	4
Картины арктической природы, хоккей, королева Елизавета II, полярные гагары	2
Мао Цзэдун, панорама реки Хуанхэ в скалах, пейзаж Гималаев	7
Женщина банту на фоне вулканов Вирунга, кофейные зёрна	7
Гора Фудзи, цветение сакуры, журавли	6
Королева Елизавета II, ветка эвкалипта, созвездие Южный Крест, ветка акации, птица лирохвост; волы, перевозящие шерсть	5

МАКСИМАЛЬНО ВОЗМОЖНОЕ КОЛИЧЕСТВО БАЛЛОВ за работу

35

Приседания кроссфит
Челси Кеннет

1. The Commission on
K. B. W. U.
H. J. B. W. U. K. U.

1 КООУОЮОХ

Тестовый раунд

Количество баллов — 20

Задание 1. 34

Каждый вопрос оцениваем в 1 балл.

№ вопроса	Ответ	№ вопроса	Ответ
1.	4	11.	3 1
2.	3 1	12.	4 1
3.	2 1	13.	4 1
4.	1 1	14.	3 1
5.	4 1	15.	2 1
6.	4	16.	4
7.	4	17.	4
8.	3	18.	4
9.	2 1	19.	4
10.	2 1	20.	4

Аналитический раунд 42 балла 76

Задание 1. (6 баллов)

Ответ:

- 2) южная, берега 0,5
- 3) из-за ветров 0,5
- 4) муссон, пустыня

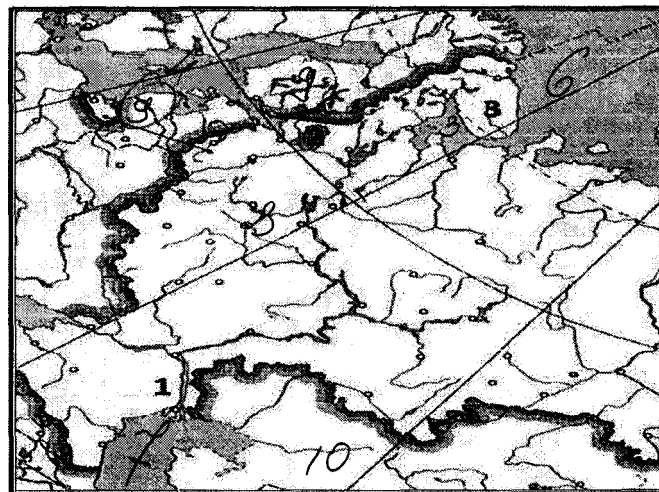
Задание 2 (10 баллов) 76

№	Вопрос	Ответ
1	О каком субъекте РФ идёт речь?	Архангельская обл.
2-3	Как называется субэтнос, представители которого, проживают на данной территории? Как называются парусные суда мореплавателей данного субэтноса?	
4	Укажите название города — спутника административного центра данного субъекта РФ.	Архангельск
5	Укажите фамилию знаменитого российского учёного, выходца данной земли.	
6	Месторождение какого минерала названо в честь	

	данного учёного?	
7	Как называется месторождение бокситов, разрабатываемое в данном субъекте РФ?	
8	О каком возобновимом природном ресурсе идёт речь в тексте?	
9	Как называется космодром, расположенный в этом субъекте РФ?	Восточный

Задание 3 (10 баллов)

1) Укажите названия географических объектов, обозначенных на фрагменте контурной карты цифрами.



- 1. Река Волга 1
 - 2. Ладога озеро 1
 - 3. Кольский полуостров 1
- 2) На контурной карте обозначьте цифрами географические объекты в соответствии с их порядковыми номерами в списке.
 Географические объекты: 4 – Балтийское море, 5 – Белое море, 6 – Баренцево море, 7 – Каспийское море, 8 – Литва, 9 – Финляндия, 10 – Казахстан 60

Задание 4. (16 баллов)

Определите, на банкнотах (денежных знаках) каких государств из приведённого ниже списка в разные периоды были использованы изображения, указанные в таблице. Внесите во вторую графу таблицы порядковые номера государств из списка. Государства: 1 – Китай, 2 –

Канада, 3 – Новая Зеландия, 4 – Монголия, 5 – Австралийский Союз, 6 – Япония, 7 – Руанда,
8 – Узбекистан

Изображения	№ ответа
Ковры с национальным колоритом, архитектурные комплексы Бухары и Самарканда, цветков хлопчатника	8
Профиль королевы Елизаветы II, пингвин хойхо, птица киви	3
Сухэ-Батор, Чингисхан, стрельба из лука, лошади Пржевальского; юрта на повозке, запряжённой быками	4
Картины арктической природы, хоккей, королева Елизавета II, полярные гагары	2
Мао Цзэдун, панорама реки Хуанхэ в скалах, пейзаж Гималаев	1
Женщина банту на фоне вулканов Вирунга, кофейные зёрна	7
Гора Фудзи, цветение сакуры, журавли	6
Королева Елизавета II, ветка эвкалипта, созвездие Южный Крест, ветка акации, птица лирохвост; волы, перевозящие шерсть	5

МАКСИМАЛЬНО ВОЗМОЖНОЕ КОЛИЧЕСТВО БАЛЛОВ за работу

346

Продолжить *кассет*
Числа *кассет*

The Proceedings of
the Board of
the University of

34,50

Тестовый раунд
Количество баллов — 20

Задание 1.

Каждый вопрос оцениваем в 1 балл.

№ вопроса	Ответ	№ вопроса	Ответ
1. 2	2 1	11. 1	1
2. 3	3 1	12. 2	2 1
3. 3	3 1	13. 4	4 1
4. 1	1 1	14. 3	3 1
5. 4	4 1	15. 4	4
6. 2	2	16. 2	2
7. 2	2	17. 3	3
8. 4	4	18. 1	1
9. 7	7 1	19. 2	2 1
10. 3	3	20. 2	2 1

Аналитический раунд 42 балла

Задание 1. (6 баллов)

Ответ: 1) Там мало воды
2) Берёда, Сошо
3) Уз-за Вепра
4) Мыва, Биларуль
5) Кашиштрадкийи дэньб шлест много чеченити
← морем

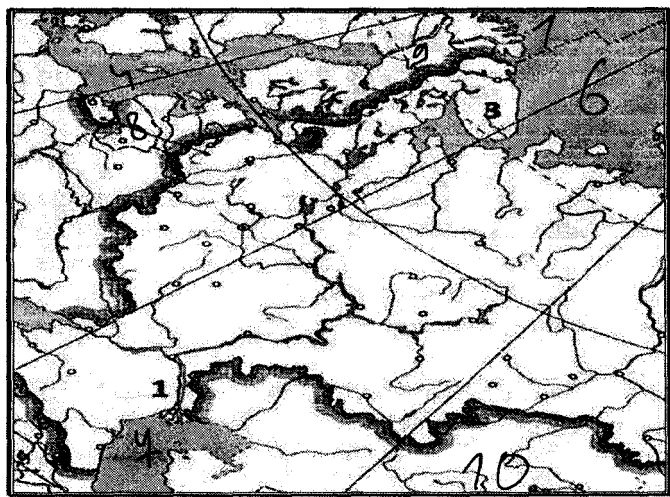
Задание 2 (10 баллов)

№	Вопрос	Ответ
1	О каком субъекте РФ идёт речь?	
2-3	Как называется субэтнос, представители которого, проживают на данной территории? Как называются парусные суда мореплавателей данного субэтноса?	
4	Укажите название города — спутника административного центра данного субъекта РФ.	Армавир
5	Укажите фамилию знаменитого российского учёного, выходца данной земли.	Ломоносов
6	Месторождение какого минерала названо в честь	Алмаз

	данного ученого?	
7	Как называется месторождение бокситов, разрабатываемое в данном субъекте РФ?	
8	О каком возобновимом природном ресурсе идёт речь в тексте?	
9	Как называется космодром, расположенный в этом субъекте РФ?	Владивостокский

Задание 3 (10 баллов)

1) Укажите названия географических объектов, обозначенных на фрагменте контурной карты цифрами.



- 1. Река Волга
- 2. Ладожское озеро
- 3. Кольский полуостров

2) На контурной карте обозначьте цифрами географические объекты в соответствии с их порядковыми номерами в списке.

Географические объекты: 4 – Балтийское море, 5 – Белое море, 6 – Баренцево море, 7-Каспийское море, 8 – Литва, 9 – Финляндия, 10 – Казахстан

Задание 4. (16 баллов)

Определите, на банкнотах (денежных знаках) каких государств из приведённого ниже списка в разные периоды были использованы изображения, указанные в таблице. Внесите во вторую графу таблицы порядковые номера государств из списка. Государства: 1– Китай, 2 –

Канада, 3 – Новая Зеландия, 4 – Монголия, 5 – Австралийский Союз, 6 – Япония, 7 – Руанда,
8 – Узбекистан

Изображения	№ ответа
Ковры с национальным колоритом, архитектурные комплексы Бухары и Самарканда, цветок хлопчатника	8
Профиль королевы Елизаветы II, пингвин хойхо, птица киви	3
Сухэ-Батор, Чингисхан, стрельба из лука, лошади Пржевальского; юрта на повозке, запряжённой быками	4
Картины арктической природы, хоккей, королева Елизавета II, полярные гагары	2
Мао Цзэдун, панорама реки Хуанхэ в скалах, пейзаж Гималаев	4
Женщина банту на фоне вулканов Вирунга, кофейные зёрна	1
Гора Фудзи, цветение сакуры, журавли	6
Королева Елизавета II, ветка эвкалипта, созвездие Южный Крест, ветка акации, птица лирохвост; волы, перевозящие шерсть	5

2
2
2
2
2
2
2

МАКСИМАЛЬНО ВОЗМОЖНОЕ КОЛИЧЕСТВО БАЛЛОВ за работу

38/105

Председатель комиссии И.А. Труфанов, ул. В
 Член комиссии Р.В. Башир, ул. В
 Член комиссии И.А. Труфанов, ул. В

Тестовый раунд

Количество баллов — 20

Задание 1.

Каждый вопрос оцениваем в 1 балл.

7,5

№ вопроса	Ответ	№ вопроса	Ответ
1.1.	a	1.11.	l +
1.2.	b, g	1.12.	0, 5
1.3.	2, 5 +	1.13.	0 +
1.4.	0	1.14.	7
1.5.	b, l +	1.15.	7
1.6.	a, 5 +	1.16.	0, 7 +
1.7.	a, 0 +	1.17.	a
1.8.	b, 0 +	1.18.	0
1.9.	b +	1.19.	7
1.10.	f	1.20.	g

Аналитический раунд 60 баллов

Задание 2 (6 баллов).

Задание	Ответ
Море	
Самая населенная страна	
Монархии	
Федерации	

Задание 3 (6 баллов)

6,5

1	2	3	4	5	6
Г +	В +	А +	Е +	А +	Б +

Задание 4 (6 баллов)

1,5

1	2	3	4	5	6
А	Б	А +	В	Г	Е

Григорьев С.

Задание 5. (8 баллов) 08

№	Характеристики	Географический объект
1	Страна	Россия
2	Материк	Евразия
3	Самое сухое место	
4	Самое влажное место	
5	Самая низкая точка	"Байкал"
6	Самое холодное место	Иурманск
7	Самое ветренное место	Юрта-центр
8	Самая высокая точка	Эльбрус

Задание 6 (12 баллов) 68

Старинное название	Современное название	Старинное название	Современное название
Царицын +	Волгоград	Новониколаевск	Новосибирск
Горький +	Нижний Новгород	Чкалов	Чкаловск
Калинин +	Тверь	Свердловск +	Екатеринбург
Щегловск		Усть-Сысольск	
Куйбышев +	Самара	Верхнеудинск	
Тойхара		Кёнигсберг +	Калининград

Задание 7. (9 баллов)

№	Названия гор	Географические названия гор
1	«индийские горы»	
2	«крыша мира»	Эверест
3	«крыша Африки»	+ Килиманджаро
4	«каменный пояс»	
5	«мать Земли»	
6	«люб неба»	

7	«медные горы»	
8	«золотые горы»	
9	«сверкающая гора»	

Задание 8 (12 баллов)

Ответ: _____

Задание 9 (1 балл)

Россия

МАКСИМАЛЬНО ВОЗМОЖНОЕ КОЛИЧЕСТВО БАЛЛОВ за работу: 60

Школьный этап всероссийской олимпиады школьников в 2023-2024 уч. г. по географии 10 - 11 класс
Общее время выполнения работы – 135 минут.

На задание 1 (тестовый раунд) отводится 45 минут, затем листы с ответами собираются.

На задания 2 –6 (аналитический раунд) отводится 90 минут. *Желаем успеха!*

Тестовый раунд

Количество баллов — 20

Задание 1. Задание включает 20 вопросов, к каждому из которых предложено несколько вариантов ответов. На каждый вопрос выберите ответ или ответы, которые вы считаете наиболее полными и правильными. Обведите в кружок буквы выбранных ответов

1.1. Укажите верные пары «страна–гигант по численности населения и ее столица».

- а) Бразилия – Рио-де-Жанейро; б) Пакистан - Исламабад;
в) Нигерия - Лагос; г) США – Нью-Йорк.

1.2. Федеративным государством не является?

- а) Франция; б) США; в) Индия; г) Германия; д) Мексика.

1.3. Определите страну по описанию. Это полуостровное государство по форме правления является конституционной монархией, относится к НИС («Новым индустриальным странам»).

- а) Саудовская Аравия; б) Мексика; в) Норвегия; г) Тайланд.

1.4. Определите страну по описанию. Это полуостровное государство является конституционной монархией, его береговая линия равна примерно длине экватора, является развитой страной:

- а) Испания; б) Дания; в) Норвегия; г) Швеция.

1.5. Укажите верное сочетание «район – сельскохозяйственные культуры».

- а) Северо-Западный район – рис, соя, виноград;
б) Поволжье – лён, бахчевые, рис;
в) Волго-Вятский район – картофель, рожь, сахарная свекла;
г) Приморье – соя, рис, овощи.

1.6. Укажите верное сочетание «город – отрасль машиностроения».

- а) Энгельс – производство троллейбусов;
б) Ижевск – авиастроение;
в) Мурманск – автомобилестроение;
г) Рязань – производство трелевочных тракторов.

1.7. Укажите верное сочетание «город-металл – фактор размещения».

- а) Норильск – никель - энергетический;
б) Красноярск – алюминий - сырьевой;
в) Череповец – сталь - транспортный;
г) Волгоград – олово - потребительский.

1.8. Укажите верное сочетание «порт – вид вывозимого груза».

- а) Мурманск – лес; б) Новороссийск – нефть;
в) Архангельск - руда; г) Дудинка - зерно.

Школьный этап всероссийской олимпиады школьников в 2023 - 2024 уч. г. по географии 10 - 11 класс

1.9. С этого похода в XVI в. Начался период «хождения встреч солнцу», завершившийся выходом к Тихому океану. Кто возглавил этот поход?

- а) Пржевальский; б) Берг; в) Москвитин; **в) Беринг.**

1.10. Как по-якутски звучит словосочетание «Холм с ледяным ядром»?

- а) отуряж; б) курум; **в) друмлин;** г) булгуннях.

1.11. Какое животное или растение характерно для скрэба?

- а) баобаб; б) шимпанзе; в) алоэ; **г) кенгуру.**

1.12. Корабль, на котором было совершено первое кругосветное путешествие – это:

- а) «Виктория»; **б) «Санта-Мария»;** в) «Надежда»; г) «Золотая Лань».

1.13. Государство Африки, расположенное на двух материках, - это:

- а) Заир; **б) Египет;** в) Конго; г) Марокко.

1.14. Какое соотношение мужчин и женщин в районах нового освоения?

- а) поровну мужчин и женщин; б) преобладают женщины;
в) преобладают мужчины; **г) примерно поровну с преобладанием женщин.**

1.15. Субъект, имеющий в своем составе самый маленький процент титульной нации – это:

- а) Республика Татарстан; б) Чеченская республика;
в) Республика Карелия; **г) Республика Удмуртия.**

1.16. К нефтедобывающим странам относятся:

- а) Аргентина; **б) Иран;** в) Украина; **г) Непал;** д) Южная Корея.

1.17. Наибольшими запасами железной руды обладают.

- а) развивающиеся страны;** б) развитые страны;
в) новые индустриальные страны.

1.18. Найдите ряд городов, каждый из которых является центром производства легковых автомобилей:

- а) Серпухов, Людиново, Калуга**
б) Нижний Новгород, Тольятти, Ульяновск
в) Тольятти, Павлово, Рязань
г) Ульяновск, Ликино-Дулево, Москва

1.19. Материк, на котором нет монархий, - это:

- а) Африка; б) Южная Америка; в) Австралия; **г) Северная Америка.**

1.20. Определите субъект Российской Федерации по описанию: Здесь начинается крупная река России, впадающая в бессточный бассейн, отсюда родом великий русский путешественник, первым из русских побывавший в Индии, здесь развито льноводство.

- а) Тульская область; б) республика Коми; в) Тверская область;
г) Смоленская область; **д) республика Чувашия.**

Задание 2.

Это море играет большую роль в жизни стран и народов, живущих вокруг него. Здесь преобладают народы германской группы, индоевропейской семьи, семь титульных языков этих стран относятся к финно-угорской группе, два – к славянской.

Назовите море и самую населенную страну, берега которой оно омывает, а также страны, являющиеся монархиями и федерациями.

За каждый правильный ответ – 1 балл.

6 баллов

Задание	Ответ
Море	
Самая населенная страна	
Монархии	
Федерации	

Задание 3

6 баллов

Найдите соответствия: Город - Достопримечательность

1. Владимир	А. Памятник «Тысячелетие России»
2. Волгоград	Б. Эрмитаж
3. Кострома	В. Мамаев Курган
4. Москва	Г. Золотые Ворота
5. Новгород	Д. Ипатьевский монастырь
6. Санкт-Петербург	Е. Колокольня Ивана Великого

1	2	3	4	5	6
Г	В	А	Е	А	Б

Задание 4. Установите соответствие между государством и его характеристикой.

За каждый правильный ответ начисляется 1 балл

6 баллов

Найдите соответствие между правой и левой колонками. Запишите соответствующие буквы в строку ответа.

Государство

- Польша
- Канада
- Россия
- Франция

Характеристика

- Государство в составе СНГ
- Государство – член НАТО
- Одно из самых развитых государств Европы
- Государство в составе Содружества

ШИФР

Школьный этап всероссийской олимпиады школьников в 2023 -2024 уч. г. по географии 10 - 11 класс

5. Беларусь д) Самое большое государство в мире
 6. Германия е) Самое большое государство в Европе

Ответ:

1	2	3	4	5	6
А	Б	А	В	Г	Е

Задание 5.

Этой стране принадлежит самое сухое, самое влажное, самое теплое и самое ветренное место материка, а также самая высокая и низкая точка этого же континента. О какой стране идет речь? Дайте названия районов, обладающих вышеперечисленными характеристиками. Назовите материк.

№	Характеристики	Географический объект
1	Страна	
2	Материк	
3	Самое сухое место	
4	Самое влажное место	
5	Самая низкая точка	
6	Самое холодное место	
7	Самое ветренное место	
8	Самая высокая точка	

За каждый правильный ответ начисляется 1 балл

8 баллов

Задание 6.

На современной карте России нет городов с названиями:

Царицын, Горький, Калинин, Щегловск, Куйбышев, Новониколаевск, Чкалов, Свердловск, Усть-Сысольск, Верхнеудинск, Тойохара. А между тем так когда-то назывались административные центры современных субъектов Российской Федерации.

Приведите современные названия этих городов.

Старинное название	Современное название	Старинное название	Современное название
Царицын		Новониколаевск	
Горький		Чкалов	
Калинин		Свердловск	
Щегловск		Усть-Сысольск	
Куйбышев		Верхнеудинск	
Тойхара		Кёнигсберг	

За каждый правильный ответ начисляется 1 балл

12 баллов

ШИФР

Школьный этап всероссийской олимпиады школьников в 2023 - 2024 уч. г. по географии 10 - 11 класс

Задание 9.

1 балл

Эта страна-архипелаг по форме правления является конституционной монархией. Однородное по национальному составу население этой страны отличается большой численностью: она входит в первую десятку населения стран мира. Страна обладает очень крупным и самым современным морским торговым флотом, так как около 9/10 используемого сырья и топлива импортируется.

МАКСИМАЛЬНО ВОЗМОЖНОЕ КОЛИЧЕСТВО БАЛЛОВ за работу: 80

Присудители жюри: Крут (Трафкина И.В.)
Шенко жюри: Зин (Зайцева М.А.)
Журов (Волк Ю.С.)⁶

185

Тестовый раунд

Количество баллов — 20

Задание 1.

Каждый вопрос оцениваем в 1 балл.

110.

№ вопроса	Ответ	№ вопроса	Ответ
1.1.	а	1.11.	б
1.2.	а +	1.12.	а
1.3.	б	1.13.	б +
1.4.	б +	1.14.	а
1.5.	б	1.15.	б +
1.6.	а +	1.16.	а
1.7.	б +	1.17.	б +
1.8.	б +	1.18.	б +
1.9.	б +	1.19.	б
1.10.	б 2. +	1.20.	а

Аналитический раунд 60 баллов

Задание 2 (6 баллов).

100.

Задание	Ответ
Море	Клонское
Самая населенная страна	Япония
Монархии	
Федерации	Японская.

Задание 3 (6 баллов)

15.

1	2	3	4	5	6
A	б	г	в	д	е

Задание 4 (6 баллов)

20.

1	2	3	4	5	6
б +	в +	д	а	г	е

Задание 5. (8 баллов)

0,5

№	Характеристики	Географический объект
1	Страна	Россия
2	Материк	Евразия.
3	Самое сухое место	пустыня
4	Самое влажное место	море
5	Самая низкая точка	Мариинская впадина
6	Самое холодное место	Муромск
7	Самое ветреное место	Юкта центр
8	Самая высокая точка	Эльбрус.

Задание 6 (12 баллов)

5,0

Старинное название	Современное название	Старинное название	Современное название
Царицын	+ Волжская	Новониколаевск	
Горький	+ имени Ковалев	Чкалов	Чкаловск
Калинин	+ Тверь	Свердловск	+ Екатеринбург
Щегловск		Усть-Сысольск	
Куйбышев	Казань	Верхнеудинск	
Тойхара	Самара	Кёнигсберг	+ Калининград

Задание 7. (9 баллов)

№	Названия гор	Географические названия гор
1	«индийские горы»	
2	«крыша мира»	
3	«крыша Африки»	
4	«каменный пояс»	
5	«мать Земли»	
6	«лоб неба»	

Школьный этап всероссийской олимпиады школьников в 2023 - 2024 уч. г. по географии 10 - 11 класс

Общее время выполнения работы – 135 минут.

На задание 1 (тестовый раунд) отводится 45 минут, затем листы с ответами собираются.

На задания 2 – 6 (аналитический раунд) отводится 90 минут. *Желаем успеха!*

Тестовый раунд

Количество баллов — 20

Задание 1. Задание включает 20 вопросов, к каждому из которых предложено несколько вариантов ответов. На каждый вопрос выберите ответ или ответы, которые вы считаете наиболее полными и правильными. Обведите в кружок буквы выбранных ответов

1.1. Укажите верные пары «страна–гигант по численности населения и ее столица».

- а) Бразилия – Рио-де-Жанейро; б) Пакистан - Исламабад;
в) Нигерия - Лагос; г) США – Нью-Йорк.

1.2. Федеративным государством не является?

- а) Франция; б) США; в) Индия; г) Германия; д) Мексика.

1.3. Определите страну по описанию. Это полуостровное государство по форме правления является конституционной монархией, относится к НИС («Новым индустриальным странам»).

- а) Саудовская Аравия; б) Мексика; в) Норвегия; г) Тайланд.

1.4. Определите страну по описанию. Это полуостровное государство является конституционной монархией, его береговая линия равна примерно длине экватора, является развитой страной:

- а) Испания; б) Дания; в) Норвегия; г) Швеция.

1.5. Укажите верное сочетание «район – сельскохозяйственные культуры».

- а) Северо-Западный район – рис, соя, виноград;
б) Поволжье – лён, бахчевые, рис;
в) Волго-Вятский район – картофель, рожь, сахарная свекла;
г) Приморье – соя, рис, овощи.

1.6. Укажите верное сочетание «город – отрасль машиностроения».

- а) Энгельс – производство троллейбусов;
б) Ижевск – авиастроение;
в) Мурманск – автомобилестроение;
г) Рязань – производство трелевочных тракторов.

1.7. Укажите верное сочетание «город-металл – фактор размещения».

- а) Норильск – никель - энергетический;
б) Красноярск – алюминий - сырьевой;
в) Череповец – сталь - транспортный;
г) Волгоград – олово - потребительский.

1.8. Укажите верное сочетание «порт – вид вывозимого груза».

- а) Мурманск – лес; б) Новороссийск – нефть;
в) Архангельск - руда; г) Дудинка - зерно.

Школьный этап всероссийской олимпиады школьников в 2023 - 2024 уч. г. по географии 10 - 11 класс

1.9. С этого похода в XVI в. Начался период «хождения встреч солнцу», завершившийся выходом к Тихому океану. Кто возглавил этот поход?

- а) Пржевальский; б) Берг; в) Москвитин; г) Беринг.

1.10. Как по-якутски звучит словосочетание «Холм с ледяным ядром»?

- а) отурах; б) курум; в) друмлиин; г) булгуннях.

1.11. Какое животное или растение характерно для скрэба?

- а) баобаб; б) шимпанзе; в) алоэ; г) кенгуру.

1.12. Корабль, на котором было совершено первое кругосветное путешествие – это;

- а) «Виктория»; б) «Санта-Мария»; в) «Надежда»; г) «Золотая Лань».

1.13. Государство Африки, расположенное на двух материках, - это:

- а) Заир; б) Египет; в) Конго; г) Марокко.

1.14. Какое соотношение мужчин и женщин в районах нового освоения?

- а) поровну мужчин и женщин; б) преобладают женщины;
в) преобладают мужчины; г) примерно поровну с преобладанием женщин.

1.15. Субъект, имеющий в своем составе самый маленький процент титульной нации – это:

- а) Республика Татарстан; б) Чеченская республика;
в) Республика Карелия; г) Республика Удмуртия.

1.16. К нефтедобывающим странам относятся:

- а) Аргентина; б) Иран; в) Украина; г) Непал; д) Южная Корея.

1.17. Наибольшими запасами железной руды обладают.

- а) развивающиеся страны; б) развитые страны;
в) новые индустриальные страны.

1.18. Найдите ряд городов, каждый из которых является центром производства легковых автомобилей:

- а) Серпухов, Людиново, Калуга
б) Нижний Новгород, Тольятти, Ульяновск
в) Тольятти, Павлово, Рязань
г) Ульяновск, Ликино-Дулево, Москва

1.19. Материк, на котором нет монархий, - это:

- а) Африка; б) Южная Америка; в) Австралия; г) Северная Америка.

1.20. Определите субъект Российской Федерации по описанию: Здесь начинается крупная река России, впадающая в бессточный бассейн, отсюда родом великий русский путешественник, первым из русских побывавший в Индии, здесь развито льноводство.

- а) Тульская область; б) республика Коми; в) Тверская область;
г) Смоленская область; д) республика Чувашия.

Школьный этап всероссийской олимпиады школьников в 2023-2024 уч. г. по географии 10-11 класс
Аналитический раунд 60 баллов

Задание 2.

Это море играет большую роль в жизни стран и народов, живущих вокруг него. Здесь преобладают народы германской группы, индоевропейской семьи, семь титульных языков этих стран относятся к финно-угорской группе, два – к славянской.

Назовите море и самую населенную страну, берега которой оно омывает, а также страны, являющиеся монархиями и федерациями.

За каждый правильный ответ – 1 балл.

6 баллов

Задание	Ответ
Море	
Самая населенная страна	
Монархии	
Федерации	

Задание 3**6 баллов**

Найдите соответствия: Город - Достопримечательность

1. Владимир	А. Памятник «Тысячелетие России»
2. Волгоград	Б. Эрмитаж
3. Кострома	В. Мамаев Курган
4. Москва	Г. Золотые Ворота
5. Новгород	Д. Ипатьевский монастырь
6. Санкт-Петербург	Е. Колокольня Ивана Великого

1	2	3	4	5	6

Задание 4. Установите соответствие между государством и его характеристикой.

За каждый правильный ответ начисляется 1 балл

6 баллов

Найдите соответствие между правой и левой колонками. Запишите соответствующие буквы в строку ответа.

Государство**Характеристика**

- | | |
|------------|---|
| 1. Польша | а) Государство в составе СНГ |
| 2. Канада | б) Государство – член НАТО |
| 3. Россия | в) Одно из самых развитых государств Европы |
| 4. Франция | г) Государство в составе Содружества |

ШИФР

Школьный этап всероссийской олимпиады школьников в 2023 - 2024 уч. г. по географии 10 - 11 класс

5. Беларусь д) Самое большое государство в мире
6. Германия е) Самое большое государство в Европе

Ответ:

1	2	3	4	5	6

Задание 5.

Этой стране принадлежит самое сухое, самое влажное, самое теплое и самое ветренное место материка, а также самая высокая и низкая точка этого же континента. О какой стране идет речь? Дайте названия районов, обладающих вышеперечисленными характеристиками. Назовите материк.

№	Характеристики	Географический объект
1	Страна	
2	Материк	
3	Самое сухое место	
4	Самое влажное место	
5	Самая низкая точка	
6	Самое холодное место	
7	Самое ветренное место	
8	Самая высокая точка	

За каждый правильный ответ начисляется 1 балл

8 баллов

Задание 6.

На современной карте России нет городов с названиями:

Царицын, Горький, Калинин, Щегловск, Куйбышев, Новониколаевск, Чкалов, Свердловск, Усть-Сысольск, Верхнеудинск, Тойохара. А между тем так когда-то назывались административные центры современных субъектов Российской Федерации. Приведите современные названия этих городов.

Старинное название	Современное название	Старинное название	Современное название
Царицын		Новониколаевск	
Горький		Чкалов	
Калинин		Свердловск	
Щегловск		Усть-Сысольск	
Куйбышев		Верхнеудинск	
Тойхара		Кёнигсберг	

За каждый правильный ответ начисляется 1 балл

12 баллов

ШИФР

Школьный этап всероссийской олимпиады школьников в 2023 - 2024 уч. г. по географии 10 - 11 класс

Задание 9.

1 балл

Эта страна-архипелаг по форме правления является конституционной монархией. Однородное по национальному составу население этой страны отличается большой численностью: она входит в первую десятку населения стран мира. Страна обладает очень крупным и самым современным морским торговым флотом, так как около 9/10 используемого сырья и топлива импортируется.

МАКСИМАЛЬНО ВОЗМОЖНОЕ КОЛИЧЕСТВО БАЛЛОВ за работу: 80

Тридцатемь моря: *Юм* (Фаруша Н.В.)
Шесть моря: *Зум* - (Зайцева Н.Н.)
Арум - (Валеев Ю.И.)⁶

Тестовый раунд
Количество баллов — 20

205.

Задание 1.

Каждый вопрос оцениваем в 1 балл.

105.

№ вопроса	Ответ	№ вопроса	Ответ
1.1.	Д В +	1.11.	Б
1.2.	Д	1.12.	А +
1.3.	В	1.13.	Б
1.4.	В +	1.14.	Б -
1.5.	Г +	1.15.	Д
1.6.	Г -	1.16.	Б +
1.7.	Б	1.17.	Д +
1.8.	Д +	1.18.	Б +
1.9.	А	1.19.	А
1.10.	Г +	1.20.	Б

Аналитический раунд 60 баллов

Задание 2 (6 баллов) 25.

Задание	Ответ
Море	+ Балтийское
Самая населенная страна	Китай
Монархии	Англия
Федерации	+ Российская Нидерландская

Задание 3 (6 баллов) 15.

1	2	3	4	5	6
Г +	А	В	Б	Е	Д

Задание 4 (6 баллов) 40.

1	2	3	4	5	6
Б +	Г +	А +	В	А 1	Е

Курсовый Т.

Задание 5. (8 баллов) *Об.*

№	Характеристики	Географический объект
1	Страна	Россия
2	Материк	Евразия
3	Самое сухое место	пустыня Сахара
4	Самое влажное место	Байкал
5	Самая низкая точка	Марианская впадина
6	Самое холодное место	Антарктида
7	Самое ветреное место	Нью
8	Самая высокая точка	Эверест

Задание 6 (12 баллов) *Зб.*

Старинное название	Современное название	Старинное название	Современное название
Царицын	Киев	Новониколаевск	+ Новосибирск
Горький	+ Нижний Новгород	Чкалов	Узловск
Калинин	град	Свердловск	Светлый
Щегловск	Щеглов	Усть-Сысольск	Усть-Нитнекаменск
Куйбышев	Каманкин	Верхнеудинск	Верхнее Озеро
Тойхара	Шинши	Кёнигсберг	+ Калининград

Задание 7. (9 баллов) *Об.*

№	Названия гор	Географические названия гор
1	«индийские горы»	Ке. Го
2	«крыша мира»	
3	«крыша Африки»	
4	«каменный пояс»	
5	«мать Земли»	Россия
6	«лоб неба»	

Школьный этап всероссийской олимпиады школьников в 2023 - 2024 уч. г. по географии 10 - 11 класс

Общее время выполнения работы – 135 минут.

На задание 1 (тестовый раунд) отводится 45 минут, затем листы с ответами собираются.

На задания 2 – 6 (аналитический раунд) отводится 90 минут. *Желаем успеха!*

52

Тестовый раунд

52

Количество баллов — 20

Задание 1. Задание включает 20 вопросов, к каждому из которых предложено несколько вариантов ответов. На каждый вопрос выберите ответ или ответы, которые вы считаете наиболее полными и правильными. Обведите в кружок буквы выбранных ответов

1.1. Укажите верные пары «страна–гигант по численности населения и ее столица».

- а) Бразилия – Рио-де-Жанейро; б) Пакистан - Исламабад;
 в) Нигерия - Лагос; г) США – Нью-Йорк.

1.2. Федеративным государством не является?

- а) Франция; б) США; в) Индия; г) Германия; д) Мексика.

1.3. Определите страну по описанию. Это полуостровное государство по форме правления является конституционной монархией, относится к НИС («Новым индустриальным странам»).

- а) Саудовская Аравия; б) Мексика; в) Норвегия; г) Тайланд.

1.4. Определите страну по описанию. Это полуостровное государство является конституционной монархией, его береговая линия равна примерно длине экватора, является развитой страной:

- а) Испания; б) Дания; в) Норвегия; г) Швеция.

1.5. Укажите верное сочетание «район – сельскохозяйственные культуры».

- а) Северо-Западный район – рис, соя, виноград;
б) Поволжье – лён, бахчевые, рис;
в) Волго-Вятский район – картофель, рожь, сахарная свекла;
 г) Приморье – соя, рис, овощи.

1.6. Укажите верное сочетание «город – отрасль машиностроения».

- а) Энгельс – производство троллейбусов;
б) Ижевск – авиастроение;
в) Мурманск – автомобилестроение;
 г) Рязань – производство трелевочных тракторов.

1.7. Укажите верное сочетание «город-металл – фактор размещения».

- а) Норильск – никель - энергетический;
б) Красноярск – алюминий - сырьевой;
 в) Череповец – сталь - транспортный;
г) Волгоград – олово - потребительский.

1.8. Укажите верное сочетание «порт – вид вывозимого груза».

- а) Мурманск – лес; б) Новороссийск – нефть;
в) Архангельск - руда; г) Дудинка - зерно.

52

ШИФР

Школьный этап всероссийской олимпиады школьников в 2023 - 2024 уч. г. по географии 10 - 11 класс

1.9. С этого похода в XVI в. Начался период «хождения встреч солнцу», завершившийся выходом к Тихому океану. Кто возглавил этот поход?

- а) Пржевальский; б) Берг; в) Москвитин; г) Беринг.

1.10. Как по-якутски звучит словосочетание «Холм с ледяным ядром»?

- а) отурах; б) курум; в) друмлин; г) булгуннях.

1.11. Какое животное или растение характерно для скрэба?

- а) баобаб; б) шимпанзе; в) алоэ; г) кенгуру.

1.12. Корабль, на котором было совершено первое кругосветное путешествие – это;

- а) «Виктория»; б) «Санта-Мария»; в) «Надежда»; г) «Золотая Лань».

1.13. Государство Африки, расположенное на двух материках, - это:

- а) Заир; б) Египет; в) Конго; г) Марокко.

1.14. Какое соотношение мужчин и женщин в районах нового освоения?

- а) поровну мужчин и женщин; б) преобладают женщины;
 в) преобладают мужчины; г) примерно поровну с преобладанием женщин.

1.15. Субъект, имеющий в своем составе самый маленький процент титульной нации – это:

- а) Республика Татарстан; б) Чеченская республика;
в) Республика Карелия; г) Республика Удмуртия.

1.16. К нефтедобывающим странам относятся:

- а) Аргентина; б) Иран; ~~в) Франция;~~ г) Непал; д) Южная Корея.

1.17. Наибольшими запасами железной руды обладают.

- а) развивающиеся страны; б) развитые страны;
в) новые индустриальные страны.

1.18. Найдите ряд городов, каждый из которых является центром производства легковых автомобилей:

- а) Серпухов, Людиново, Калуга
 б) Нижний Новгород, Тольятти, Ульяновск
в) Тольятти, Павлово, Рязань
г) Ульяновск, Ликино-Дулево, Москва

1.19. Материк, на котором нет монархий, - это:

- а) Африка; б) Южная Америка; в) Австралия; г) Северная Америка.

1.20. Определите субъект Российской Федерации по описанию: Здесь начинается крупная река России, впадающая в бессточный бассейн, отсюда родом великий русский путешественник, первым из русских побывавший в Индии, здесь развито льноводство.

- а) Тульская область; б) республика Коми; в) Тверская область;
г) Смоленская область; д) республика Чувашия.

Задание 2.

Это море играет большую роль в жизни стран и народов, живущих вокруг него. Здесь преобладают народы германской группы, индоевропейской семьи, семь титульных языков этих стран относятся к финно-угорской группе, два – к славянской.

Назовите море и самую населенную страну, берега которой оно омывает, а также страны, являющиеся монархиями и федерациями.

За каждый правильный ответ – 1 балл.

6 баллов

Задание	Ответ
Море	Балтийское
Самая населенная страна	Россия
Монархии	Англия
Федерации	Российская Нидерландская

Задание 3**6 баллов**

Найдите соответствия: Город - Достопримечательность

1. Владимир	А. Памятник «Тысячелетие России»
2. Волгоград	Б. Эрмитаж
3. Кострома	В. Мамаев Курган
4. Москва	Г. Золотые Ворота
5. Новгород	Д. Ипатьевский монастырь
6. Санкт-Петербург	Е. Колокольня Ивана Великого

1	2	3	4	5	6
Г	А	В	Б	Е	Д

Задание 4. Установите соответствие между государством и его характеристикой.

За каждый правильный ответ начисляется 1 балл

6 баллов

Найдите соответствие между правой и левой колонками. Запишите соответствующие буквы в строку ответа.

Государство	Характеристика
1. Польша	а) Государство в составе СНГ
2. Канада	б) Государство – член НАТО
3. Россия	в) Одно из самых развитых государств Европы
4. Франция	г) Государство в составе Содружества

Школьный этап всероссийской олимпиады школьников в 2023-2024 уч. г. по географии 10 - 11 класс

5. Беларусь

д) Самое большое государство в мире

6. Германия

е) Самое большое государство в Европе

Ответ:

1	2	3	4	5	6
Б	Г	А	В	Д	Е

Задание 5.

Этой стране принадлежит самое сухое, самое влажное, самое теплое и самое ветреное место материка, а также самая высокая и низкая точка этого же континента. О какой стране идет речь? Дайте названия районов, обладающих вышеперечисленными характеристиками. Назовите материк.

№	Характеристики	Географический объект
1	Страна	Россия
2	Материк	Евразия
3	Самое сухое место	
4	Самое влажное место	
5	Самая низкая точка	
6	Самое холодное место	Антарктида
7	Самое ветреное место	Нью
8	Самая высокая точка	Эверест

За каждый правильный ответ начисляется 1 балл

8 баллов

Задание 6.

На современной карте России нет городов с названиями:

Царицын, Горький, Калинин, Щегловск, Куйбышев, Новониколаевск, Чкалов, Свердловск, Усть-Сысольск, Верхнеудинск, Тойохара. А между тем так когда-то назывались административные центры современных субъектов Российской Федерации.

Приведите современные названия этих городов.

Старинное название	Современное название	Старинное название	Современное название
Царицын	Киев	Новониколаевск	Новосибирск
Горький	Саратов	Чкалов	Чкаловск
Калинин	Город Нижний Новгород	Свердловск	Светлогорск
Щегловск	Щеглов	Усть-Сысольск	Усть-Нижнекамск
Куйбышев	Казань	Верхнеудинск	Великий Устюг
Тойохара	Томск	Кёнигсберг	Калининград

За каждый правильный ответ начисляется 1 балл

12 баллов

ШИФР

Школьный этап всероссийской олимпиады школьников в 2023 -2024 уч. г. по географии 10 - 11 класс

Задание 9.

1 балл

Эта страна-архипелаг по форме правления является конституционной монархией. Однородное по национальному составу население этой страны отличается большой численностью: она входит в первую десятку населения стран мира. Страна обладает очень крупным и самым современным морским торговым флотом, так как около 9/10 используемого сырья и топлива импортируется.

МАКСИМАЛЬНО ВОЗМОЖНОЕ КОЛИЧЕСТВО БАЛЛОВ за работу: 80

Территория моря: Япон (Франция КВ.)
Члены моря: Зен (Зайцево Н.А.)
Флот (Велик Ю.Ч.)

ГЕО110101

Тестовый раунд

Количество баллов — 20

Задание 1.

Каждый вопрос оцениваем в 1 балл.

56

№ вопроса	Ответ	№ вопроса	Ответ
1.1.	5 16	1.11.	в
1.2.	g	1.12.	5
1.3.	d	1.13.	5 16
1.4.	5	1.14.	в 16
1.5.	2 16	1.15.	2
1.6.	2	1.16.	5 16
1.7.	в	1.17.	d
1.8.	d	1.18.	2
1.9.	2 (Берлин)	1.19.	в
1.10.	5	1.20.	2

Аналитический раунд 60 баллов

Задание 2 (6 баллов).

56

Задание	Ответ
Море	Балтийское 15
Самая населенная страна	Германия 15
Монархии	Дания 15
	Швеция 15
Федерации	Германия 15
	Браз 15

Задание 3 (6 баллов)

16

1	2	3	4	5	6
A	B 16	A 15	БЕ 15	Г	Б 15

Задание 4 (6 баллов)

16

1	2	3	4	5	6
5 15	2 15	g 15	e 15	d 15	в 15

Задание 5. (8 баллов)

№	Характеристики	Географический объект
1	Страна	Австралия
2	Материк	Австралия
3	Самое сухое место	
4	Самое влажное место	
5	Самая низкая точка	
6	Самое холодное место	
7	Самое ветреное место	
8	Самая высокая точка	

Задание 6 (12 баллов)

Старинное название	Современное название	Старинное название	Современное название
Царицын	Волгоград	Новониколаевск	Новосибирск
Горький	Кимский Волгоград	Чкалов	Оренбург
Калинин	Ижевск	Свердловск	Екатеринбург
Щегловск	Камеяково	Усть-Сысольск	
Куйбышев	Самара	Верхнеудинск	Улан-Удэ
Тойхара	Южно-Сахалинск	Кёнигсберг	Калининград

Задание 7. (9 баллов)

№	Названия гор	Географические названия гор
1	«индийские горы»	Гималаи
2	«крыша мира»	Гангес
3	«крыша Африки»	Эфиопские горы
4	«каменный пояс»	Анды Уральские горы
5	«мать Земли»	Эверест
6	«лоб неба»	Сарнатх

Презсерамента тюрки: Бн = Градский
Имена тюрки: Кн = Волк
Зн = Забисев

Школьный этап всероссийской олимпиады школьников в 2023 -2024 уч. г. по географии 10 - 11 класс

1.9. С этого похода в XVI в. Начался период «хождения встреч солнцу», завершившийся выходом к Тихому океану. Кто возглавил этот поход?

- а) Пржевальский; б) Берг; в) Москвитин; г) Беринг.

1.10. Как по-якутски звучит словосочетание «Холм с ледяным ядром»?

- а) отурях; б) курум; в) друмлин; г) булгуннях.

1.11. Какое животное или растение характерно для скрэба?

- а) баобаб; б) шимпанзе; в) алоэ; г) кенгуру.

1.12. Корабль, на котором было совершено первое кругосветное путешествие – это;

- а) «Виктория»; б) «Санта-Мария»; в) «Надежда»; г) «Золотая Лань».

1.13. Государство Африки, расположенное на двух материках, - это:

- а) Заир; б) Египет; в) Конго; г) Марокко.

1.14. Какое соотношение мужчин и женщин в районах нового освоения?

- а) поровну мужчин и женщин; б) преобладают женщины;
в) преобладают мужчины; г) примерно поровну с преобладанием женщин.

1.15. Субъект, имеющий в своем составе самый маленький процент титульной нации – это:

- а) Республика Татарстан; б) Чеченская республика;
в) Республика Карелия; г) Республика Удмуртия.

1.16. К нефтедобывающим странам относятся:

- а) Аргентина; б) Иран; в) Украина; г) Непал; д) Южная Корея.

1.17. Наибольшими запасами железной руды обладают.

- а) развивающиеся страны; б) развитые страны;
в) новые индустриальные страны.

1.18. Найдите ряд городов, каждый из которых является центром производства легковых автомобилей:

- а) Серпухов, Людиново, Калуга
б) Нижний Новгород, Тольятти, Ульяновск
в) Тольятти, Павлово, Рязань
г) Ульяновск, Ликино-Дулево, Москва

1.19. Материк, на котором нет монархий, - это:

- а) Африка; б) Южная Америка; в) Австралия; г) Северная Америка.

1.20. Определите субъект Российской Федерации по описанию: Здесь начинается крупная река России, впадающая в бессточный бассейн, отсюда родом великий русский путешественник, первым из русских побывавший в Индии, здесь развито льноводство.

- а) Тульская область; б) республика Коми; в) Тверская область;
г) Смоленская область; д) республика Чувашия.

Задание 2.

Это море играет большую роль в жизни стран и народов, живущих вокруг него. Здесь преобладают народы германской группы, индоевропейской семьи, семь титульных языков этих стран относятся к финно-угорской группе, два – к славянской.

Назовите море и самую населенную страну, берега которой оно омывает, а также страны, являющиеся монархиями и федерациями.

За каждый правильный ответ – 1 балл.

6 баллов

Задание	Ответ
Море	Балтийское
Самая населенная страна	Россия
Монархии	Дания, Швеция
Федерации	ГР, Литва, Латвия, Эстония, Финляндия, Польша, Германия

Задание 3

6 баллов

Найдите соответствия: Город - Достопримечательность

1. Владимир	А. Памятник «Тысячелетие России»
2. Волгоград	Б. Эрмитаж
3. Кострома	В. Мамаев Курган
4. Москва	Г. Золотые Ворота
5. Новгород	Д. Ипатьевский монастырь
6. Санкт-Петербург ✓	Е. Колокольня Ивана Великого

1	2	3	4	5	6
	В				

Задание 4. Установите соответствие между государством и его характеристикой.

За каждый правильный ответ начисляется 1 балл

6 баллов

Найдите соответствия между правой и левой колонками. Запишите соответствующие буквы в строку ответа.

Государство	Характеристика
1. Польша	а) Государство в составе СНГ
2. Канада	б) Государство – член НАТО
3. Россия	в) Одно из самых развитых государств Европы
4. Франция	г) Государство в составе Содружества

ШИФР

ГЕО110101

Школьный этап всероссийской олимпиады школьников в 2023 - 2024 уч. г. по географии 10 - 11 класс*

~~5. Беларусь~~~~д) Самое большое государство в мире~~~~6. Германия~~

е) Самое большое государство в Европе

Ответ:

1	2	3	4	5	6
б	в	г	е	д	в

Задание 5.

Этой стране принадлежит самое сухое, самое влажное, самое теплое и самое ветреное место материка, а также самая высокая и низкая точка этого же континента. О какой стране идет речь? Дайте названия районов, обладающих вышеперечисленными характеристиками. Назовите материк.

№	Характеристики	Географический объект
1	Страна	Австралия*
2	Материк	Евразия Австралия
3	Самое сухое место	
4	Самое влажное место	
5	Самая низкая точка	
6	Самое холодное место	
7	Самое ветреное место	
8	Самая высокая точка	

За каждый правильный ответ начисляется 1 балл

8 баллов

Задание 6.

На современной карте России нет городов с названиями:

Царицын, Горький, Калинин, Щегловск, Куйбышев, Новониколаевск, Чкалов, Свердловск, Усть-Сысольск, Верхнеудинск, Тойохара. А между тем так когда-то назывались административные центры современных субъектов Российской Федерации. Приведите современные названия этих городов.

Старинное название	Современное название	Старинное название	Современное название
Царицын		Новониколаевск	
Горький		Чкалов	
Калинин		Свердловск	
Щегловск		Усть-Сысольск	
Куйбышев		Верхнеудинск	
Тойохара		Кёнигсберг	Калининград

За каждый правильный ответ начисляется 1 балл

12 баллов

ШИФР

ГЕ0110101

Школьный этап всероссийской олимпиады школьников в 2023 -2024 уч. г. по географии 10 - 11 класс

Задание 9.

1 балл

Эта страна-архипелаг по форме правления является конституционной монархией. Однородное по национальному составу население этой страны отличается большой численностью: она входит в первую десятку населения стран мира. Страна обладает очень крупным и самым современным морским торговым флотом, так как около 9/10 используемого сырья и топлива импортируется.

Индонезия

МАКСИМАЛЬНО ВОЗМОЖНОЕ КОЛИЧЕСТВО БАЛЛОВ за работу: 80

325

ТЕСТЫ МЕД 11 0105

06

Тестовый раунд

Количество баллов — 20

Задание 1.

Каждый вопрос оцениваем в 1 балл.

№ вопроса	Ответ	№ вопроса	Ответ
1.1.	B 16	1.11.	B
1.2.	Д	1.12.	A 16
1.3.	Г 16	1.13.	Д 16
1.4.	B 16	1.14.	Г
1.5.	A	1.15.	Г
1.6.	Г	1.16.	Д, Г 06
1.7.	A	1.17.	а
1.8.	A	1.18.	B
1.9.	B 16	1.19.	Г
1.10.	Д 06	1.20.	9

Аналитический раунд 60 баллов

Задание 2 (6 баллов).

Задание	Ответ
Море	Средиземное Балтийское 16
Самая населенная страна	Китай. 16
Монархии	Япония. 16
	Швейцария. 16
Федерации	Германия. 16
	Китай. 16

Задание 3 (6 баллов)

1	2	3	4	5	6
Г 16	B 16	А 16	Б 06	Е 06	А 06

Задание 4 (6 баллов)

1	2	3	4	5	6
Д 16	Г 15	9 16	е 16	а 16	В 15

Задание 5. (8 баллов)

№	Характеристики	Географический объект
1	Страна	Монголия
2	Материк	Евразия.
3	Самое сухое место	
4	Самое влажное место	
5	Самая низкая точка	
6	Самое холодное место	
7	Самое ветреное место	
8	Самая высокая точка	

Задание 6 (12 баллов)

Старинное название	Современное название	Старинное название	Современное название
Царицын 16	Волгоград	Новониколаевск	Новосибирск 15
Горький 16	Нижегород	Чкалов	
Калинин 18	Ижевск	Свердловск	
Щегловск 16	Кемерово	Усть-Сысольск	
Куйбышев		Верхнеудинск	
Тойхара		Кёнигсберг	Калининград 15

Задание 7. (9 баллов)

№	Названия гор	Географические названия гор
1	«индийские горы»	Гималаи
2	«крыша мира»	Тибет 16
3	«крыша Африки»	Атлас
4	«каменный пояс»	Уралы 16
5	«мать Земли»	Эверест 16
6	«лоб неба»	Эверест

Школьный этап всероссийской олимпиады школьников в 2023 - 2024 уч. г. по географии 10 - 11 класс

Общее время выполнения работы – 135 минут.

На задание 1 (тестовый раунд) отводится 45 минут, затем листы с ответами собираются.

На задания 2 – 6 (аналитический раунд) отводится 90 минут. *Желаем успеха!*

Тестовый раунд

Количество баллов — 20

Задание 1. Задание включает 20 вопросов, к каждому из которых предложено несколько вариантов ответов. На каждый вопрос выберите ответ или ответы, которые вы считаете наиболее полными и правильными. Обведите в кружок буквы выбранных ответов

1.1. Укажите верные пары «страна–гигант по численности населения и ее столица».

- а) Бразилия – Рио-де-Жанейро; б) Пакистан - Исламабад;
в) Нигерия - Лагос; г) США – Нью-Йорк.

1.2. Федеративным государством не является?

- а) Франция; б) США; в) Индия; г) Германия; д) Мексика.

1.3. Определите страну по описанию. Это полуостровное государство по форме правления является конституционной монархией, относится к НИС («Новым индустриальным странам»).

- а) Саудовская Аравия; б) Мексика; в) Норвегия; г) Тайланд.

1.4. Определите страну по описанию. Это полуостровное государство является конституционной монархией, его береговая линия равна примерно длине экватора, является развитой страной:

- а) Испания; б) Дания; в) Норвегия; г) Швеция.

1.5. Укажите верное сочетание «район – сельскохозяйственные культуры».

- а) Северо-Западный район – рис, соя, виноград;
б) Поволжье – лён, бахчевые, рис;
в) Волго-Вятский район – картофель, рожь, сахарная свекла;
г) Приморье – соя, рис, овощи.

1.6. Укажите верное сочетание «город – отрасль машиностроения».

- а) Энгельс – производство троллейбусов;
б) Ижевск – авиастроение;
в) Мурманск – автомобилестроение;
г) Рязань – производство трелевочных тракторов.

1.7. Укажите верное сочетание «город-металл – фактор размещения».

- а) Норильск – никель - энергетический;
б) Красноярск – алюминий - сырьевой;
в) Череповец – сталь - транспортный;
г) Волгоград – олово - потребительский.

1.8. Укажите верное сочетание «порт – вид вывозимого груза».

- а) Мурманск – лес; б) Новороссийск – нефть;
в) Архангельск - руда; г) Дудинка - зерно.

Школьный этап всероссийской олимпиады школьников в 2023 -2024 уч. г. по географии 10 - 11 класс

1.9. С этого похода в XVI в. Начался период «хождения встреч солнцу», завершившийся выходом к Тихому океану. Кто возглавил этот поход?

- а) Пржевальский; б) Берг; в) Москвитин; г) Беринг.

1.10. Как по-якутски звучит словосочетание «Холм с ледяным ядром»?

- а) отурах; б) курум; в) друмлин; г) булгуннях.

1.11. Какое животное или растение характерно для скрэба?

- а) баобаб; б) шимпанзе; в) алоэ; г) кенгуру.

1.12. Корабль, на котором было совершено первое кругосветное путешествие – это;

- а) «Виктория»; б) «Санта-Мария»; в) «Надежда»; г) «Золотая Лань».

1.13. Государство Африки, расположенное на двух материках, - это:

- а) Заир; б) Египет; в) Конго; г) Марокко.

1.14. Какое соотношение мужчин и женщин в районах нового освоения?

- а) поровну мужчин и женщин; б) преобладают женщины;
в) преобладают мужчины; г) примерно поровну с преобладанием женщин.

1.15. Субъект, имеющий в своем составе самый маленький процент титульной нации – это:

- а) Республика Татарстан; б) Чеченская республика;
в) Республика Карелия; г) Республика Удмуртия.

1.16. К нефтедобывающим странам относятся:

- а) Аргентина; б) Иран; в) Украина; г) Непал; д) Южная Корея.

1.17. Наибольшими запасами железной руды обладают.

- а) развивающиеся страны; б) развитые страны;
в) новые индустриальные страны.

1.18. Найдите ряд городов, каждый из которых является центром производства легковых автомобилей:

- а) Серпухов, Людиново, Калуга
б) Нижний Новгород, Тольятти, Ульяновск
в) Тольятти, Павлово, Рязань
г) Ульяновск, Ликино-Дулево, Москва

1.19. Материк, на котором нет монархий, - это:

- а) Африка; б) Южная Америка; в) Австралия; г) Северная Америка.

1.20. Определите субъект Российской Федерации по описанию: Здесь начинается крупная река России, впадающая в бессточный бассейн, отсюда родом великий русский путешественник, первым из русских побывавший в Индии, здесь развито льноводство.

- а) Тульская область; б) республика Коми; в) Тверская область;
г) Смоленская область; д) республика Чувашия.

Задание 2.

Это море играет большую роль в жизни стран и народов, живущих вокруг него. Здесь преобладают народы германской группы, индоевропейской семьи, семь титульных языков этих стран относятся к финно-угорской группе, два – к славянской.

Назовите море и самую населенную страну, берега которой оно омывает, а также страны, являющиеся монархиями и федерациями.

За каждый правильный ответ – 1 балл.

6 баллов

Задание	Ответ
Море	
Самая населенная страна	
Монархии	
Федерации	

Задание 3**6 баллов**

Найдите соответствия: Город - Достопримечательность

1. Владимир	А. Памятник «Тысячелетие России»
2. Волгоград	Б. Эрмитаж
3. Кострома	В. Мамаев Курган
4. Москва	Г. Золотые Ворота
5. Новгород	Д. Ипатьевский монастырь
6. Санкт-Петербург	Е. Колокольня Ивана Великого

1	2	3	4	5	6

Задание 4. Установите соответствие между государством и его характеристикой.

За каждый правильный ответ начисляется 1 балл

6 баллов

Найдите соответствие между правой и левой колонками. Запишите соответствующие буквы в строку ответа.

Государство

- Польша
- Канада
- Россия
- Франция

Характеристика

- Государство в составе СНГ
- Государство – член НАТО
- Одно из самых развитых государств Европы
- Государство в составе Содружества

ШИФР

Школьный этап всероссийской олимпиады школьников в 2023 -2024 уч. г. по географии 10 - 11 класс

5. Беларусь д) Самое большое государство в мире
6. Германия е) Самое большое государство в Европе

Ответ:

1	2	3	4	5	6

Задание 5.

Этой стране принадлежит самое сухое, самое влажное, самое теплое и самое ветреное место материка, а также самая высокая и низкая точка этого же континента. О какой стране идет речь? Дайте названия районов, обладающих вышеперечисленными характеристиками. Назовите материк.

№	Характеристики	Географический объект
1	Страна	
2	Материк	
3	Самое сухое место	
4	Самое влажное место	
5	Самая низкая точка	
6	Самое холодное место	
7	Самое ветреное место	
8	Самая высокая точка	

За каждый правильный ответ начисляется 1 балл

8 баллов

Задание 6.

На современной карте России нет городов с названиями:

Царицын, Горький, Калинин, Щегловск, Куйбышев, Новониколаевск, Чкалов, Свердловск, Усть-Сысольск, Верхнеудинск, Тойохара. А между тем так когда-то назывались административные центры современных субъектов Российской Федерации.

Приведите современные названия этих городов.

Старинное название	Современное название	Старинное название	Современное название
Царицын		Новониколаевск	
Горький		Чкалов	
Калинин		Свердловск	
Щегловск		Усть-Сысольск	
Куйбышев		Верхнеудинск	
Тойхара		Кёнигсберг	

За каждый правильный ответ начисляется 1 балл

12 баллов

ШИФР

Школьный этап всероссийской олимпиады школьников в 2023 -2024 уч. г. по географии 10 - 11 класс

Задание 9.

1 балл

Эта страна-архипелаг по форме правления является конституционной монархией. Однородное по национальному составу население этой страны отличается большой численностью: она входит в первую десятку населения стран мира. Страна обладает очень крупным и самым современным морским торговым флотом, так как около 9/10 используемого сырья и топлива импортируется.

МАКСИМАЛЬНО ВОЗМОЖНОЕ КОЛИЧЕСТВО БАЛЛОВ за работу: 80

306

Тестовый раунд

Количество баллов — 20

Задание 1.

Каждый вопрос оцениваем в 1 балл.

№ вопроса	Ответ	№ вопроса	Ответ
1.1.	В 1б	1.11.	В
1.2.	В	1.12.	В
1.3.	а	1.13.	В 1б
1.4.	а	1.14.	В 1б
1.5.	В	1.15.	В 1б
1.6.	В	1.16.	В 1б
1.7.	а	1.17.	В
1.8.	2	1.18.	В 1б
1.9.	В 1б	1.19.	2
1.10.	2 1б	1.20.	В 1б

Аналитический раунд 60 баллов

Задание 2 (6 баллов).

Задание	Ответ
Море	Балтийское 1б
Самая населенная страна	Германия 1б
Монархии	Швеция 1б
	Дания 1б
Федерации	РФ 1б
	Ринландия

Задание 3 (6 баллов)

1	2	3	4	5	6
Б 1б	В 1б	Е 1б	А 1б	А 1б	Б 1б

Задание 4 (6 баллов)

1	2	3	4	5	6
В 1б	2 1б	д 1б	е 1б	а 1б	В 1б

Задание 5. (8 баллов)

№	Характеристики	Географический объект
1	Страна	
2	Материк	
3	Самое сухое место	
4	Самое влажное место	
5	Самая низкая точка	
6	Самое холодное место	
7	Самое ветренное место	
8	Самая высокая точка	

Задание 6 (12 баллов)

Старинное название	Современное название	Старинное название	Современное название
Царицын 15	Волгоград Сталинград	Новониколаевск	
Горький		Чкалов 15	Оренбург
Калинин	Тверь 15	Свердловск	
Щегловск		Усть-Сысольск	
Куйбышев		Верхнеудинск	
Тойхара		Кёнигсберг 15	Калининград

Задание 7. (9 баллов)

№	Названия гор	Географические названия гор
1	«индийские горы»	Гималаи 05
2	«крыша мира»	
3	«крыша Африки»	Эфиопское нагорье 15
4	«каменный пояс»	Уральские горы 15
5	«мать Земли»	Эверест 15
6	«лоб неба»	

Председатель жюри: Г-н Григорин

Члены жюри: К. Волк
И. Забсва

Школьный этап всероссийской олимпиады школьников в 2023 - 2024 уч. г. по географии 10 - 11 класс

Общее время выполнения работы – 135 минут.

На задание 1 (тестовый раунд) отводится 45 минут, затем листы с ответами собираются.

На задания 2 –6 (аналитический раунд) отводится 90 минут. *Желаем успеха!*

Тестовый раунд

Количество баллов — 20

Задание 1. Задание включает 20 вопросов, к каждому из которых предложено несколько вариантов ответов. На каждый вопрос выберите ответ или ответы, которые вы считаете наиболее полными и правильными. Обведите в кружок буквы выбранных ответов

1.1. Укажите верные пары «страна–гигант по численности населения и ее столица».

- а) Бразилия – Рио-де-Жанейро; б) Пакистан - Исламабад;
в) Нигерия - Лагос; г) США – Нью-Йорк.

1.2. Федеративным государством не является?

- а) Франция; б) США; в) Индия; г) Германия; д) Мексика.

1.3. Определите страну по описанию. Это полуостровное государство по форме правления является конституционной монархией, относится к НИС («Новым индустриальным странам»).

- а) Саудовская Аравия; б) Мексика; в) Норвегия; г) Тайланд.

1.4. Определите страну по описанию. Это полуостровное государство является конституционной монархией, его береговая линия равна примерно длине экватора, является развитой страной:

- а) Испания; б) Дания; в) Норвегия; г) Швеция.

1.5. Укажите верное сочетание «район – сельскохозяйственные культуры».

- а) Северо-Западный район – рис, соя, виноград;
б) Поволжье – лён, бахчевые, рис;
в) Волго-Вятский район – картофель, рожь, сахарная свекла;
г) Приморье – соя, рис, овощи.

1.6. Укажите верное сочетание «город – отрасль машиностроения».

- а) Энгельс – производство троллейбусов;
б) Ижевск – авиастроение;
в) Мурманск – автомобилестроение;
г) Рязань – производство трелевочных тракторов.

1.7. Укажите верное сочетание «город-металл – фактор размещения».

- а) Норильск – никель - энергетический;
б) Красноярск – алюминий - сырьевой;
в) Череповец – сталь - транспортный;
г) Волгоград – олово - потребительский.

1.8. Укажите верное сочетание «порт – вид вывозимого груза».

- а) Мурманск – лес; б) Новороссийск – нефть;
в) Архангельск - руда; г) Дудинка - зерно.

Школьный этап всероссийской олимпиады школьников в 2023 - 2024 уч. г. по географии 10 - 11 класс

1.9. С этого похода в XVI в. Начался период «хождения встреч солнцу», завершившийся выходом к Тихому океану. Кто возглавил этот поход?

- а) Пржевальский; б) Берг; в) Москвитин; г) Беринг.

1.10. Как по-якутски звучит словосочетание «Холм с ледяным ядром»?

- а) отурах; б) курум; в) друмлин; г) булгуннях.

1.11. Какое животное или растение характерно для скрэба?

- а) баобаб; б) шимпанзе; в) алоэ; г) кенгуру.

1.12. Корабль, на котором было совершено первое кругосветное путешествие – это;

- а) «Виктория»; б) «Санта-Мария»; в) «Надежда»; г) «Золотая Лань».

1.13. Государство Африки, расположенное на двух материках, - это:

- а) Заир; б) Египет; в) Конго; г) Марокко.

1.14. Какое соотношение мужчин и женщин в районах нового освоения?

- а) поровну мужчин и женщин; б) преобладают женщины;
 в) преобладают мужчины; г) примерно поровну с преобладанием женщин.

1.15. Субъект, имеющий в своем составе самый маленький процент титульной нации – это:

- а) Республика Татарстан; б) Чеченская республика;
 в) Республика Карелия; г) Республика Удмуртия.

1.16. К нефтедобывающим странам относятся:

- а) Аргентина; б) Иран; в) Украина; г) Непал; д) Южная Корея.

1.17. Наибольшими запасами железной руды обладают.

- а) развивающиеся страны; б) развитые страны;
 в) новые индустриальные страны.

1.18. Найдите ряд городов, каждый из которых является центром производства легковых автомобилей:

- а) Серпухов, Людиново, Калуга
 б) Нижний Новгород, Тольятти, Ульяновск
в) Тольятти, Павлово, Рязань
г) Ульяновск, Ликино-Дулево, Москва

1.19. Материк, на котором нет монархий, - это:

- а) Африка; б) Южная Америка; в) Австралия; г) Северная Америка.

1.20. Определите субъект Российской Федерации по описанию: Здесь начинается крупная река России, впадающая в бессточный бассейн, отсюда родом великий русский путешественник, первым из русских побывавший в Индии, здесь развито льноводство.

- а) Тульская область; б) республика Коми; в) Тверская область;
г) Смоленская область; д) республика Чувашия.

Аналитический раунд 60 баллов**Задание 2.**

Это море играет большую роль в жизни стран и народов, живущих вокруг него. Здесь преобладают народы германской группы, индоевропейской семьи, семь титульных языков этих стран относятся к финно-угорской группе, два – к славянской.

Назовите море и самую населенную страну, берега которой оно омывает, а также страны, являющиеся монархиями и федерациями.

За каждый правильный ответ – 1 балл.

6 баллов

Задание	Ответ
Море	Балтийское
Самая населенная страна	Германия
Монархии	Швейцария
	Дания
Федерации	РФ
	Нидерланды

Задание 3

6 баллов

Найдите соответствия: Город - Достопримечательность

1. Владимир	А. Памятник «Тысячелетие России»
2. Волгоград	Б. Эрмитаж
3. Кострома	В. Мамаев Курган
4. Москва	Г. Золотые Ворота
5. Новгород	Д. Ипатьевский монастырь
6. Санкт-Петербург	Е. Колокольня Ивана Великого

1	2	3	4	5	6
В	Г	Е	А	Д	Б

Задание 4. Установите соответствие между государством и его характеристикой.

За каждый правильный ответ начисляется 1 балл

6 баллов

Найдите соответствие между правой и левой колонками. Запишите соответствующие буквы в строку ответа.

Государство**Характеристика**

- Польша
- Канада
- Россия
- Франция

- Государство в составе СНГ
- Государство – член НАТО
- Одно из самых развитых государств Европы
- Государство в составе Содружества

ШИФР

Школьный этап всероссийской олимпиады школьников в 2023 - 2024 уч. г. по географии 10 - 11 класс

5. Беларусь д) Самое большое государство в мире
6. Германия е) Самое большое государство в Европе

Ответ:

1	2	3	4	5	6
б	г	д	е	а	в

Задание 5.

Этой стране принадлежит самое сухое, самое влажное, самое теплое и самое ветреное место материка, а также самая высокая и низкая точка этого же континента. О какой стране идет речь? Дайте названия районов, обладающих вышеперечисленными характеристиками. Назовите материк.

№	Характеристики	Географический объект
1	Страна	
2	Материк	
3	Самое сухое место	
4	Самое влажное место	
5	Самая низкая точка	
6	Самое холодное место	
7	Самое ветреное место	
8	Самая высокая точка	

За каждый правильный ответ начисляется 1 балл

8 баллов

Задание 6.

На современной карте России нет городов с названиями: Царицын, Горький, Калинин, Щегловск, Куйбышев, Новониколаевск, Чкалов, Свердловск, Усть-Сысольск, Верхнеудинск, Тойохара. А между тем так когда-то назывались административные центры современных субъектов Российской Федерации. Приведите современные названия этих городов.

Старинное название	Современное название	Старинное название	Современное название
Царицын	Екатеринбург	Новониколаевск	
Горький		Чкалов	
Калинин		Свердловск	
Щегловск		Усть-Сысольск	
Куйбышев		Верхнеудинск	
Тойхара		Кёнигсберг	Калининград

За каждый правильный ответ начисляется 1 балл

12 баллов

Задание 9.**1 балл**

Эта страна-архипелаг по форме правления является конституционной монархией. Однородное по национальному составу население этой страны отличается большой численностью: она входит в первую десятку населения стран мира. Страна обладает очень крупным и самым современным морским торговым флотом, так как около 9/10 используемого сырья и топлива импортируется.

Вануату *Унаки*

МАКСИМАЛЬНО ВОЗМОЖНОЕ КОЛИЧЕСТВО БАЛЛОВ за работу: 80